



<b>Anotace:</b>	Materiál obsahuje pracovní list zaměřený na poznávání a pojmenování základních rovinných útvarů - kruh, čtverec, obdélník, trojúhelník, vyhledávání určitých tvarů v okolí, třídění obrázků podle tvaru.
<b>Šablona:</b>	III/2
<b>Název:</b>	Inovace a zkvalitnění výuky prostřednictvím ICT
<b>Téma:</b>	Základní geometrické tvary
<b>Autor:</b>	Mgr. Helena Rudolfová
<b>Očekávaný výstup:</b>	Rozezná, pojmenuje, vymodeluje základní rovinné útvary a jednoduchá tělesa, nachází v realitě jejich uplatnění
<b>Klíčová slova:</b>	Kruh, čtverec, obdélník, trojúhelník
<b>Druh učebního materiálu:</b>	Pracovní list
<b>Cílová skupina:</b>	žák 1. stupně ZŠ
<b>Ročník:</b>	1. ročník
<b>Datum vytvoření:</b>	14.11. 2011
<b>Použité zdroje a materiál:</b>	PhDr. KASLOVÁ, Michaela; PaedDr. FIALOVÁ, Dana. Procvičujeme si... : Geometrie a slovní úlohy. 1. Praha : SPN - pedagogické nakladatelství, a. s., 2004. 40 s. ISBN 80-7235-243-1 ROSECKÁ, Zdena, et al. Matematika : Učebnice pro 1. ročník. Brno : Nová škola, 2007. 109 s. ISBN 80-85607-90-5 <u>Pejsek</u> - <a href="http://openclipart.org/detail/2766/big-earred-dog-by-johnny_automatic">http://openclipart.org/detail/2766/big-earred-dog-by-johnny_automatic</a> , 14.11.2011 <u>Kočka</u> - <a href="http://openclipart.org/detail/318/cartoon-cat-sitting-by-gerald_g">http://openclipart.org/detail/318/cartoon-cat-sitting-by-gerald_g</a> , 14.11.2011 <u>Sova</u> - <a href="http://openclipart.org/detail/166364/owl-by-karthikeyan">http://openclipart.org/detail/166364/owl-by-karthikeyan</a> , 14.11.2011


# Základní geometrické tvary



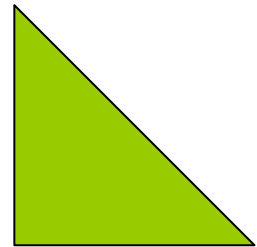
ČTVEREC



OBDELNÍK




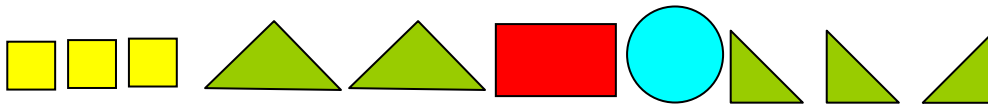

KRUH



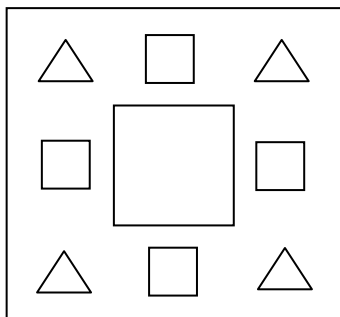
TROJÚHELNÍK

Zvířátka se učí geometrii.

Vyjmenuj jednotlivé obrazce u značky s pejskem, kočkou a sovou. Říkej, kolik kterých je. Urči, kolik obrazců je na řádku nejméně, nejvíce.





Kolik čtverců je na obrázku? Obtáhni je červeně a označ správný počet čtverců:



1 2 3 4 5 6

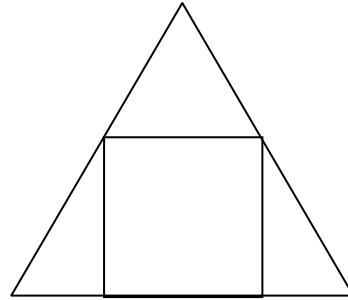
Kolik trojúhelníků je na obrázcích? Počet zapiš pod obrázek.

1. Obtáhni  modře.



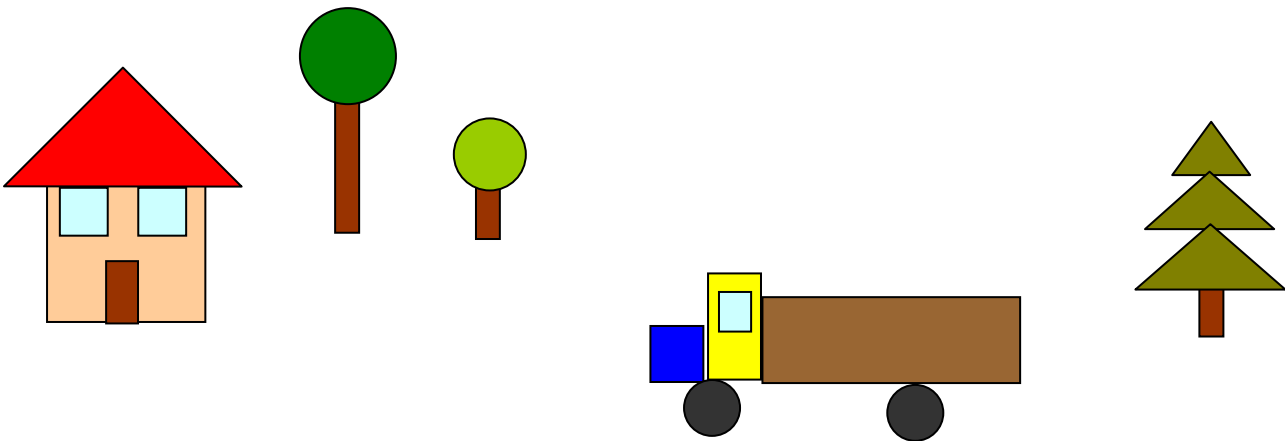
\_\_\_\_\_

2. Obtáhni  zeleně.



\_\_\_\_\_

Popiš, z jakých tvarů se skládají obrázky.



Rozhlédni se kolem sebe. Vidiš nějaké geometrické tvary kolem sebe?