

Anotace:	Materiál obsahuje pracovní list zaměřený na vztahy o několik více, méně. V úkolech mají žáci nakreslit o n- více obrázků a zapsat příklad nebo škrtnout tolik obrázků, aby bylo o n- méně, dále přiřazovat číslo o n- menší či větší k danému číslu, přiřadit menší, větší čísla k danému číslu a doplnit o kolik je menší, větší.
Šablona:	III/2
Název:	Inovace a zkvalitnění výuky prostřednictvím ICT
Téma:	Vztahy o n- více, méně
Autor:	Mgr. Helena Rudolfová
Očekávaný výstup:	Žáci dokreslí správný počet prvků nebo škrtnou tolik, aby bylo o n- více, méně a zapíše příklad, k daným číslům přiřadí číslo o n- větší, menší, určí o kolik je číslo větší, menší.
Klíčová slova:	O několik více, méně
Druh učebního materiálu:	Pracovní list
Cílová skupina:	žák 1. stupně ZŠ
Ročník:	1. ročník
Datum vytvoření:	11.6.2012
Použité zdroje a materiál:	Kočka - http://openclipart.org/detail/318/cartoon-cat-sitting-by-gerald_g , 11.6.2012 Zvoneček - http://openclipart.org/detail/21978/bell-by-nicubunu , 11.6.2012 Strom - http://openclipart.org/detail/26259/tree-with-fruits-by-anonymous-26259 , 11.6.2012 Nanuk - http://openclipart.org/detail/16997/glace_2-by-jean_victor_balin , 11.6.2012 Kytka - http://openclipart.org/detail/157843/pink-sun-flower-by-arcroid-157843 , 11.6.2012



evropský
sociální
fond v ČR



EVROPSKÁ UNIE



MINISTERSTVO ŠKOLSTVÍ,
MLÁDEŽE A TĚLOVÝCHOVY



OP Vzdělávání
pro konkurenceschopnost

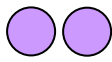
INVESTICE DO ROZVOJE VZDĚLÁVÁNÍ

VY_32_INOVACE_M1_2_17


Vztahy o n- více, méně

1. Nakresli podle pokynů. Zapiš a vypočítej příklady.


o 7 více

	
	$2 + 7 =$

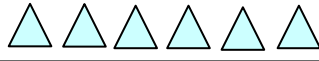
o 2 více


o 6 více





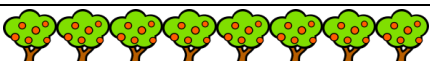



o 3 více

o 4 více

2. Škrtni obrázky tak, aby v každém řádku bylo o 4 méně. Zapiš a vypočítej příklady.



evropský
sociální
fond v ČR



EVROPSKÁ UNIE



MINISTERSTVO ŠKOLSTVÍ,
MLÁDEŽE A TĚLOVÝCHOVY



OP Vzdělávání
pro konkurenceschopnost

INVESTICE DO ROZVOJE VZDĚLÁVÁNÍ

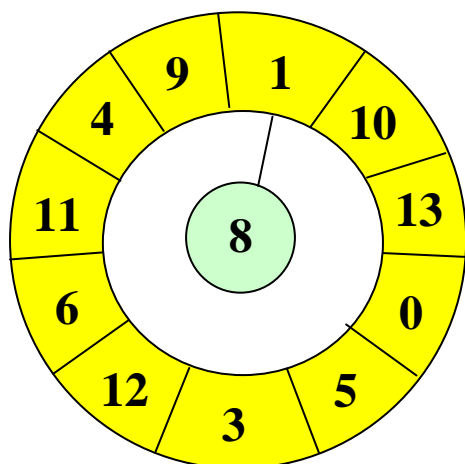
VY_32_INOVACE_M1_2_17

3. Spoj číslo v prostředním sloupečku s číslem o 3 menším v levém sloupečku a o 2 větším v pravém sloupečku.

13	18	5
7	10	9
4	3	20
15	16	10
11	13	19
2	7	12
0	14	16
14	8	7
5	5	18
10	17	15

4. Spoj čarou číslo v malém kroužku s

**a) čísly menšími a řekni,
o kolik je číslo menší.**



**b) s čísly většími a řekni,
o kolik je číslo větší.**

