

Šablona III/2 - Inovace a zkvalitnění výuky prostřednictvím ICT

**ZLOMKY, ČÍSLA DESETINNÁ –
POČÍTÁNÍ NENÍ DŘINA**



INVESTICE DO ROZVOJE VZDĚLÁVÁNÍ

Anotace: Materiál obsahuje pracovní list zaměřený na procvičování učiva o desetinných číslech.

Žáci si zjišťují na barevně rozlišených trojúhelnících délky jejich stran a určují sčítáním či násobením desetinných čísel obvodu daných trojúhelníků v cm.

Šablona: III/2

Název: Inovace a zkvalitnění výuky prostřednictvím ICT

Téma: Desetinná čísla

Autor: Mgr. Jitka Rousová

Očekávaný výstup: přesně měří délky úseček, sčítáním či násobením desetinných čísel určuje obvod trojúhelníku

Klíčová slova: desetinné číslo, měření délky úsečky, trojúhelník, obvod, centimetr

Druh učebního materiálu: pracovní list

Cílová skupina: 1. stupeň ZŠ

Typická věková skupina: 5. ročník


Použité zdroje a materiál: vlastní











INVESTICE DO ROZVOJE VZDĚLÁVÁNÍ

Autorem materiálu a všech jeho částí, není-li uvedeno jinak, je Mgr. Jitka Rousová

1. Vypočítej obvod všech trojúhelníků na obrázku a zapiš výsledky do tabulky. Pomůže ti barevné rozlišení. Počítej v centimetrech.



trojúhelník								
obvod v cm								

Místo pro výpočty:

