

VY_32_INOVACE_M1_04_11

Šablona III/2 - Inovace a zkvalitnění výuky prostřednictvím ICT

Geometrické tvary I.



VY_32_INOVACE_M1_04_11

Anotace: materiál obsahuje 3 úvodní listy, 3 pracovní listy, 3 listy s řešením

Šablona: III/2

Název: Inovace a zkvalitnění výuky prostřednictvím ICT

Téma: Geometrické tvary

Autor: Mgr. Markéta Dvořáková

Očekávaný výstup: žák poznává, hledá geometrický tvar, skládá

Klíčová slova: geometrické tvary

Druh učebního materiálu: předváděcí sešit




Cílová skupina: žák 1. stupně

Typická věková skupina: 6 - 7 let

Použité zdroje a materiál: obrázky převzaty z knihovny softwaru Activboardu




Autorem materiálu a všech jeho částí, není-li uvedeno jinak, je Mgr. Markéta Dvořáková



Poznáš geometrické
tvary?
Zkus poskládat
obrázek.





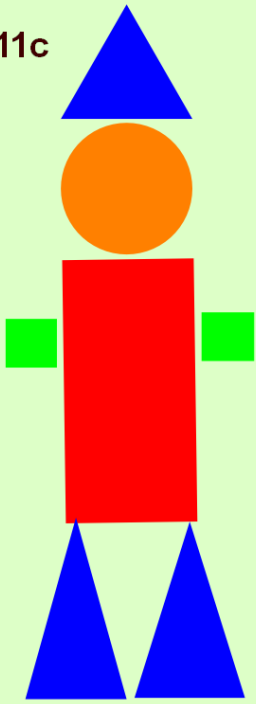


Jaké geometrické
tvary vidíš?


Kolik je



11c



řešení



kruh


obdélník



čtverec



obdélník




obdélník



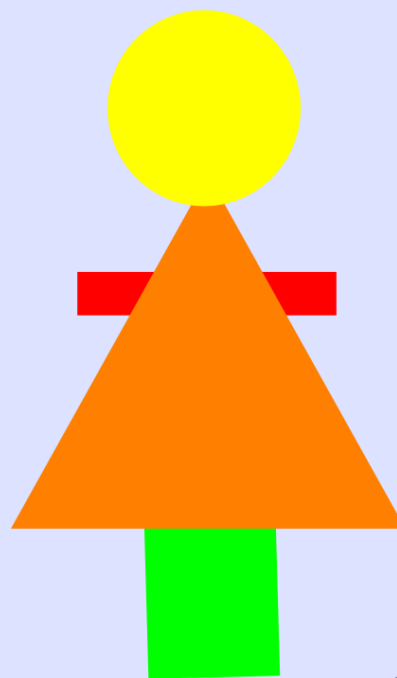
obdélník



trojúhelník




čtverec



Poznáš geometrické tvary?
Zkus poskládat obrázek.





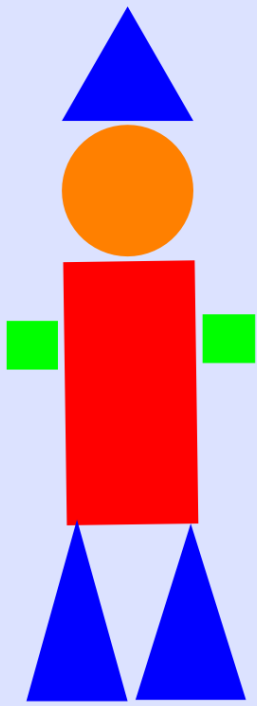


Jaké geometrické tvary vidíš?

Kolik je

- ▲ 4
- 3
- 1
- ▬ 4





■ 2 ■ 1

▲ 3 ● 1

■ 0 ■ 1

▲ 4 ● 0

■ 1 ■ 1

▲ 1 ● 1