

Šablona III/2 - Inovace a zkvalitnění výuky prostřednictvím ICT

STŘEDOČESKÝ KRAJ



Anotace: materiál obsahuje 2 úvodní listy , 3 listy s úkoly, 4 listy s řešením

Šablona: III/2

Název: Inovace a zkvalitnění výuky prostřednictvím ICT

Téma: Středočeský kraj

Autor: Mgr.Jana Jandíková

Očekávaný výstup: seznámí se s polohou kraje uvnitř ČR, vyhledá v mapě významná města, památky a přírodní objekty
pozná pověst o hoře Blaník

Klíčová slova: Česká tabule, Brdy, Středočeská pahorkatina, Polabská nížina, CHKO Český kras, Vltava, Labe, Berounka, Sázava, , Orlik, Slapy, Švihov, Kladno, Mladá Boleslav, Mělník, Kutná Hora, Karlštejn, Lány,

Druh učebního materiálu: materiál pro interaktivní tabuli Active Board

Cílová skupina: žák 1.stupně ZŠ

Typická věková skupina: 10 - 11 let

Použité zdroje a materiál: učebnice VL pro 5.roč. Putování po České republice, prof. PhDr. Petr Chalupa CSc. a kol., Alter 2006
učebnice VL pro 5.roč.ZŠ Česká republika jako součást Evropy, prof.PhDr. Petr Chalupa CSc.,
Mgr. Věra Štiková, Nová škola s.r.o. 2004
pracovní sešit VL pro 5.roč. ZŠ Česká republika jako součást Evropy, Mgr. Věra Štiková,
Mgr. Jana Tabarková, Nová škola s.r.o. 2010
fotografie pod licencí Creative Commons
<http://cs.wikipedia.org/w/wiki/Soubor:VBlanik.JPG>, JanBlanicky



Autorem materiálu a všech jeho částí, není-li uvedeno jinak, je Mgr. Jana Jandíková

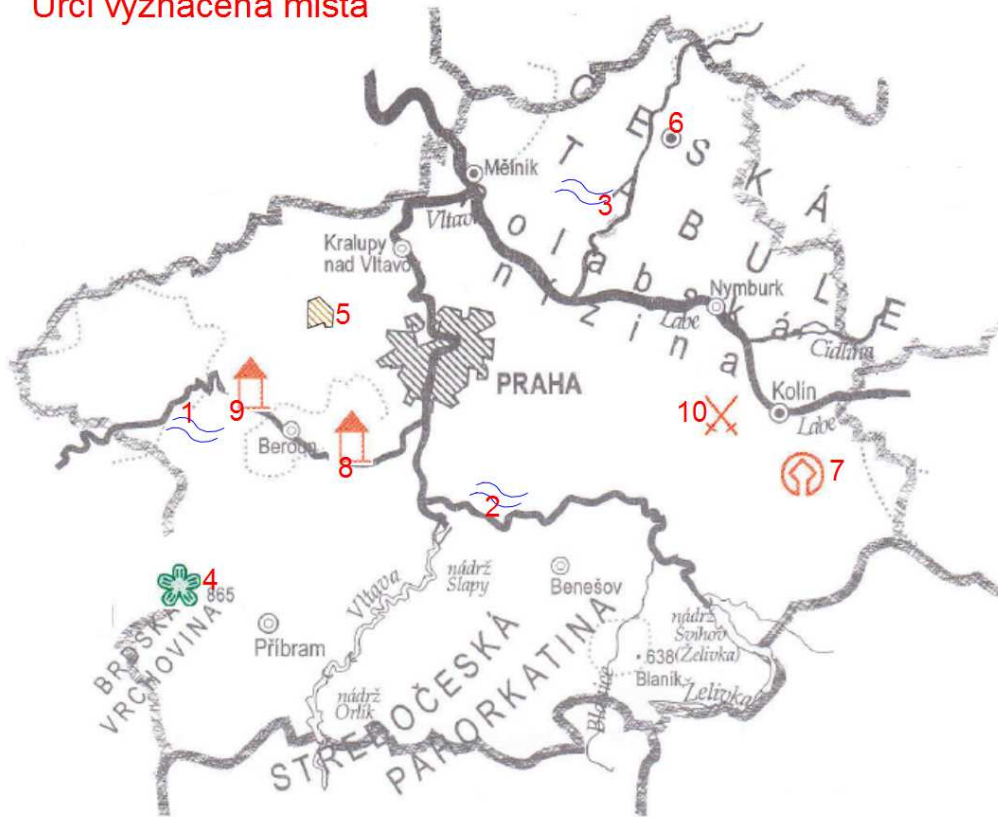
Pracuj s mapou krajů ČR

Urči správně sousední kraje a světové strany

Jihočeský kraj	S
Plzeňský kraj	J
Ústecký kraj	Z
Liberecký kraj	V
Královéhradecký kraj	JZ
Pardubický kraj	JV
kraj Vysočina	SZ
	SV

správné řešení

Urči vyznačená místa



- 1
- 2
- 3
- 4
- 5
- 6
- 7
- 8
- 9
- 10

Sázava	Tok	Kladno	Mladá Boleslav	Berounka
Kutná Hora	Jizera	Karlštejn	Křivoklát	Lipany

mapka: pracovní sešit VL pro 5.roč. ZŠ Česká republika jako součást Evropy, Mgr. Věra Štiková, Mgr. Jana Tabarková, Nová škola s.r.o. 2010, s.65 příloha
 značky: učebnice VL pro 5.roč ZŠ Česká republika jako součást Evropy, prof.PhDr. Petr Chalupa CSc., Mgr. Věra Štiková, Nová škola s.r.o. 2004, s.3

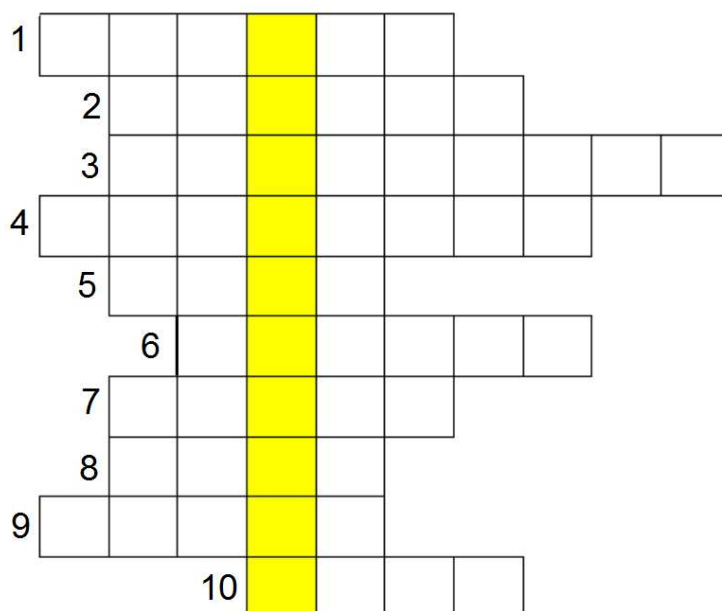
správné řešení

Vylušti tajenku a potom odsuň obrázek stranou

1. Vodní nádrž na Sázavě
2. Hudební skladatel narozený v Nelahozevsi
3. Hrad založený Karlem IV.
4. Nížina podél řeky Labe
5. Naše největší řeka
6. V okolí města ... se těží černé uhlí
7. Vodní nádrž na Vltavě S....
8. Sídlo prezidentů, hrob T.G.Masaryka
9. Vodní nádrž a hrad na Vltavě
10. Na JV od Prahy se nachází CHKO ...



<http://cs.wikipedia.org/wiki/Soubor:VBlank.JPG>, JanBlanicky



správné řešení

řešení

Pracuj s mapou krajů ČR

Urči správně sousední kraje a světové strany

Jihočeský kraj J

Plzeňský kraj JZ

Ústecký kraj SZ Z

Liberecký kraj S

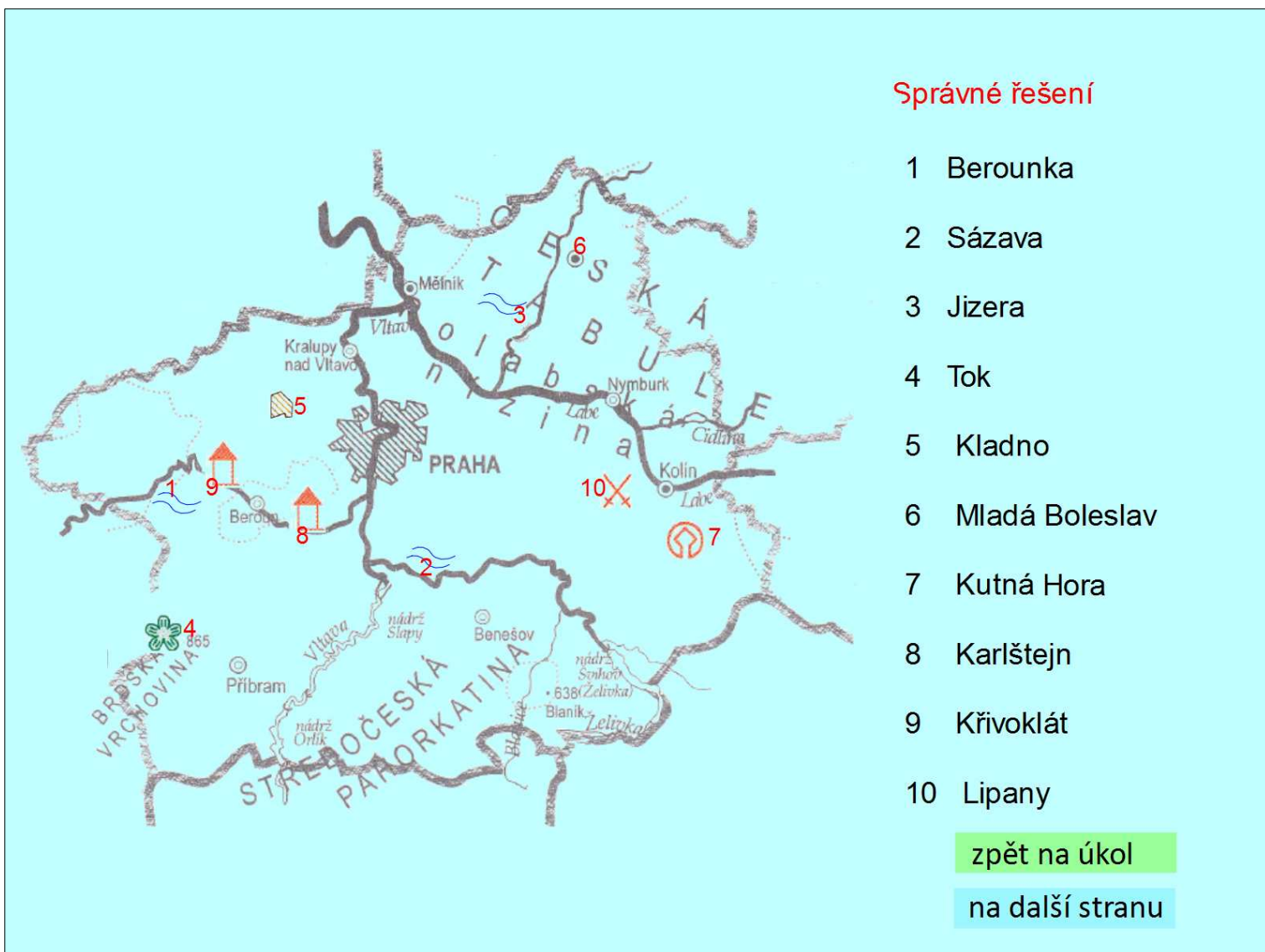
Královéhradecký kraj SV

Pardubický kraj V

kraj Vysočina JV

[zpět na úkol](#)

[na další stranu](#)



Správné řešení

Š	V	I	H	O	V				
	D	V	O	Ř	Á	K			
	K	A	R	L	Š	T	E	J	N
P	O	L	A	B	S	K	Á		
	L	A	B	E					
		K	L	A	D	N	O		
	S	L	A	P	Y				
	L	Á	N	Y					
O	R	L	Í	K					
			K	R	A	S			

[zpět na úkol](#)

