

VY_32_INOVACE_VL5_02_06

Šablona III/2 - Inovace a zkvalitnění výuky prostřednictvím ICT

ÚSTECKÝ KRAJ



Anotace: materiál obsahuje 2 úvodní listy, 4 listy s úkoly, 5 listů s řešením

Šablona: III/2

Název: Inovace a zkvalitnění výuky prostřednictvím ICT

Téma: Ústecký kraj

Autor: Mgr. Jana Jandíková

Očekávaný výstup: vyhledává údaje v mapách, encyklopediích, na internetu, využívá svých znalostí a dovedností

Klíčová slova: Milešovka, Ohře, Labe, CHKO České Švýcarsko, Pravčická brána, Říp, Ústí nad Labem, Děčín, Terezín, Most, Louny, chmel

Druh učebního materiálu: materiál pro interaktivní tabuli Active Board

Cílová skupina: žák 1. stupně ZŠ

Typická věková skupina: 10 - 11 let

Použité zdroje a materiál: učebnice a pracovní sešit k učebnici VL pro 5.roč. Česká republika jako součást Evropy, Mgr. Věra Štiková, Mgr. Jana Tabarková, Nová škola s.r.o. 2010
fotografie pod licencí Creative Commons
[http://cs.wikipedia.org/wiki/Soubor:Ustecky_kraj_\(okresy\).svg](http://cs.wikipedia.org/wiki/Soubor:Ustecky_kraj_(okresy).svg), Miraceti from cs

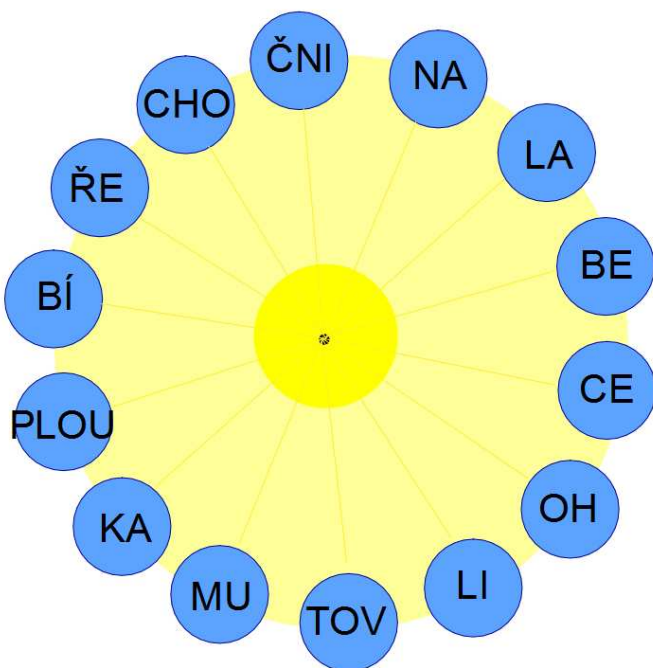


Autorem materiálu a všech jeho částí, není-li uvedeno jinak, je Mgr. Jana Jandíková


Spoj údaje, které patří k sobě

Louny	hnědé uhlí
Most	chemický průmysl
Tušimice	Pravčická brána
Litvínov	sopka
České Švýcarsko	pevnost
Milešovka	kamencové jezero
Terezín	tepelná elektrárna
Chomutov	pěstování chmele

Poskládej názvy řek, které protékají Ústeckým krajem



Pracuj s mapou a do slepé mapky zakresli:

řeka Labe 

řeka Ohře 

nádrž Nechranice 

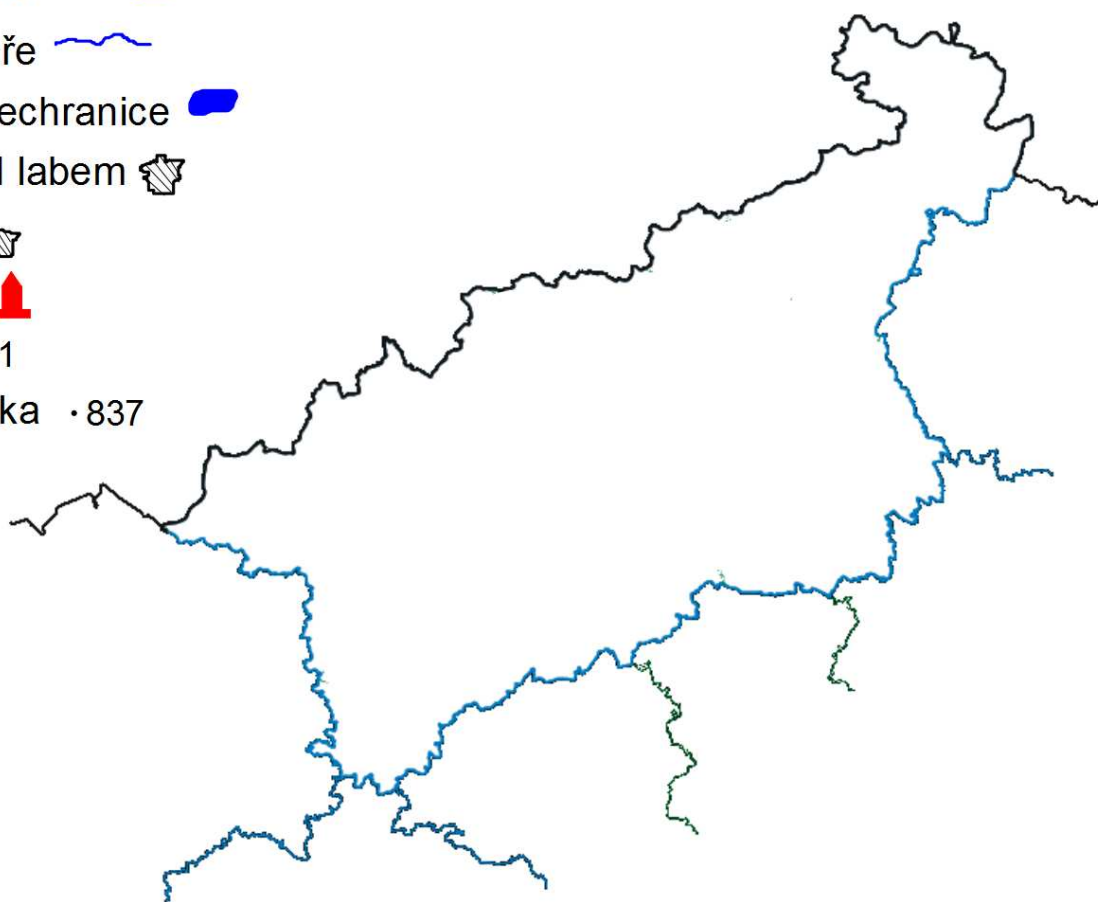
Ústí nad labem 

Děčín 

Terezín 

Říp · 461

Milešovka · 837



Jak znám Ústecký kraj



Vyber si barvu, vytáhni si otázku a odpověz

Posunováním okénka odkryj skrytý text



řešení

Spoj údaje, které patří k sobě

Louny → pěstování chmele

Most → hnědé uhlí

Tušimice → tepelná elektrárna

Litvínov → chemický průmysl


České Švýcarsko → Pravčická brána

Milešovka → sopka

Terezín → pevnost

Chomutov → kamencové jezero

Poskládej názvy řek, které protékají Ústeckým krajem



PLOU ČNI CE


OH ŘE

LA BE

CHO MU TOV KA


BÍ LI NA


Pracuj s mapou a do slepé mapky zakresli:

řeka Labe 

řeka Ohře 

nádrž Nechranice 

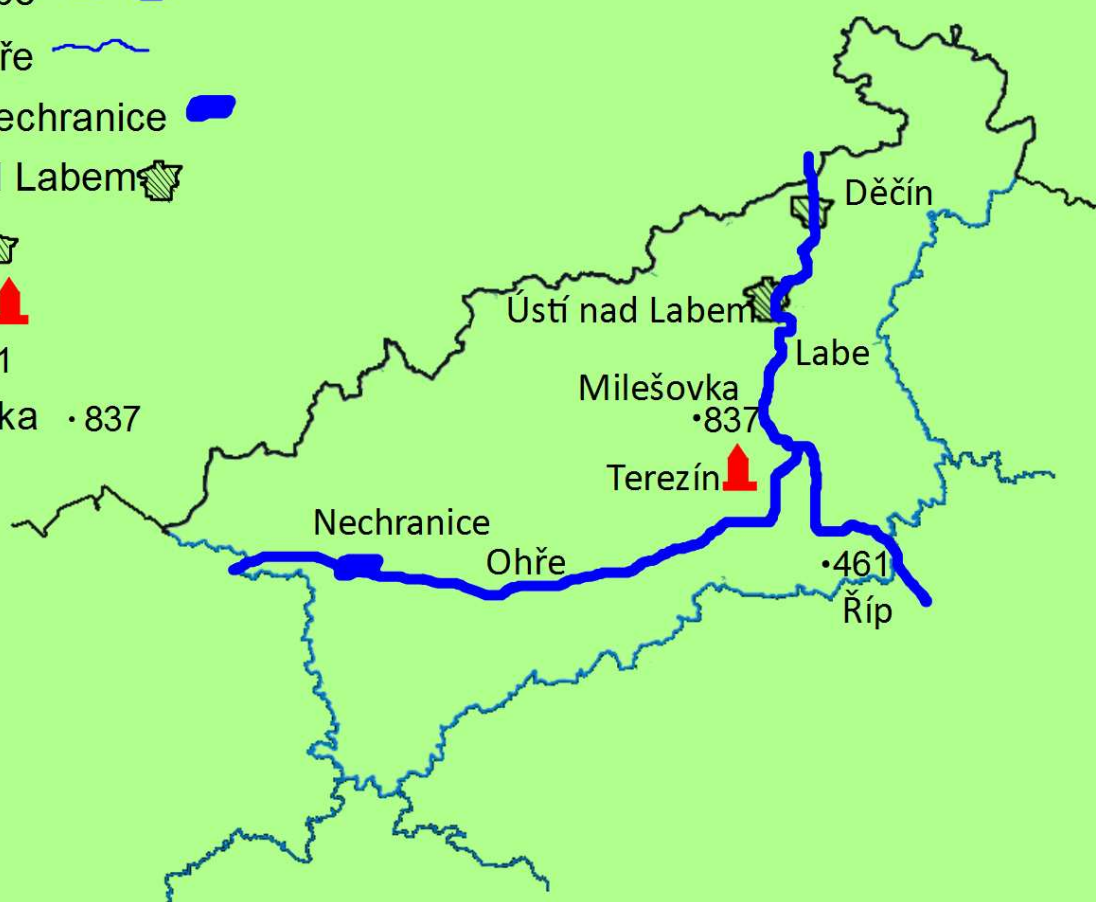
Ústí nad Labem 

Děčín 

Terezín 

Říp · 461

Milešovka · 837



Jak znám Ústecký kraj

Milešovka

Jak se jmenuje
největší hora
ČR

nové využití krajiny

Co je to
rekultivace

Louny, Žatec

Kde v kraji se
pěstuje chmel

Vyber si barvu, vytáhni si otázku a odpověz

V JV části kraje se nachází památná hora Čechů - Říp

Posunováním okénka odkryj skrytý text

Nejnižší položené
místo ČR

Labe u Hřenska

Národní přírodní
památky v NP
České Švýcarsko

Pravčická brána

Pevnost postavená
českou císařovnou
jižně od Ústí n.L.

Terezín

