

VY_32_INOVACE_VL5_02_09

Šablona III/2 - Inovace a zkvalitnění výuky prostřednictvím ICT

PARDUBICKÝ KRAJ



Anotace: materiál obsahuje 2 úvodní listy, 4 listy s úkoly, 5 listů s řešením

Šablona: III/2

Název: Inovace a zkvalitnění výuky prostřednictvím ICT

Téma: Pardubický kraj

Autor: Mgr. Jana Jandíková

Očekávaný výstup: vyhledává údaje v mapách, encyklopediích, na internetu, využívá svých znalostí a dovedností, pozná přírodní, sídelní, kulturní a hospodářské zvláštnosti Pardubického kraje, posuzuje význam kraje z různých hledisek

Klíčová slova: Žďárské vrchy, Železné hory, Pardubice, Litomyšl, Ležáky, pramen Moravy, skanzen

Druh učebního materiálu: materiál pro interaktivní tabuli Active Board

Cílová skupina: žák 1. stupně ZŠ

Typická věková skupina: 10 - 11 let

Použité zdroje a materiál: učebnice a pracovní sešit k učebnici VL pro 5.roč. Česká republika jako součást Evropy, Mgr. Věra Štiková, Mgr. Jana Tabarková, Nová škola s.r.o. 2010
obrázky pod licencí Creative Commons
http://cs.wikipedia.org/wiki/Soubor:Bratranci_Veverkov%C3%A9_souso%C5%A1%C3%AD_Pardubice3.JPG,
volné dílo, 7.3.2012



Autorem materiálu a všech jeho částí, není-li uvedeno jinak, je Mgr. Jana Jandíková

Vytáhni si lístek a přiřaď ke správnému městu

správné řešení

Holice

Česká Třebová

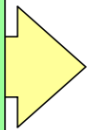
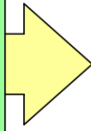
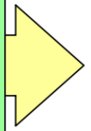
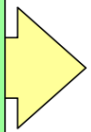

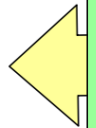
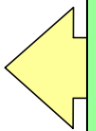
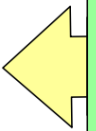
Pardubice

Ležáky

Chrudim

Litomyšl

Polička



Doplňte údaje do trasy výletu

správné řešení

První den

Vyjíždíme z města známého konáním
překážkového dostihu

jedeme směrem na jih k vodní nádrži

leží mezi CHKO

a CHKO

směrem na V se na okraji Žďárských vrchů
nachází město

v jeho blízkosti najdeme skanzen

skanzen je

správné řešení

Druhý den

Ráno odjíždíme do Poličky.

Odtud se vydáváme směrem na S do města
s renesančním zámekem zapsaným na seznamu
UNESCO

Poté pojedeme na S až SV, kde na hranici kraje navštívíme rodiště
Prokopa Diviše

vynálezce

do cíle naší cesty pojedeme stále na SV, zde vystoupíme
na nejvyšší vrchol kraje

a podíváme se k prameni nejdelší moravské řeky

Třetí den

Odkrýváním lístků poznejte, které místo jsme navštívili

	A	B	C	D
1				
2				
3				
4				
5				

správné řešení

řešení

Vytáhni si lístek a přiřaď ke správnému městu

na další úkol

Africké muzeum Emila
Holuba

Holice

železniční křižovatka

Česká Třebová

Pardubice

město známé
výrobou perníku

osada vyhlazená za
II.světové války, dnes
památník

Ležáky

Chrudim

loutkářské muzeum

rodiště hudebního
skladatele Bedřicha
Smetany

Litomyšl

Polička

zachovalé středověké
hradby, název města
je slovo, které označuje
část nábytku

Doplňte údaje do trasy výletu

na další úkol

První den

Vyjíždíme z města známého konáním
překážkového dostihu

Pardubice

jedeme směrem na jih k vodní nádrži

Seč

leží mezi CHKO

Železné hory

a CHKO

Žďárské vrchy

směrem na V se na okraji Žďárských vrchů
nachází město

Hlinsko

v jeho blízkosti najdeme skanzen

Veselý kopec Vysočina

skanzen je

muzeum lidových staveb přírodě

Druhý den

na další úkol

Ráno odjíždíme do Poličky.

Odtud se vydáváme směrem na S do města
s renesančním zámekem zapsaným na seznamu
UNESCO

Litomyšl

Poté pojedeme na S až SV, kde na hranici kraje navštívíme rodiště
Prokopa Diviše

Helvíkovice

vynálezce bleskosvodu

do cíle naší cesty pojedeme stále na SV, zde vystoupíme
na nejvyšší vrchol kraje

Králický Sněžník

a podíváme se k prameni nejdelší moravské řeky

Moravy

Třetí den

Odkrýváním lístků poznejte, které místo jsme navštívili



Sousoší bratraců Veverkových v Rybitví

správné řešení

