

VY\_32\_INOVACE\_VL5\_02\_18

Šablona III/2 - Inovace a zkvalitnění výuky prostřednictvím ICT

**POLSKO**



**Anotace:** materiál obsahuje 2 úvodní listy, 6 listů s úkoly a 5 listů s řešením

**Šablona:** III/2

**Název:** Inovace a zkvalitnění výuky prostřednictvím ICT

**Téma:** Polsko

**Autor:** Mgr.Jana Jandíková

**Očekávaný výstup:** vyhledává údaje v mapách, učebnici encyklopediích, na internetu, využívá svých znalostí a dovedností hravou formou si procvičí a upevní učivo o Polsku

**Klíčová slova:** Středopolská nížina, jezerní plošina, Vysoké Tatry, Rysy, Krkonoše, Varšava, Štětín, Gdaňsk, Odra, Visla

**Druh učebního materiálu:** materiál pro interaktivní tabuli Active Board

**Cílová skupina:** žák 1.stupně ZŠ

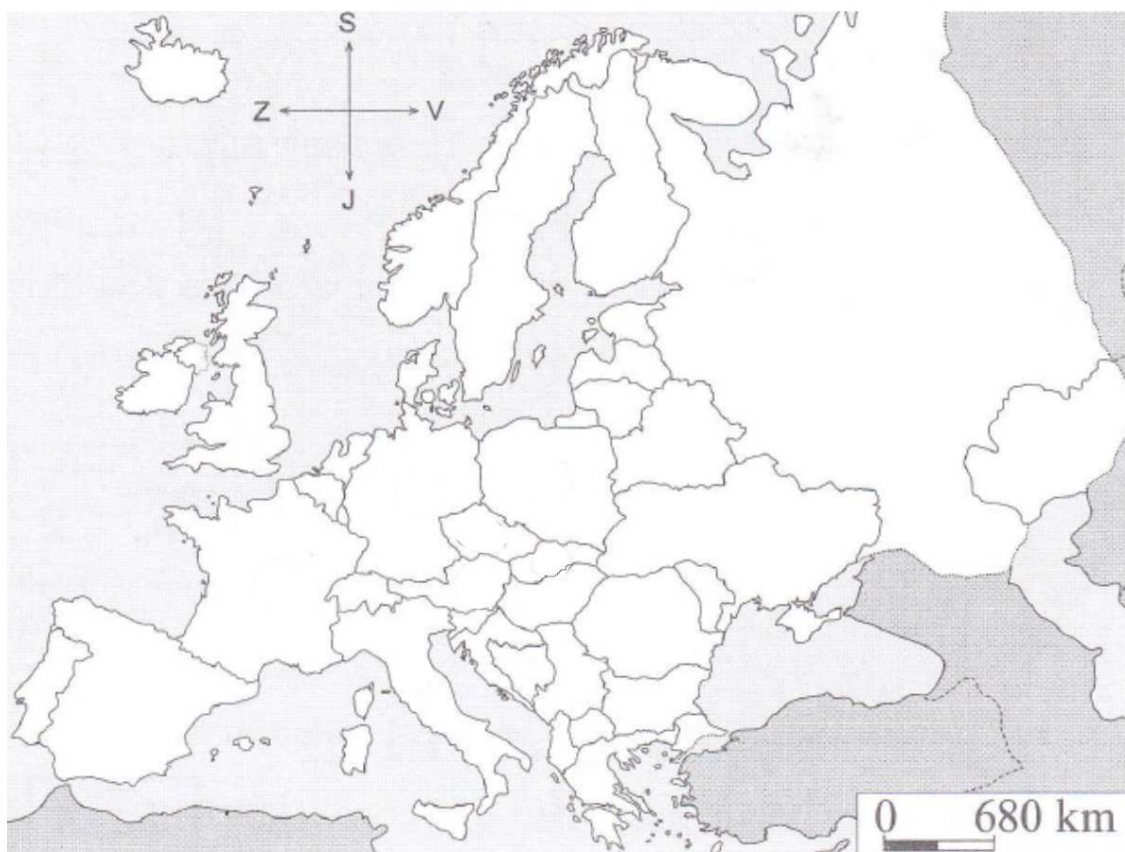

**Typická věková skupina:** 10 - 11 let

**Použité zdroje a materiál:** učebnice a pracovní sešit VL pro 5.roč. Česká republika jako součást Evropy, Mgr. Věra Štiková  
Mgr. Jana Tabarková, Nová škola s.r.o. 2010

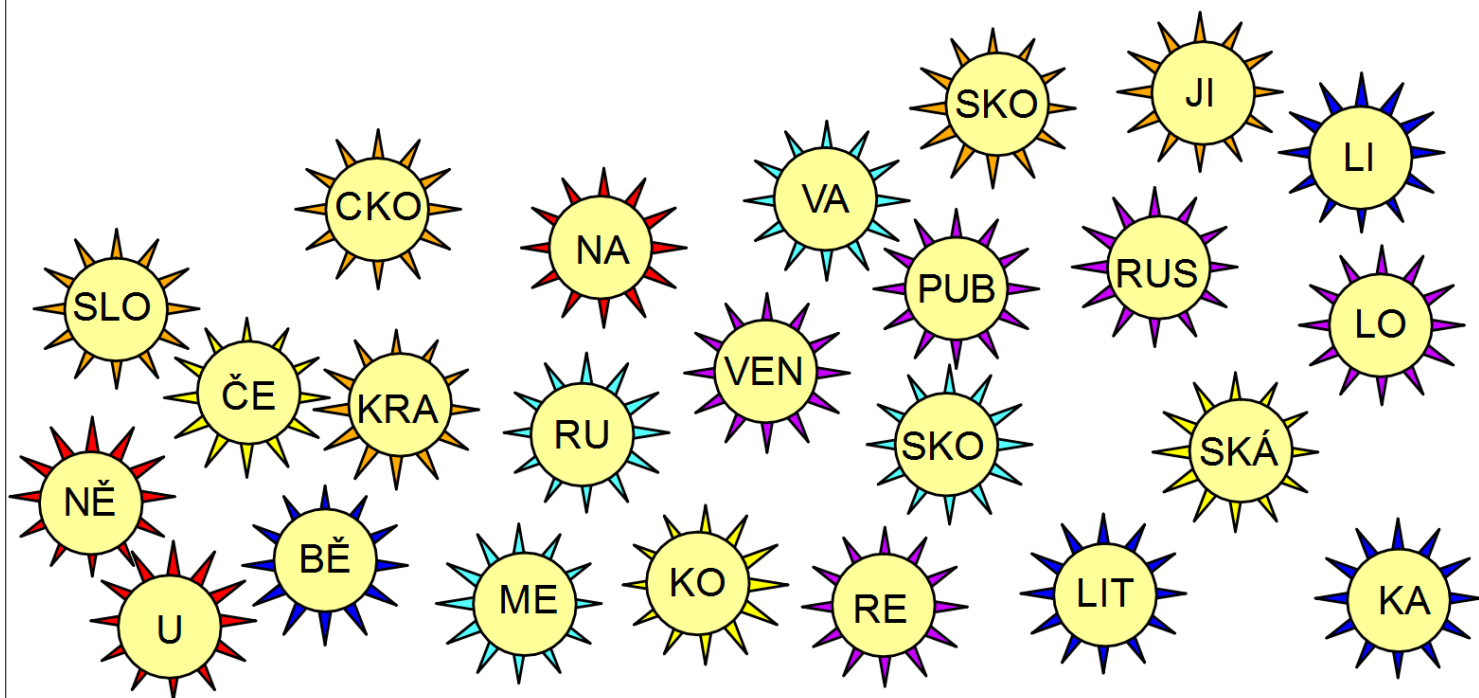


Autorem materiálu a všech jeho částí, není-li uvedeno jinak, je Mgr. Jana Jandíková

Na mapě Evropy označ barevně Polsko  
Vybarvi správně jeho vlajku



Poskládej názvy sousedních států



Je tvrzení správné nebo ne?

Území Polska tvoří převážně nížiny.  ANO  NE

Hornatá je pouze část podél hranic s Německem.  ANO  NE

Nejvyšší hora leží ve Vysokých Tatrách při hranicích se Slovenskem.  ANO  NE

Všechny polské řeky patří k úmoří Severního moře.  ANO  NE

Řeka Odra pramení v České republice.  ANO  NE


Na území Polska se nachází mnoho jezer.  ANO  NE

Hranici s Německem tvoří řeky Odra a Visla.  ANO  NE

Na pobřeží Baltského moře leží přístav Lodž.  ANO  NE


Hlavní město polské republiky je Varšava.  ANO  NE

[další úkol](#)



VÝBORNĚ!

pokračuj



CHYBA!

zkus to znovu

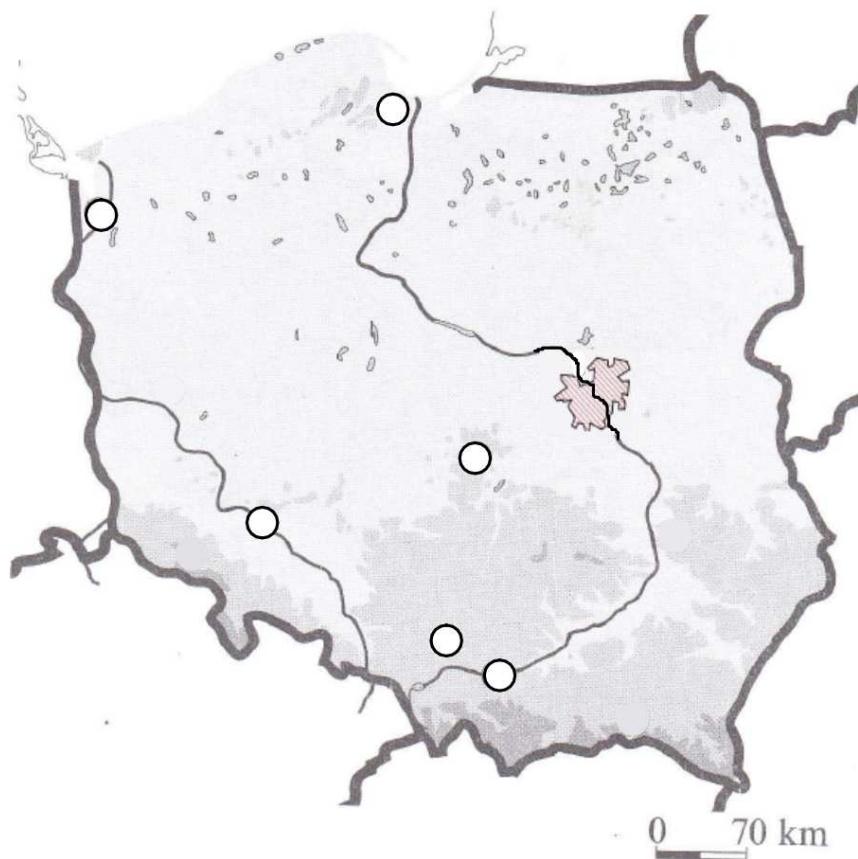
## Doplň údaje do mapky



Bělorusko ČR Německo Litva Rusko Slovensko Ukrajina



Gdaňsk  
Katovice  
Krakov  
Lodž  
Štětín  
Varšava  
Vroclav  
Baltské moře  
Nisa  
Odra  
Visla  
Krkonoše  
Vysoké Tatry



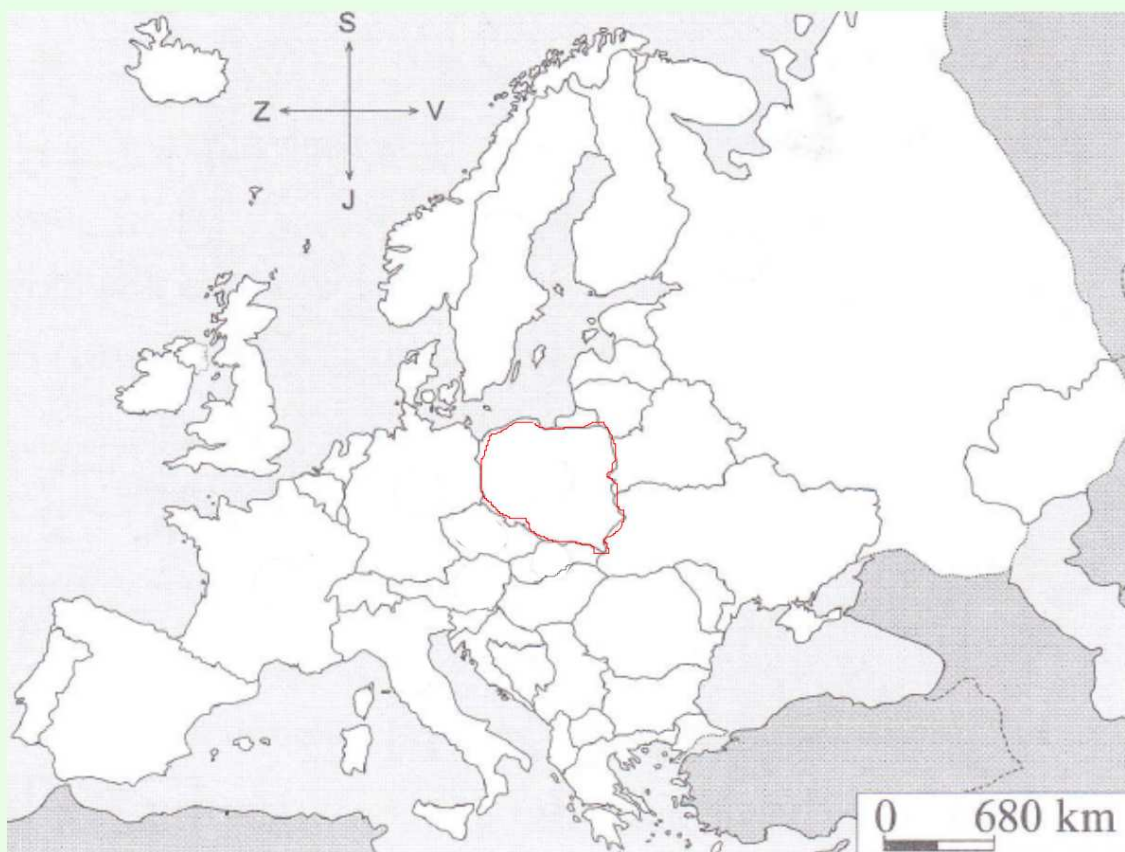

mapové značky: uč. Česká republika jako součást Evropy, Nová škola, 2004, s.3  
mapka: PS Česká republika jako součást Evropy, Nová škola, 2010, s.37



**ŘEŠENÍ**

Na mapě Evropy označ barevně Polsko

Vybarvi správně jeho vlajku



SLO VEN SKO

RUS KO

ČE SKÁ

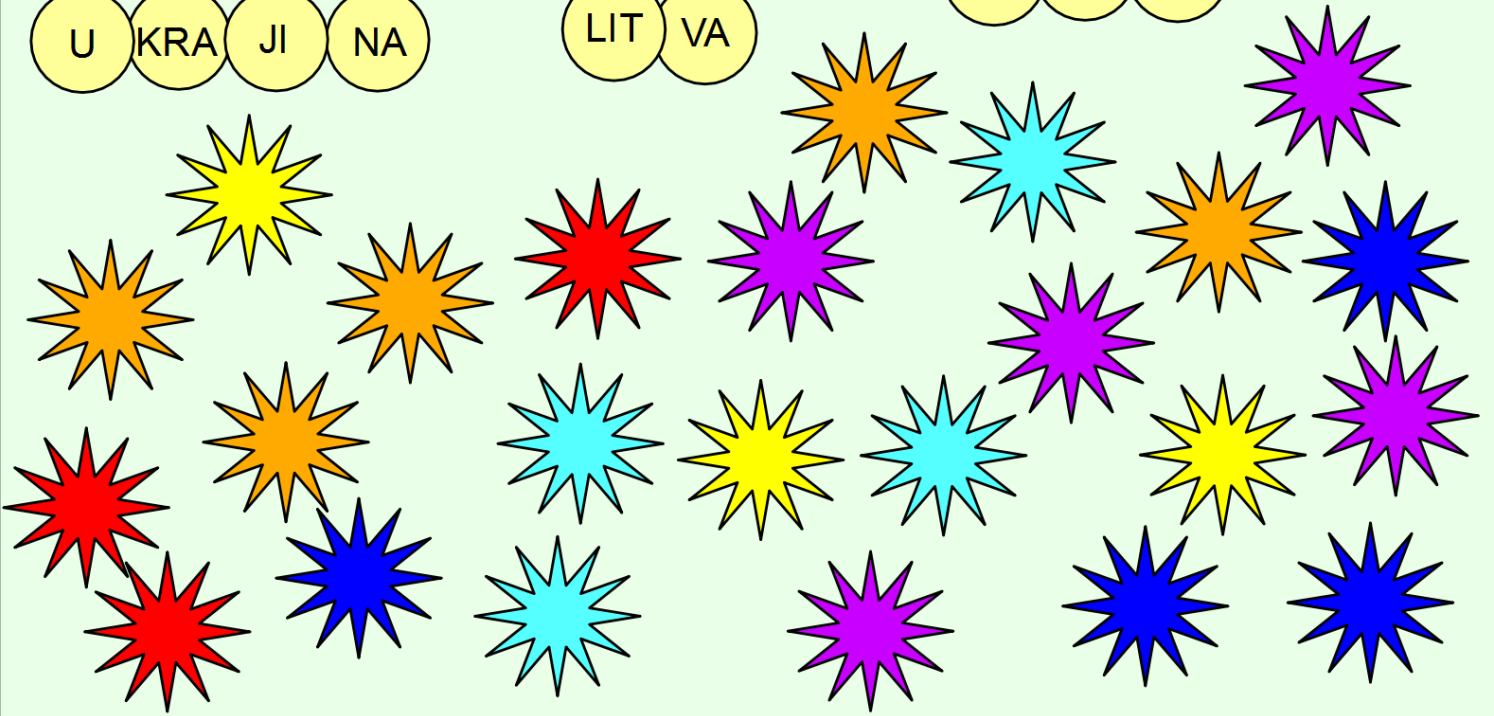
RE PUB LI KA

BĚ LO RU SKO

U KRA JI NA

LIT VA

NĚ ME CKO



Je tvrzení správné nebo ne?

Území Polska tvoří převážně nížiny.  ANO

Hornatá je pouze část podél hranic s Německem.  NE

Nejvyšší hora leží ve Vysokých Tatrách při hranicích se Slovenskem.  ANO

Všechny polské řeky patří k úmoří Severního moře.  NE

Řeka Odra pramení v České republice.  ANO

Na území Polska se nachází mnoho jezer.  ANO

Hranici s Německem tvoří řeky Odra a Visla.  NE

Na pobřeží Baltského moře leží přístav Lodž.  NE

Hlavní město polské republiky je Varšava.  ANO

Doplň údaje do mapky

Bělorusko ČR Německo Litva Rusko Slovensko Ukrajina  
Baltské moře



mapové značky: uč. Česká republika jako součást Evropy, Nová škola, 2004, s.3  
mapka: PS Česká republika jako součást Evropy, Nová škola, 2010, s.37

