

Šablona III/2 – Inovace a zkvalitnění výuky prostřednictvím ICT

EVROPA



Anotace: materiál obsahuje 3 listy úvodu, 13 listů prezentace a 3 pracovní listy včetně řešení

Šablona: III/2

Název: Inovace a zkvalitnění výuky prostřednictvím ICT

Téma: Evropa

Autor: Jana Houserová

Očekávaný výstup: seznámení s pojmy stát, světadíl, vyhledávání na mapě

Klíčová slova: stát, světadíl

Druh učebního materiálu: prezentace, pracovní listy

Cílová skupina: žák 2.-4. ročníku

Typická věková skupina: 7 – 11 let

Použité zdroje a materiál: http://commons.wikimedia.org/wiki/File:Regioni_na_Evropa.png?uselang=cs

http://commons.wikimedia.org/wiki/File:Mapa_Evropy_hustota_velk%C3%A9_podniky.PNG?uselang=cs

http://commons.wikimedia.org/wiki/File:Monako_widok.JPG?uselang=cs



INVESTICE DO ROZVOJE VZDĚLÁVÁNÍ

Autorem materiálu a všech jeho částí, není-li uvedeno jinak, je Jana Houserová.

<http://office.microsoft.com/cs-cz/images/results.aspx?qu=mapa%20ruska&ctt=1#ai:MC900426392|mt:0>

<http://office.microsoft.com/cs-cz/images/results.aspx?qu=le dovec&ctt=1#ai:MP900434075|mt:0>

<http://office.microsoft.com/cs-cz/images/results.aspx?qu=vatik%C3%A1n&ctt=1#ai:MP900425315|mt:0>

<http://office.microsoft.com/cs-cz/images/results.aspx?qu=mapa+%C4%8Desk%C3%A9+republiky&ex=1&ctt=1>

<http://commons.wikimedia.org/w/index.php?title=Special%3ASearch&profile=default&search=%C4%8Desk%C3%A9+vlajky&fulltext=Search&uselang=cs>

<http://office.microsoft.com/cs-cz/images/results.aspx?qu=kr%C3%A1lovna+al%C5%BEB%C4%9Bta&ex=1&ctt=1#ai:MC900430331>

<http://office.microsoft.com/cs-cz/images/results.aspx?qu=%C5%A1v%C3%A9dsko&ex=1&ctt=1#ai:MP900432897>

<http://commons.wikimedia.org/wiki/File:Z%C3%A1kolany-pomn%C3%ADk-1-sv%C4%9Btov%C3%A1-v%C3%A1lka.jpg?uselang=cs>

<http://office.microsoft.com/cs-cz/images/results.aspx?qu=voj%C3%A1ci&ex=1&ctt=1#ai:MP900422423>

<http://office.microsoft.com/cs-cz/images/results.aspx?qu=mapa+norska&ex=1&ctt=1#ai:MC900408286>

<http://office.microsoft.com/cs-cz/images/results.aspx?qu=velk%C3%A1%20brit%C3%A1nie%20mapa&ctt=1#ai:MC900408433|mt:0>



evropský
sociální
fond v ČR



EVROPSKÁ UNIE



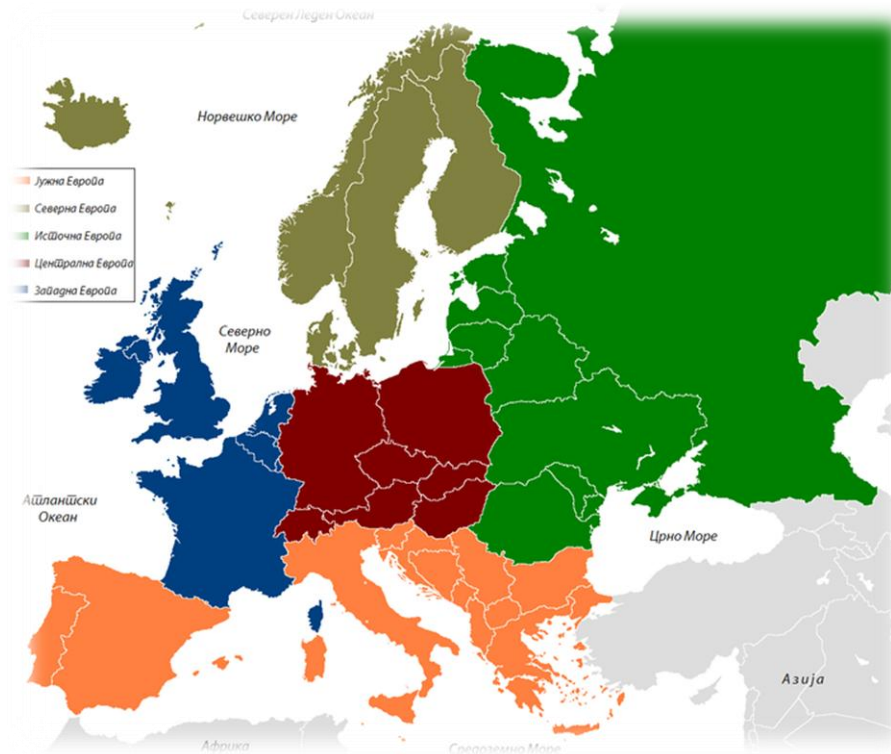
MINISTERSTVO ŠKOLSTVÍ,
MLÁDEŽE A TĚLOVÝCHOVY



OP Vzdělávání
pro konkurenceschopnost

INVESTICE DO ROZVOJE VZDĚLÁVÁNÍ

Autorem materiálu a všech jeho částí, není-li uvedeno jinak, je Jana Houserová.

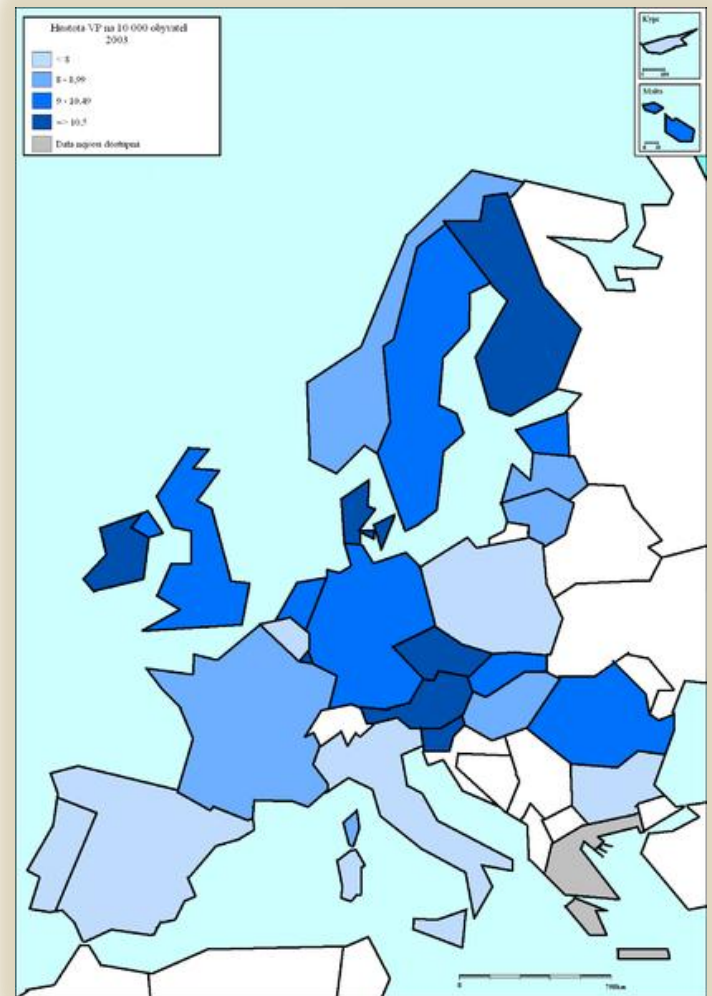


EVROPA, EVROPA, EVROPA, EVROPA, EVROPA, EVROPA, EVROPA

EVROPA



EVROPA :

- ✗ Je jeden ze 7 světadíů
- ✗ Má 46 států
- ✗ Převažuje zde křesťanská víra
- ✗ A největším státem je Rusko



EVROPSKÉ NEJ.....

- ✘ Největší stát Rusko-----
- ✘ Nejdelší řeka Volha (Rusko)
- ✘ Největší ostrov Velká Británie-----
- ✘ Největší ledovec Jostedalsbreen (Norsko)-----



EVROPSKÉ NEJMENŠÍ STÁTY:

- ✘ **Vatikán**- leží uvnitř Říma (Itálie) žije tu 444 osob, oficiální jazyk je latina



- ✘ **Monako**- Monacké knížectví, leží na jihu Francie, je to 2. nejmenší stát světa



ČESKÁ REPUBLIKA V EVROPĚ

- ✘ Česká republika leží ve střední Evropě
- ✘ Říká se jí srdce Evropy
- ✘ Jazyk: Čeština
- ✘ Počet obyvatel: 10,5 milionu



EVROPSKÁ KRÁLOVSTVÍ

V Evropě je dosud několik království :

- ✘ Belgie
- ✘ Dánsko
- ✘ Nizozemsko
- ✘ Norsko
- ✘ Španělsko
- ✘ Švédsko
- ✘ Velká Británie



K EVROPĚ TAKÉ PATŘÍ II. SVĚTOVÁ VÁLKA

- ✘ Vzestup nacismu
- ✘ Trvání od 1.zář 1939 do 2.zář 1945
- ✘ Zúčastnila se většina států světa
- ✘ Počet obětí je více než 60 milionů



KTERÁ ZEMĚ JE ŽLUTĚ OZNAČENA?



- ✘ A) Rusko
- ✘ B) Španělsko
- ✘ C) Norsko

KTERÁ ZEMĚ JE ŽLUTĚ OZNAČENA?



- ✘ A) Rusko
- ✘ B) Španělsko
- ✘ C) Norsko

PRO CHYTRÉ HLAVIČKY :

- ✘ Nachází se v Evropě sopka Etna?
 - ✘ Ano
 - ✘ Ne
- ✘ Nachází se v Evropě stát jménem Maroko?
 - ✘ Ano
 - ✘ Ne
- ✘ Je Evropa světadíl?
 - ✘ Ano
 - ✘ Ne

PRO CHYTRÉ HLAVIČKY :

- ✘ Nachází se v Evropě sopka Etna?
 - ✘ **Ano v Itálii**
 - ✘ Ne
- ✘ Nachází se v Evropě stát jménem Maroko?
 - ✘ Ano
 - ✘ Ne
- ✘ Je Evropa světadíl?
 - ✘ Ano
 - ✘ Ne

PRO CHYTRÉ HLAVIČKY :

- ✘ Nachází se v Evropě sopka Etna?
 - ✘ **Ano v Itálii**
 - ✘ Ne
- ✘ Nachází se v Evropě stát jménem Maroko?
 - ✘ Ano
 - ✘ **Ne je Africe**
- ✘ Je Evropa světadíl?
 - ✘ Ano
 - ✘ Ne

PRO CHYTRÉ HLAVIČKY :

× Nachází se v Evropě sopka Etna?

× **Ano v Itálii**

× Ne

× Nachází se v Evropě stát jménem Maroko?

× Ano

× **Ne je Africe**

× Je Evropa světadíl?

× **Ano, jeden ze 7 světadílů**

× Ne

✘ **EVROPA – pracovní list**

✘ Je jeden ze 7. Světadílů

✘ Má 46 států : Albánie, Andora,

✘ Belgie, Bělorusko, Bosna a Hercegovina, Bulharsko

✘ Černá Hora, Česká republika

✘ Dánsko

✘ Estonsko

✘ Finsko, Francie

✘ Chorvatsko

✘ Irsko, Island, Itálie

✘ Kazachstán, Kosovo

✘ Lichtenštejnsko, Litva, Lotyšsko, Lucembursko

✘ Maďarsko, Makedonie, Malta, Moldavsko, Monako

✘ Německo, Nizozemsko, Norsko

✘ Polsko, Portugalsko

✘ Rakousko, Rumunsko, Rusko

✘ Řecko

- ✘ San Marino, Slovenská republika, Slovinsko, Spojené království Velké Británie a Severního Irska, Srbsko
- ✘ Španělsko, Švédsko, Švýcarsko
- ✘ Turecko
- ✘ Ukrajina
- ✘ Vatikán

- ✘ Vyzkoušej si na mapě najít státy co znáš a pro zajímavost třeba státy, kde už jsi byl na dovolené a podobně.
- ✘ Evropská království:
 - ✘ Belgie
 - ✘ Dánsko
 - ✘ Nizozemsko
 - ✘ Norsko
 - ✘ Španělsko
 - ✘ Švédsko
 - ✘ Velká Británie

Který stát je v Evropě největší ?

Kolik má Evropa států ?

Jaký je nejmenší stát Evropy ?

Jaký je počet obyvatel v České republice ?

Dokážeš nakreslit naši vlajku?

Nakresli co máš nejraději, když jedeš na dovolenou.

Jméno žáka:

EVROPA - pracovní list - řešení

Který stát je v Evropě největší ? Rusko.

Kolik má Evropa států ? 46 států.

Jaký je nejmenší stát Evropy ? Vatikán.

Jaký je počet obyvatel v České republice? 10 milionů.

Dokážeš nakreslit naši vlajku? Děti nakreslí.

Nakresli co máš nejraději, když jedeš na dovolenou. Děti nakreslí.