

VY_32_INOVACE_VL4_10_10

Šablona III/2 - Inovace a zkvalitnění výuky prostřednictvím ICT

ŘEKY ČR



Anotace: materiál obsahuje 3 listy úvodu, 6 listů s úkoly a 6 listy řešení

Šablona: III/2

Název: Inovace a zkvalitnění výuky prostřednictvím ICT

Téma: Řeky ČR

Autor: Mgr. Jana Jandíková

Očekávaný výstup: vyhledá na mapě toky největších řek ČR, najde a rozezná přítoky z levé a pravé strany, spojí řeku s městem, kterým protéká, spojí řeku s pohořím, ve kterém pramení

Klíčová slova: Labe, Vltava, Morava, Odra, Jizera, Ohře, Berounka, Sázava, Dyje, Sázava

Druh učebního materiálu: materiál pro interaktivní tabuli Active Board

Cílová skupina: žák 1. stupně ZŠ

Typická věková skupina: 10 - 11 let

Použité zdroje a materiál: učebnice VL pro 4.- 5.roč. Naše vlast, kol. autorů pod vedením prof. PhDr. Petr Chalupa CSc., Alter 1996
pracovní listy k učebnici Naše vlast, Mgr. Alena Matušková a kol., Alter 2008
učebnice VL pro 4.roč. ZŠ Poznáváme naši vlast, Mgr. Věra Štiková, Mgr. Jana Tabarková, Alena Baisová, Nová škola s.r.o. 2011
pracovní sešit VL pro 4.roč. ZŠ Poznáváme naši vlast, Mgr. Věra Štiková, Mgr. Jana Tabarková, Alena Baisová, Nová škola s.r.o. 2011
fotografie pod licencí Creative Commons, odkazy jsou uvedeny na jednotlivých stranách



Autorem materiálu a všech jeho částí, není-li uvedeno jinak, je Mgr. Jana Jandíková

Pracuj s mapou, přiřad' k názvu řeky správné číslo

POVODÍ VLTAVY

Berounka ●

Lužnice ●

Malše ●

Mže ●

Otava ●

Radbuza ●

Sázava ●

Úhlava ●

Úslava ●

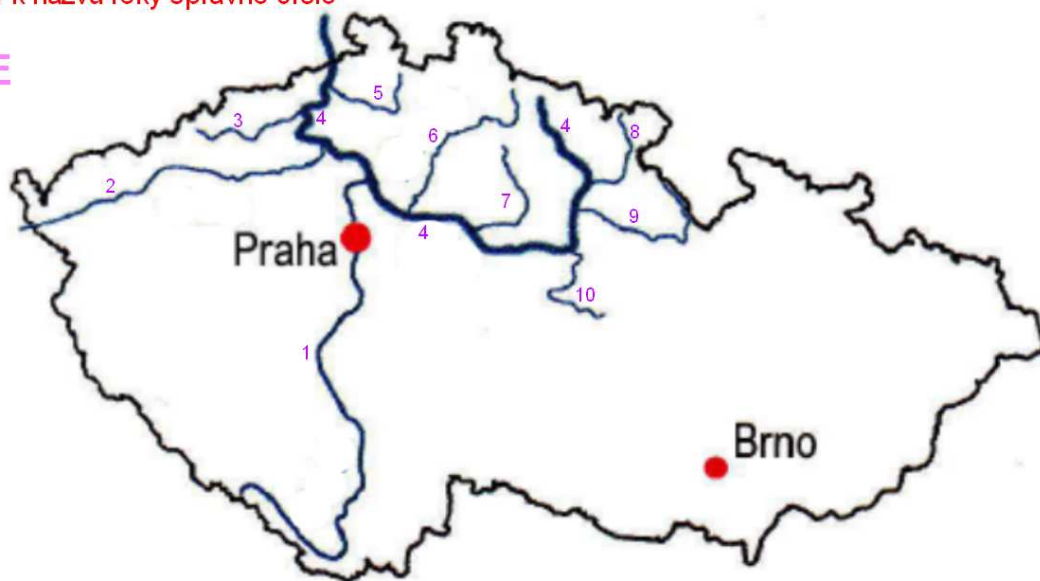
Vltava ●



1 2 3 4 5 6 7 8 9 10

Pracuj s mapou, přiřaď k názvu řeky správné číslo

POVODÍ LABE



Bílina ●

Jizera ●

Ohře ●

Vltava ●

Cidlina ●

Labe ●

Orlice ●

Chrudimka ●

Metuje ●

Ploučnice ●

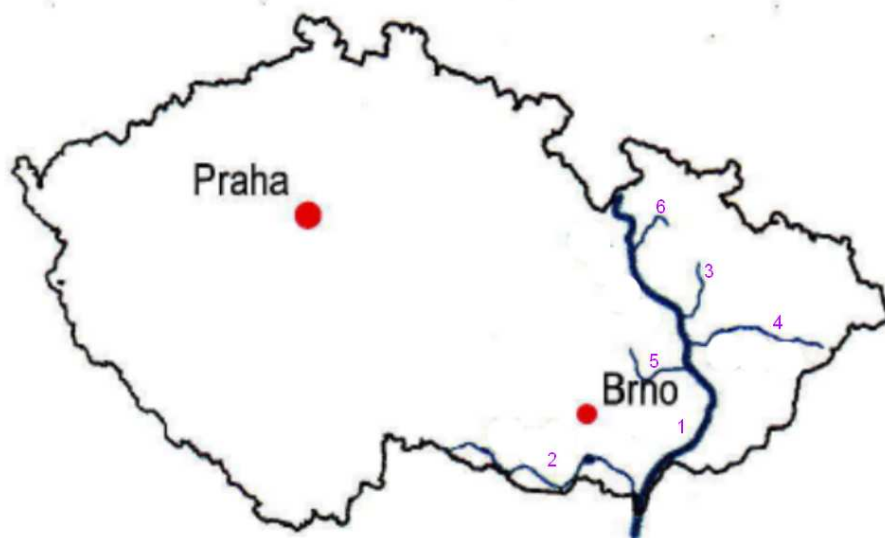
1 2 3 4 5 6 7 8 9 10

správné řešení

Pracuj s mapou, k názvu řeky přiřaď správné číslo

POVODÍ MORAVY

- Bečva ●
- Desná ●
- Dyje ●
- Haná ●
- Morava ●
- Oskava ●

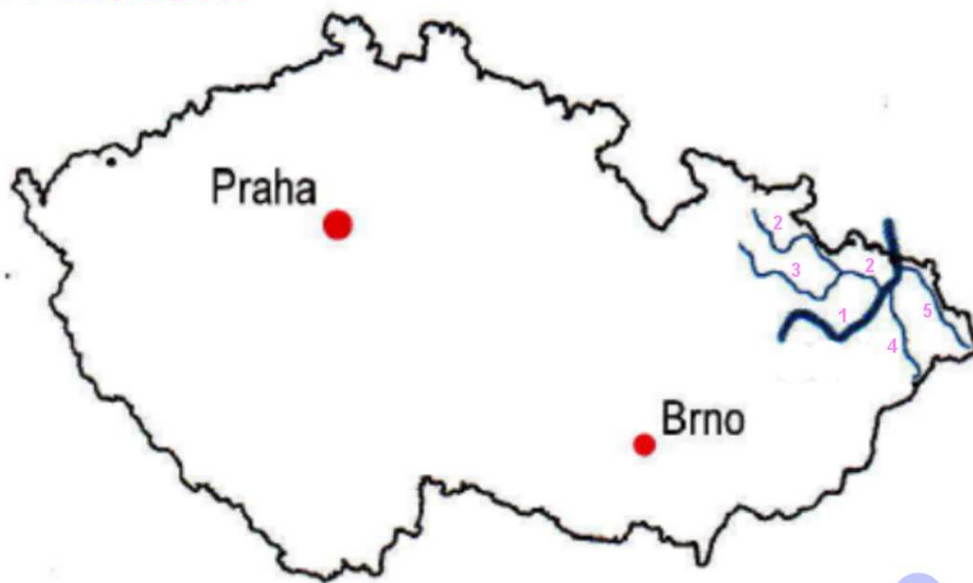


1 2 5
3 4 6

správné řešení

Pracuj s mapou, k názvu řeky přiřaď správné číslo

POVODÍ ODRY



- Odra ● 2
- Ostravice ● 1
- Olše ● 4 3
- Opava ● 5
- Moravice ●

CESTA ŘEKY

OHŘE

SÁZAVA

města, kterými protéká

přítoky zprava

přítoky zleva

místo, kde pramení

Pracuj s mapou

správné řešení

Spoj čarou řeku a její přítok, pracuj s mapou

ŘEKY A JEJICH PŘÍTOKY

Vltava

Morava

Labe

Dyje

Odra

Desná

Ohře

Svratka

Berounka

Bečva

Lužnice

Opava

Jizera

správné řešení

? ? ? ? ? ? ? ?

ŘEŠENÍ

! ! ! ! ! ! ! !

SPRÁVNÉ ŘEŠENÍ

POVODÍ MORAVY

Bečva 4

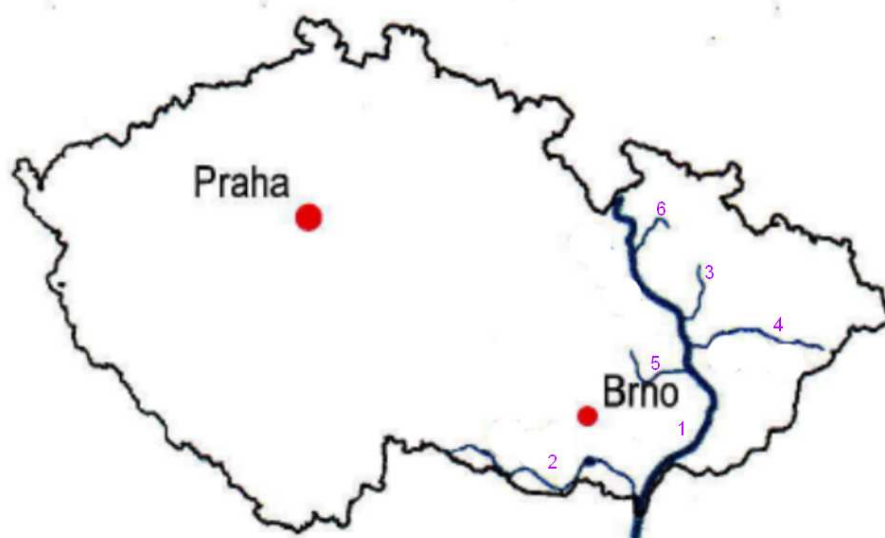
Desná 6

Dyje 2

Haná 5

Morava 1

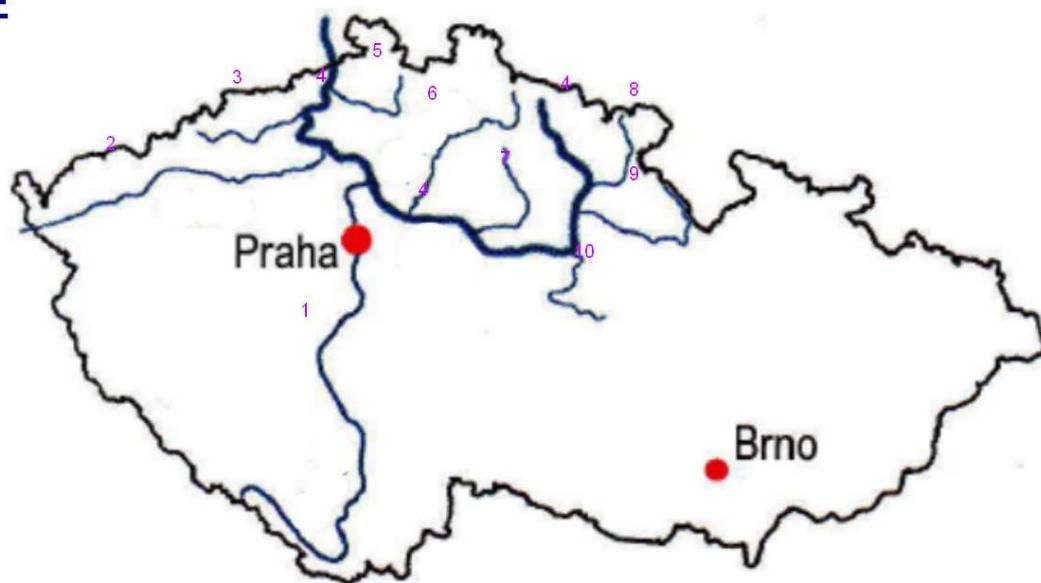
Oskava 3



zpět

SPRÁVNÉ ŘEŠENÍ

POVODÍ LABE



Bílina 3

Jizera 6

Ohře 2

Vltava 1

Cidlina 7

Labe 4

Orlice 9

Chrudimka 10

Metuje 8

Ploučnice 5

[zpět](#)

SPRÁVNÉ ŘEŠENÍ

POVODÍ VLTAVY

Berounka 5

Lužnice 9

Malše 8

Mže 1

Otava 6

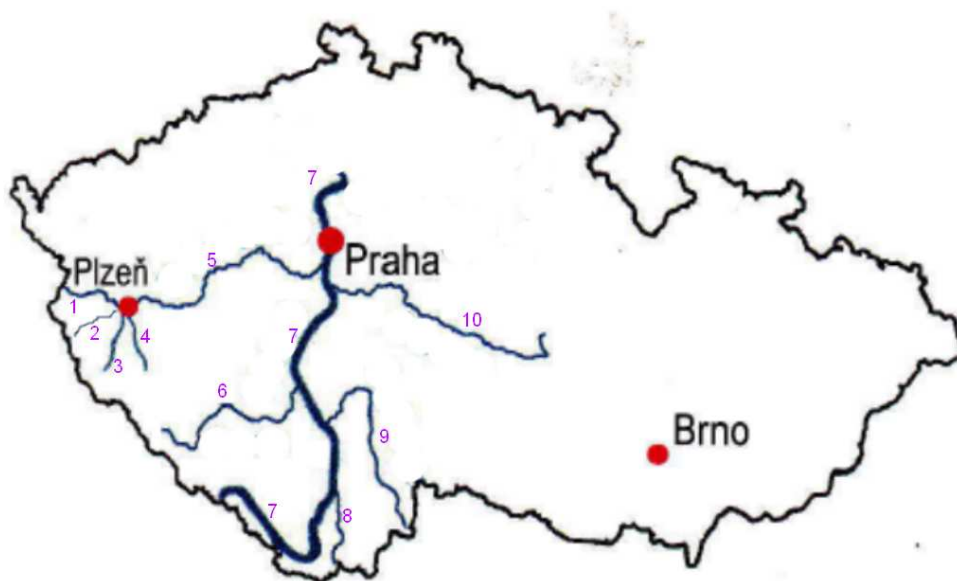
Radbuza 3

Sázava 10

Úhlava 2

Úslava 4

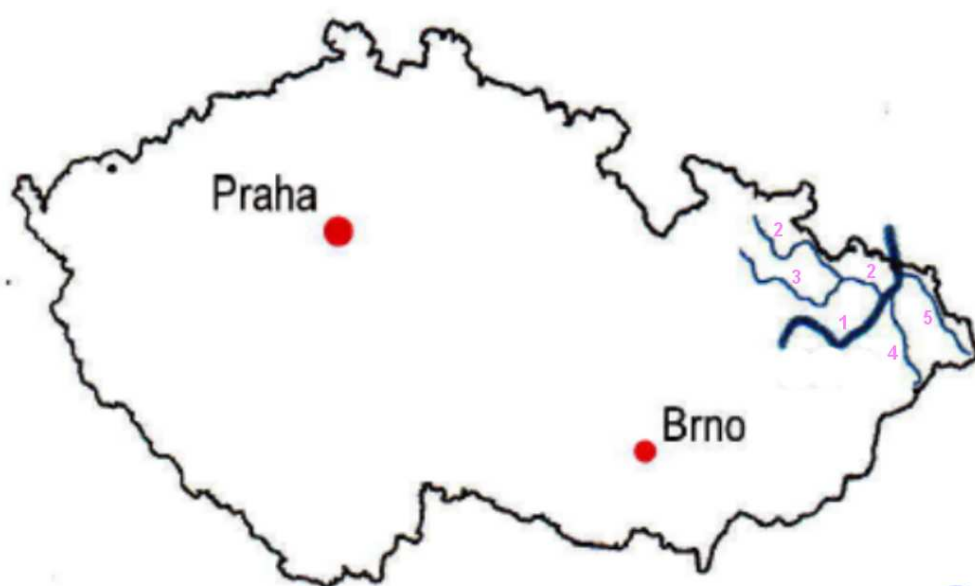
Vltava 7



zpět

SPRÁVNÉ ŘEŠENÍ

POVODÍ ODRY



- Odra 1
- Ostravice 4
- Oíše 5
- Opava 2
- Moravice 3

SPRÁVNÉ ŘEŠENÍ

OHŘE

města, kterými protéká

Cheb

Karlovy Vary

Žatec

přítoky zprava

Teplá

Libava

přítoky zleva

Rolava

Bystřice

Chomutovka

místo, kde pramení

Německo

SÁZAVA

Žďár nad Sázavou

Světlá nad Sázavou

Havlíčkův Brod

Sázavka

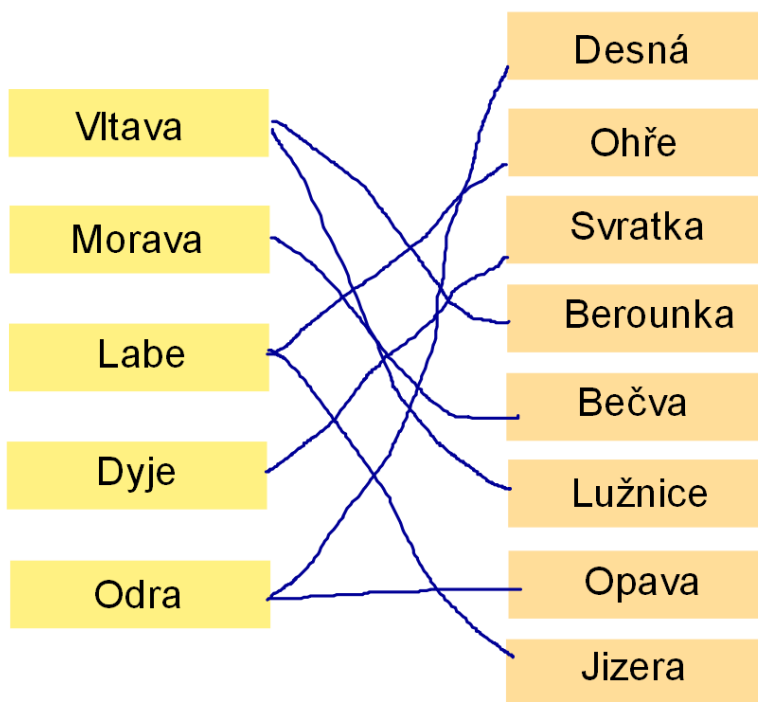
Želivka

Blanice

Českomoravská vrchovina

[zpět](#)

ŘEKY A JEJICH PŘÍTOKY



[zpět](#)