

Šablona III/2 - Inovace a zkvalitnění výuky prostřednictvím ICT

JIHOČESKÝ KRAJ



Anotace: materiál obsahuje 2 úvodní listy, 3 listy s úkoly a 4 listy s řešením

Šablona: III/2

Název: Inovace a zkvalitnění výuky prostřednictvím ICT

Téma: Jihočeský kraj

Autor: Mgr. Jana Jandíková

Očekávaný výstup: podle mapy popíše přírodní poměry kraje, vyhledá významné pamětihodnosti a důležitá města, pracuje s mapou a zjednodušenými mapovými značkami

Klíčová slova: Šumava, Boubínský prales, Vltava, Otava, Lipno, Orlik, Rožmberk, Třeboň, České Budějovice, Písek, Tábor,

Druh učebního materiálu: materiál pro interaktivní tabuli Active Board

Cílová skupina: žák 1. stupně ZŠ

Typická věková skupina: 10 - 11 let

Použité zdroje a materiál: učebnice VL pro 5.roč. ZŠ Česká republika jako součást Evropy, prof. PhDr. Petr Chalupa CSc., Mgr. Věra Štiková, Nová škola 2010
pracovní sešit k učebnici VL pro 5.roč. ZŠ Česká republika jako součást Evropy, Mgr. Věra Štiková, Mgr. Jana Tabarková, Nová škola 2010
obrázky pod licencí Creative Commons
http://cs.wikipedia.org/w/wiki/Soubor:Hluboka_castle.jpg, Ivo Jansch
http://cs.wikipedia.org/w/wiki/Soubor:Hluboka_castle.jpg, Ivo Jansch



INVESTICE DO ROZVOJE VZDĚLÁVÁNÍ

Autorem materiálu a všech jeho částí, není-li uvedeno jinak, je Mgr. Jana Jandíková

Vyhledej v mapě kraje a spoj název se značkou, pracuj s vysvětlivkami



Třeboňsko



Boubínský prales



Rožmberk



Lipno



Český Krumlov



Český Krumlov



Holašovice



Hluboká nad Vltavou



Velešín




České Budějovice

správné řešení


správné řešení

Přečti si následující texty a ke každému textu doplň název


severně od Českých Budějovic,
jaderná elektrárna




řeka, pramení na Šumavě,
pravý přítok Otavy,
v názvu je schováno jméno
dívky v hanlivém zabarvení




město leží na severu kraje,
založeno husity,
název se používá také pro označení
místa letní rekreace dětí



město s méně než 5 000 obyvateli
narodil se zde Jan Hus



řeka v minulosti zlatonosná,
levý přítok Vltavy,
na této řece leží město Písek



Odkrývejte postupně jednotlivé kartičky a poznejte, co je na obrázku

	A	B	C	D	E
1					
2					
4					
3					
6					
5					
7					

správné řešení

řešení

Správné řešení



na další stranu

zpět na úkol



Přečti si následující texty a ke každému textu doplň název

na další stranu

zpět na úkol

severně od Českých Budějovic,
jaderná elektrárna

TEMELÍN

řeka, pramení na Šumavě,
pravý přítok Otavy,
v názvu je schováno jméno
dívky v hanlivém zabarvení

BLANICE

město leží na severu kraje,
založeno husity,
název se používá také pro označení
místa letní rekreace dětí

TÁBOR

město s méně než 5 000 obyvateli
narodil se zde Jan Hus


HUSINEC

řeka v minulosti zlatonosná,
levý přítok Vltavy,
na této řece leží město Písek

OTAVA

zpět na úkol

zámek Hluboká nad Vltavou



http://cs.wikipedia.org/w/wiki/Soubor:Hluboka_castle.jpg, Iv o Jansch

