

Šablona III/2 - Inovace a zkvalitnění výuky prostřednictvím ICT

DĚLENÍ 2



INVESTICE DO ROZVOJE VZDĚLÁVÁNÍ

Anotace: materiál obsahuje 2 úvodní listy, 3 pracovní listy a 4 listy s řešením

Šablona: III/2

Název: Inovace a zkvalitnění výuky prostřednictvím ICT

Téma: Dělení 2

Autor: Mgr. Jana Jandíková

Očekávaný výstup: žák zakresluje příklady na dělení 2, zná postup při dělení, počítá, řeší slovní úlohy

Klíčová slova: dělení, slovní úloha, řešení, odpověď

Druh učebního materiálu: předváděcí sešit Active Board

Cílová skupina: žák 1. stupně

Typická věková skupina: 7 - 8 let

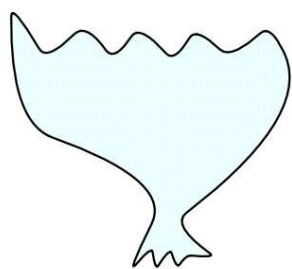
Použité zdroje a materiál: pracovní sešit Matematika pro 2.ročník, sešit 6, Alter 2012
obrázky dostupné pod licencí Public domain na www.clker.com
<http://www.clker.com/clipart-12201.html>
<http://www.clker.com/clipart-12199.html>
<http://www.clker.com/clipart-12190.html>
<http://www.clker.com/clipart-12176.html>
<http://www.clker.com/clipart-12235.html>
<http://www.clker.com/search/#lower/1>
<http://www.clker.com/clipart-12202.html>
<http://www.clker.com/clipart-12171.html>
<http://www.clker.com/clipart-12208.html>
<http://www.clker.com/clipart-black-bean-2.html>



INVESTICE DO ROZVOJE VZDĚLÁVÁNÍ

Autorem materiálu a všech jeho částí, není-li uvedeno jinak, je Mgr. Jana Jandíková

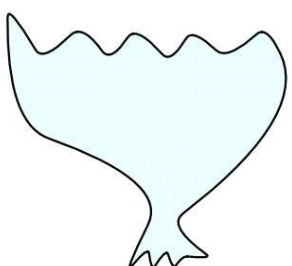

V květinářství měli 14 růží.
Paní květinářka uvázala z těchto růží 2 kytice.
Kolik květů měla každá kytice?



růží

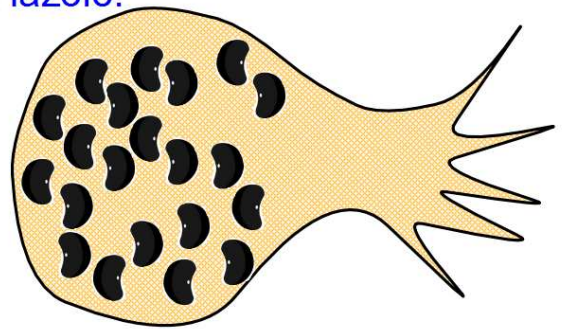
kytic

1 kytice růží



V jedné kytici bude růží,


Zahradník sázel 20 fazolí. Do důlků dával vždy 2 fazole.
Kolik důlků musel vyhloubit?



fazolí

v 1 důlku

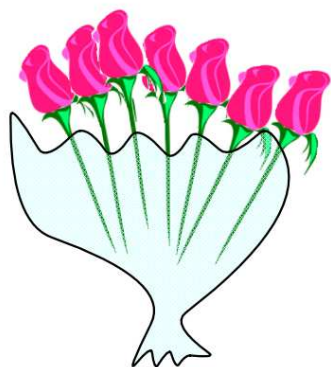

důlků



Zahradník vyhloubil důlků.

ŘEŠENÍ


V květinářství měli 14 růží.
Paní květinářka uvázala z těchto růží 2 kytice.
Kolik květů měla každá kytice?



růží

kytic


1 kytice růží



$$\underline{14 : 2 = 7}$$

V jedné kytici bude růží.

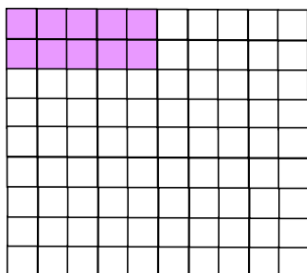
Na pouti šlo 10 dětí na kolotoč.
Posadily se do lodiček po 2.
Kolik lodiček obsadily?



dětí 10

v 1 lodičce 2

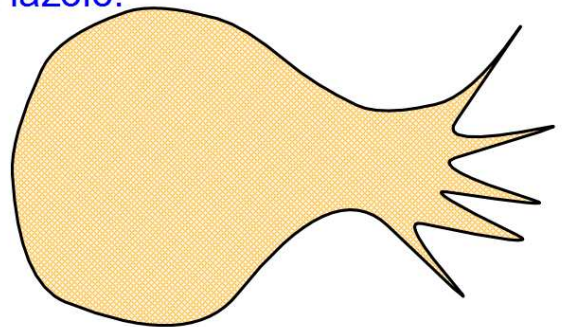
lodiček ?



$$10 : 2 = 5$$

Děti obsadily 5 lodiček.

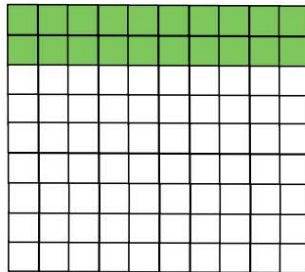
Zahradník sázel 20 fazolí. Do důlků dával vždy 2 fazole.
Kolik důlků potřeboval?



fazolí 20

v 1 důlku 2

důlků ?



$$20 : 2 = 10$$

Zahradník potřeboval 10 důlků.

