

Šablona III/2 - Inovace a zkvalitnění výuky prostřednictvím ICT

DĚLENÍ 5



INVESTICE DO ROZVOJE VZDĚLÁVÁNÍ

Anotace: materiál obsahuje 2 úvodní listy, 3 pracovní listy a 4 listy s řešením

Šablona: III/2

Název: Inovace a zkvalitnění výuky prostřednictvím ICT

Téma: Dělení 5

Autor: Mgr. Jana Jandíková

Očekávaný výstup: žák zakresluje příklady na dělení 5, zná postup při dělení, počítá, řeší slovní úlohy

Klíčová slova: dělení, slovní úloha, řešení, odpověď

Druh učebního materiálu: předváděcí sešit Active Board

Cílová skupina: žák 1.stupně

Typická věková skupina: 7 - 8 let

Použité zdroje a materiál: pracovní sešit Matematika pro 2.ročník, sešit 6, Alter 2012

obrázky dostupné pod licencí Public domain na www.clker.com

<http://www.clker.com/clipart-24778.html>

<http://www.clker.com/clipart-basket-16.html>

obrázky ze softwaru knihovny Active Board



INVESTICE DO ROZVOJE VZDĚLÁVÁNÍ

Autorem materiálu a všech jeho částí, není-li uvedeno jinak, je Mgr. Jana Jandíková



Rozdělte 15 preclíků na 5 misek. Kolik preclíků bude na jedné misce?



preclíků

misek

na 1 misce




Na 1 misce budou preclíky.

Uklidíte hračky do poliček tak, aby v každé polici byl stejný počet.
Kolik hraček jste poklidili?

polic

hraček celkem

v 1 polici



Poklidili jsme celkem hraček.




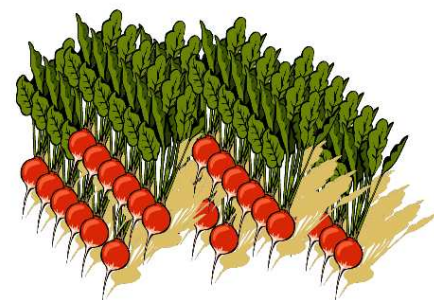
Zahradník vysázel 30 ředkviček
do 5 řádků. V každém řádku
je stejný počet ředkviček.
Kolik ředkviček zasadil do jednoho řádku?

ředkviček

řádků

v 1 řádku

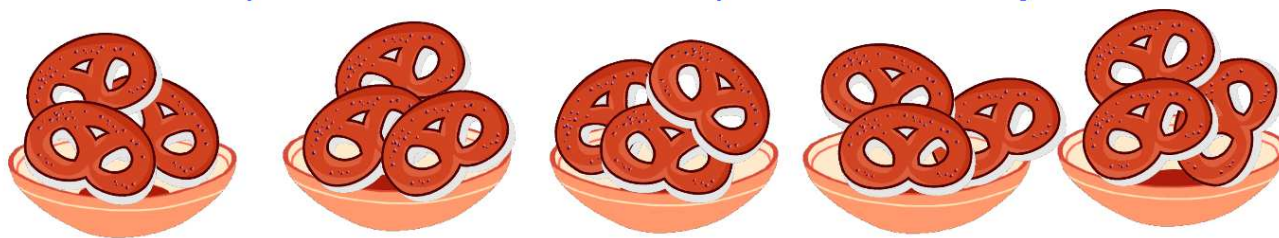




Zahradník zasadil do jednoho řádku ředkviček.

ŘEŠENÍ


Rozdělte 15 preclíků na 5 misek. Kolik preclíků bude na jedné misce?



preclíků 15

misek 5

na 1 misce ?



$$\underline{20 : 5 = 4}$$

Na 1 misce budou 4 preclíky.




Uklidíte 15 hraček do poliček tak, aby v každé polici byl stejný počet.
Kolik hraček jste poklidili?

hraček celkem 15

polic 5

v 1 polici ?



$$15 : 5 = 3$$

Poklidili jsme celkem 3 hraček.



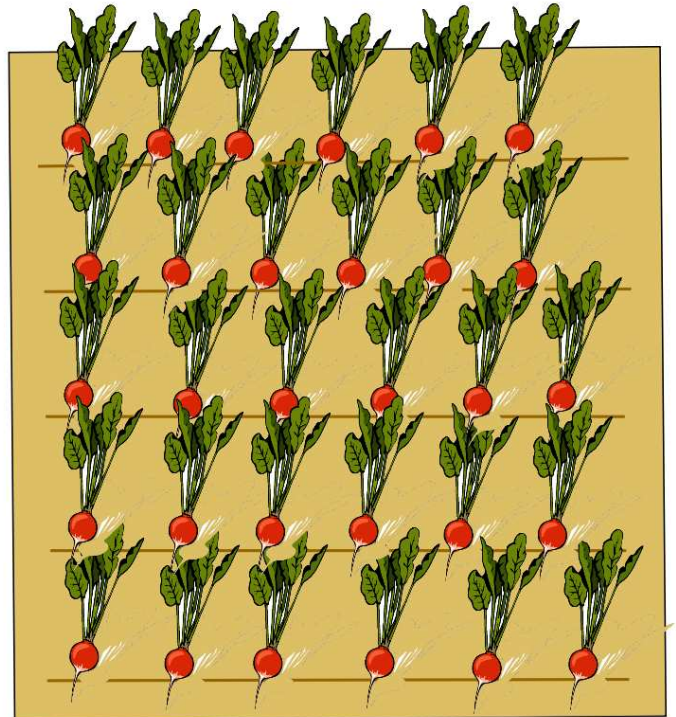
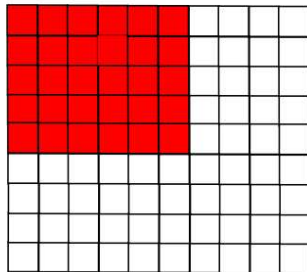
Zahradník vysázel 30 ředkviček
do 5 řádků. V každém řádku
je stejný počet ředkviček.
Kolik ředkviček zasadil do jednoho řádku?

ředkviček 30

řádků 5

v 1 řádku ?

$$30 : 5 = 6$$



Zahradník zasadil do jednoho řádku 6 ředkviček.

