

**Šablona III/2 - Inovace a zkvalitnění výuky prostřednictvím ICT**

# NÁSOBENÍ 6



INVESTICE DO ROZVOJE VZDĚLÁVÁNÍ

**Anotace:** materiál obsahuje 2 úvodní listy, 3 pracovní listy a 4 listy s řešením

**Šablona:** III/2

**Název:** Inovace a zkvalitnění výuky prostřednictvím ICT

**Téma:** Násobení 6

**Autor:** Mgr. Jana Jandíková

**Očekávaný výstup:** žák zakresluje příklady na násobení 6, zná násobky 6, počítá, řeší slovní úlohy

**Klíčová slova:** násobení, slovní úloha, řešení, odpověď

**Druh učebního materiálu:** předváděcí sešit Active Board

**Cílová skupina:** žák 1.stupně

**Typická věková skupina:** 7 - 8 let

**Použité zdroje a materiál:** pracovní sešit Matematika pro 2.ročník, sešit 6, Alter 2012  
obrázky z knihovny softwaru Active Board  
obrázky dostupné pod licencí Public domain na [www.clker.com](http://www.clker.com)  
<http://www.clker.com/clipart-15922.html>



INVESTICE DO ROZVOJE VZDĚLÁVÁNÍ

Autorem materiálu a všech jeho částí, není-li uvedeno jinak, je Mgr. Jana Jandíková

Vybarvi násobky čísla 6.

0	1	2	3	4	5	6	7	8	9	10
	11	12	13	14	15	16	17	18	19	20
	21	22	23	24	25	26	27	28	29	30
	31	32	33	34	35	36	37	38	39	40
	41	42	43	44	45	46	47	48	49	50
	51	52	53	54	55	56	57	58	59	60


Paní učitelka rozdávala dětem sešity.  
Každé ze 6 dětí dostalo 7 sešitů.  
Kolik sešitů musela paní učitelka nachystat.



dětí

sešitů pro 1 dítě

sešitů celkem



---

Paní učitelka musela nachystat  sešitů.

Malá Anička váží 6 kilogramů.  
Její bratříček Pěťa váží 5 krát více.  
Kolik kilogramů váží Pěťa?



Anička

--	--	--	--	--	--	--	--	--	--

Pěťa


Anička

Pěťa  krát více

Pěťa

---

Pěťa váží  kilogramů

**ŘEŠENÍ**

Vybarvi násobky čísla 6.

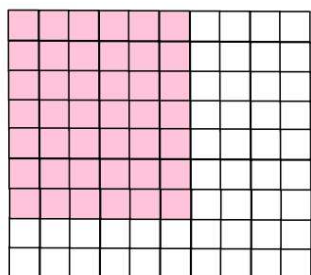
0	1	2	3	4	5	6	7	8	9	10
	11	12	13	14	15	16	17	18	19	20
	21	22	23	24	25	26	27	28	29	30
	31	32	33	34	35	36	37	38	39	40
	41	42	43	44	45	46	47	48	49	50
	51	52	53	54	55	56	57	58	59	60

Paní učitelka rozdávala dětem sešity.  
Každé ze 6 dětí dostalo 7 sešitů.  
Kolik sešitů musela paní učitelka nachystat.

dětí


sešitů pro 1 dítě

sešitů celkem



$$\underline{6 \cdot 7 = 42}$$

Paní učitelka musela nachystat  sešitů.





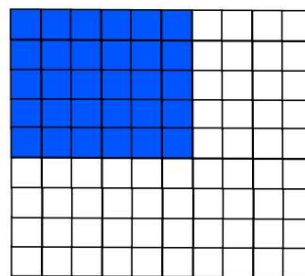
Malá Anička váží 6 kilogramů.  
Její bratříček Pěťa váží 5 krát více.  
Kolik kilogramů váží Pěťa?



Anička



Pěťa



Anička

Pěťa  krát více

Pěťa

$$\underline{6 \cdot 5 = 30}$$

Pěťa váží  kilogramů

