

Šablona III/2 - Inovace a zkvalitnění výuky prostřednictvím ICT

DĚLENÍ 6



INVESTICE DO ROZVOJE VZDĚLÁVÁNÍ

Anotace: materiál obsahuje 2 úvodní listy, 3 pracovní listy a 4 listy s řešením

Šablona: III/2

Název: Inovace a zkvalitnění výuky prostřednictvím ICT

Téma: Dělení 6

Autor: Mgr. Jana Jandíková

Očekávaný výstup: žák zakresluje příklady na dělení 6, zná postup při dělení, počítá, řeší slovní úlohy

Klíčová slova: dělení, slovní úloha, řešení, odpověď

Druh učebního materiálu: předváděcí sešit Active Board

Cílová skupina: žák 1.stupně

Typická věková skupina: 7 - 8 let

Použité zdroje a materiál: pracovní sešit Matematika pro 2.ročník, sešit 6, Alter 2012
obrázky ze softwaru knihovny Active Board



INVESTICE DO ROZVOJE VZDĚLÁVÁNÍ


Autorem materiálu a všech jeho částí, není-li uvedeno jinak, je Mgr. Jana Jandíková

V obchodě skládali prázdné lahve od piva.
48 lahví naskládali do 6 řad.
Kolik lahví bylo v 1 řadě?

lahví

řad


lahví v 1 řadě





V 1 řadě bylo lahví.


Paní učitelka rozdávala dětem barevné papíry.
 Nejdříve rozdala 6 dětem 24 barevných papírů
 a potom dalším 6 dětem rozdala 36 barevných papírů.
 Kolik papírů dostaly děti v obou skupinách.




papírů

dětí

1 dítě




V 1.skupině dostalo 1 dítě papíry.



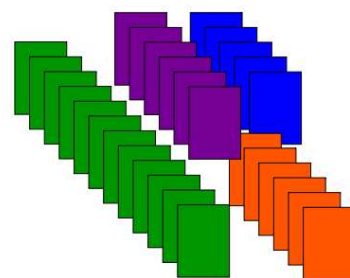
papírů

dětí

1 dítě



Ve 2.skupině dostalo 1 dítě papírů.



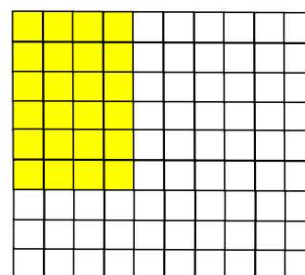
ŘEŠENÍ

V zahradě kvetlo 24 žlutých květin.
Červených květin rozkvetlo 6 krát méně.
Kolik červených květin v zahradě kvetlo.

červených



žlutých




žlutých 24

červených 6 krát méně

červených ?

$$\underline{24 : 6 = 4}$$



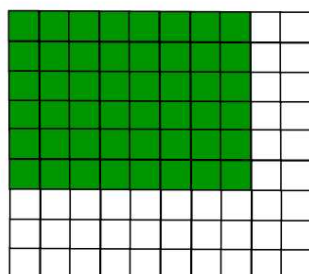
V zahradě kvetlo 4 červených květin.

V obchodě skládali prázdné lahve od piva.
48 lahví naskládali do 6 řad.
Kolik lahví bylo v 1 řadě?

lahví

řad


lahví v 1 řadě



$$\underline{48 : 6 = 8}$$

V 1 řadě bylo lahví.

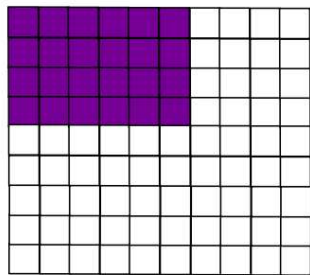
Paní učitelka rozdávala dětem barevné papíry.
 Nejdříve rozdala 6 dětem 24 barevných papírů
 a potom dalším 6 dětem rozdala 36 barevných papírů.
 Kolik papírů dostaly děti v obou skupinách.



papírů 24


dětí 6

1 dítě ?



$$24 : 6 = 4$$

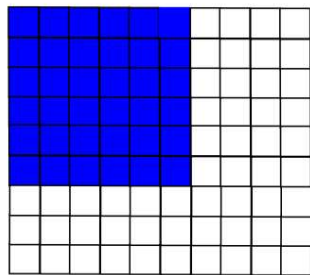
V 1.skupině dostalo 1dítě 4 papíry.



papírů 36

dětí 6

1 dítě ?



$$36 : 6 = 6$$

Ve 2.skupině dostalo 1 dítě 6 papírů.

