



INVESTICE DO ROZVOJE VZDĚLÁVÁNÍ

ANOTACE : Materiál obsahuje pracovní list pro procvičení tématu hodiny a po kontrole pedagogem i k sebehodnocení, pracovní list je možné použít i k prověřování znalostí k částem lidského těla

Šablona: **III/2 – Inovace a zkvalitnění výuky prostřednictvím ICT**

Název: Naše tělo

Téma: Člověk a jeho zdraví

Autor: Jana Navrátilová

Očekávaný výstup: žák umí správně určit části těla člověka, zná jejich správnou funkci

Klíčová slova: hlava, pravé rameno, levé rameno, koleno, pata, loket, krk, oči, ústa, prsty, zápěstí,...

Druh učebního materiálu: pracovní list

Cílová skupina: žák

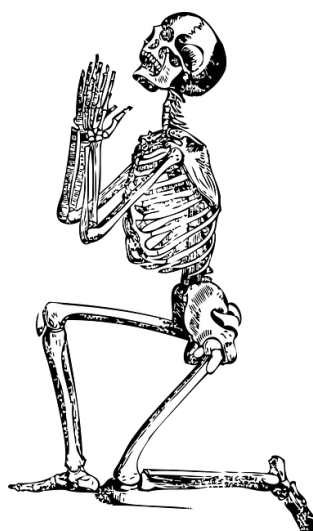
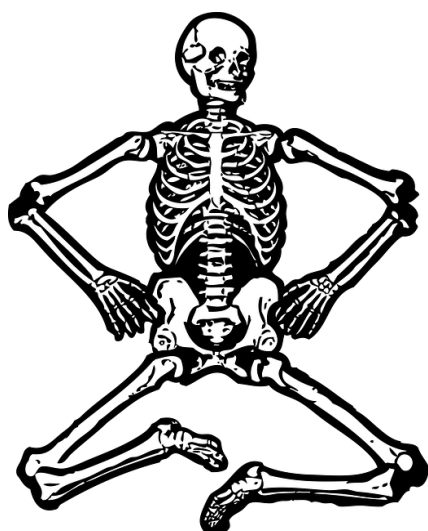
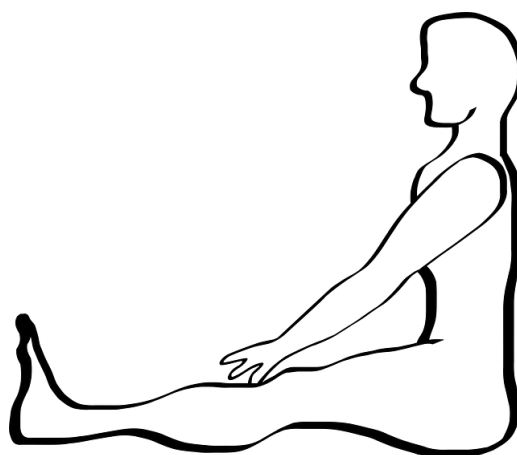

Typická věková skupina: 6-7 let

Použité zdroje: Veškerý obrazový materiál [cit. 2013-02-26]. Dostupný pod licencí Public domain na www:

lidské tělo: http://pixabay.com/p-37479/?no_redirect	sedící kostra: http://pixabay.com/p-29380/?no_redirect
ležící hoch: http://pixabay.com/p-37263/?no_redirect	ruka: http://pixabay.com/p-24446/?no_redirect
sedící postava: http://pixabay.com/p-23897/?no_redirect	oko: http://pixabay.com/p-38039/?no_redirect
2 postavy: http://www.tomtherapy.co.il/image/users/189509/ftp/my_files/123.jpg?id=8500009	
černá silueta: http://pixabay.com/p-37469/?no_redirect	celá ruka: http://pixabay.com/p-32515/?no_redirect
ústa: http://pixabay.com/p-25601/?no_redirect	hlava: http://pixabay.com/p-31100/?no_redirect
jazyk: http://pixabay.com/p-35319/?no_redirect	dvě chodidla: http://pixabay.com/p-42939/?no_redirect
prosící kostra: http://pixabay.com/p-33847/?no_redirect	noha: http://pixabay.com/p-33397/?no_redirect
ruka v pěst: http://pixabay.com/p-29383/?no_redirect	

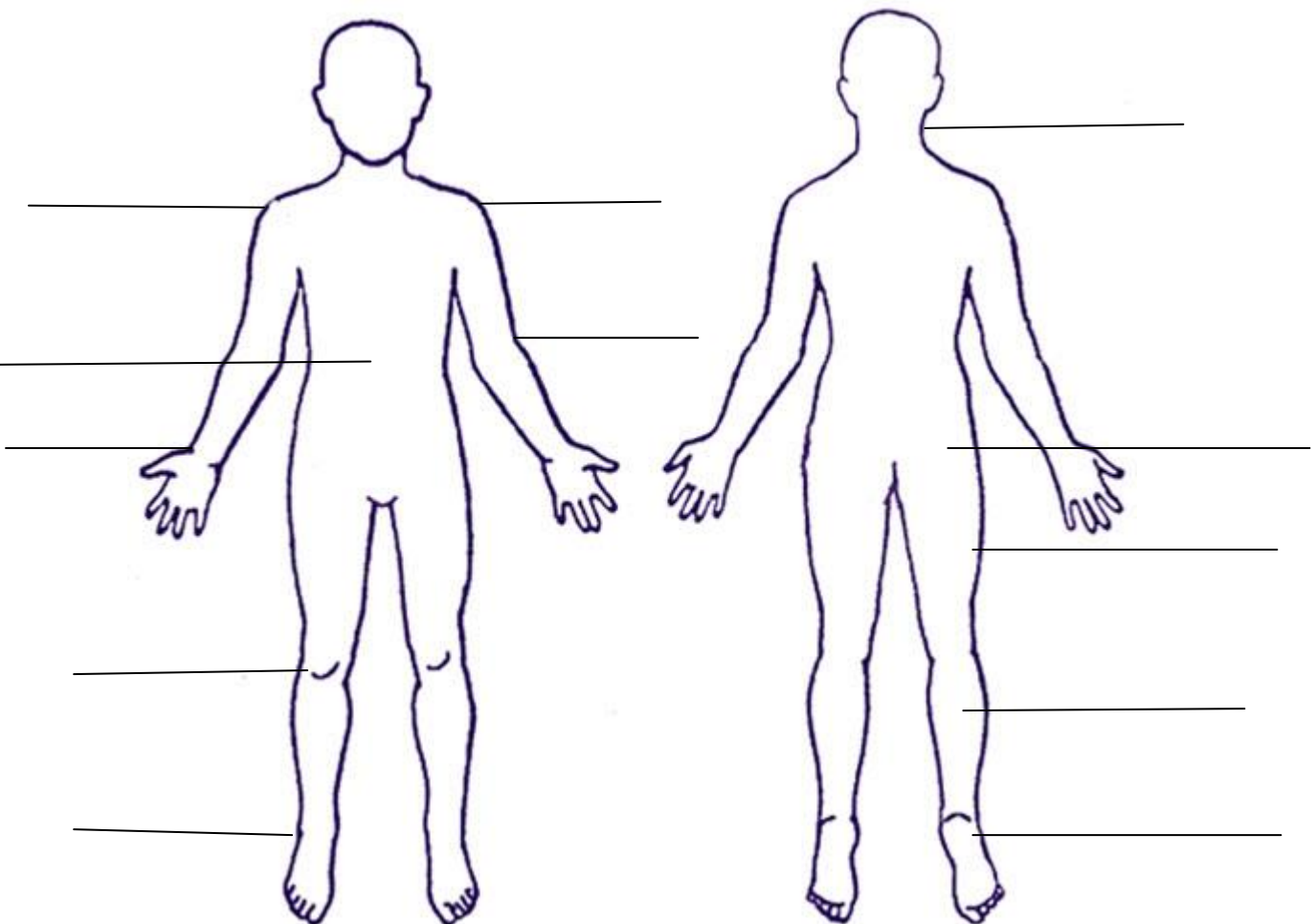
Použitý materiál: Prvouka pro 1.ročník základní školy, Nakladatelství Fraus 2008

Naše tělo











Zapisuj čísla k postavám:

1. Levé rameno	5. Pravé rameno	9. Zápěstí
2. Loket	6. Stehno	10. Hýždě
3. Koleno	7. Lýtko	11. Břicho
4. Pata	8. Kotník	12. Krk



Očísluj správně část těla podle jejího názvu:

 _____	 _____	 _____	 _____
1. ÚSTA	2. RUKA	3. PRSTY	4. OKO
 _____	 _____	 _____	 _____
5. ZÁPĚSTÍ	6. NOHA	7. JAZYK	8. CHODIDLA

Vyškrtni vetřelce, který nepatří k částem lidského těla:

Hlava	Hrudník	Břicho	Kotník	Zadní končetiny
Chodidlo	Pata	Krk	Trup	Rameno
Loket	Stehno	Koleno	Zápěstí	Prsty

Nakresli:

ruku	oko	nohu	tvář
hlavu	obočí	krk	patu
čelo	řasy	nos	břícho
ucho	rameno	vlasý	prsty ruky

Co najdeš na svém těle v páru (po dvou)?

.....
.....

