



| | |
|--------------------------|---|
| ANOTACE | materiál určený k rozšiřování vědomostí žáků |
| Šablona | III/2 – Inovace a zkvalitnění výuky prostřednictvím ICT |
| Název: | Díla předků |
| Očekávaný výstup: | žák si rozšíří svoje vědomosti o dochovaných technických památkách |
| Klíčová slova: | novověk, světadíl, objevení Ameriky, Kryštof Kolumbus, hamr, buchar, rybník, Jakub Krčín z Jelčan a Sedlčan, Rožmberkové |
| Druh učebního materiálu: | pracovní list |
| Cílová skupina: | žák |
| Typická věková skupina: | 9-10 let |
| Použitá literatura: | Společnost pro 4.ročník základní školy, Nakladatelství Fraus 2010 |
| Použité zdroje: | http://mapasveta.info/svet/mapa_sveta_slepa_mapa.html http://m.radio.cz/cz/rubrika/cestujeme/sedlcany-mesto-kde-uchovavaji-v-trezoru-vzacny-krcinuv-kancional http://www.berkovstizesebirova.wz.cz |

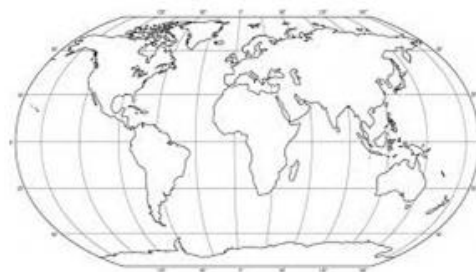

Díla předků

Jméno: _____

Novověk přinesl pokrok. Vysvětli, co to znamená? _____

Který světadíl byl objeven v roce 1492 a kým? Vyřeš tajenky a světadíl vybarvi.

- manželka Karla IV.
- velkomoravský kníže
- známá pradlena
- Přemyslovo příjmení
- husitský hejtman
- zastupitel středověkého města
- vykonavatel hrdelního práva



$$\left[\text{Bicycles} - A \right] + UM + \left[\text{Bus} - \text{Car} \right] = \underline{\hspace{2cm}}$$

V roce 1492 byla objevena _____.

Objevil ji mořeplavec Kryštof _____

plující pod španělskou vlajkou. Narodil se v Janově (Itálie). Na obrázku je jeho vlastnoruční podpis.



Jak nazval domorodé obyvatelstvo a proč? _____

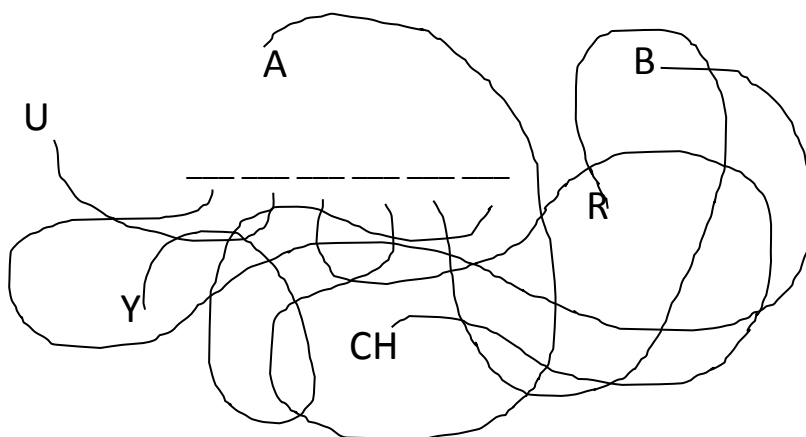
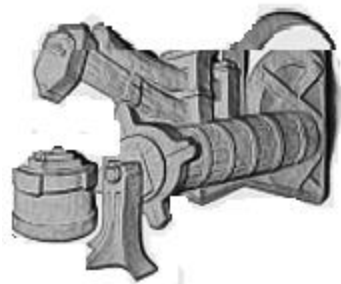
Novověk v Českých zemích začal v _____ století.

Na českém trůně sedí _____, kteří se dělí o vládu se šlechtou a městy. Dochází k obnově hornictví.

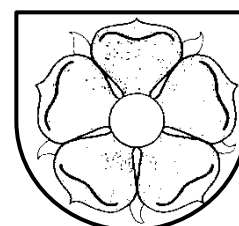
Těžilo se: názvy poznej z obrázků a tajenky a doplň tabulku)

| | | | | | | | | | | | |
|---|---|--|--|--|--|--|--|--|--|--|--|
| | | <table border="1" style="display: inline-table;"> <tr><td> </td><td> </td><td> </td></tr> <tr><td> </td><td> </td><td> </td></tr> <tr><td> </td><td> </td><td> </td></tr> </table> <p>zbraň husitů skákající hračka šlechtic</p> | | | | | | | | | |
| | | | | | | | | | | | |
| | | | | | | | | | | | |
| | | | | | | | | | | | |
| <p>_____</p> | <p>_____</p> | <p>_____</p> | | | | | | | | | |
| <p>Těžilo se v Jáchymově. Vyráběly se z něho ozdobné předměty a sloužilo jako platidlo - _____. Z jeho názvu vzniklo slovo dolar.</p> | <p>Vyrábělo se z něho nářadí a _____.</p> | <p>Bohatší lidé z něho vyráběli nádobí, mísy a svícny. Z jeho slitiny se odlévala děla a _____.</p> | | | | | | | | | |

Ke zpracování kovů sloužily stroje poháněné vodou. Proto se u nás začalo s výstavbou rybníků, ve kterých se shromažďovala voda. Ta byla pak odváděla náhony k mlýnům, hamrům nebo dolům. Hamr byl kovářská dílna vybavená stroji poháněnými vodním kolem. Tato velká kladiva se nazývala



Jakub Krčín z Jelčan a Sedlčan byl stavitel rybníků v Jižních Čechách okolo města _____. Jeho název je ukrytý v písnička Okolo _____, okolo _____ pasou se tam koně, pasou se tam koně. Velkou část života sloužil u rodu Rožmberků a zasloužil se o rozkvět jejich panství. Říkalo se jim také Páni z růže. Vybarvi červeně erb, který jim asi mohl patřit?



Jakub Krčín postavil rybník Nevděk, který byl později přejmenován na rybník _____¹⁾.

Stavbu svého životního díla, mohutného rybníka Rožmberk, začal roku 1584. Práce trvaly 6 let. Byl tedy dokončen v roce _____. Měl rozlohu 1000 ha. Je nazýván _____²⁾ moře.

1) Napiš jiný název Země _____



2) _____

ÈKZÈĀHIL

Promysli a doplň tabulku:

Jak lidé zasahovali do krajiny, toků řek, různými stavbami.

| Období | Starověk | Středověk | Novověk | Dnes |
|-----------------|--|--|---|------|
| Přeměna krajiny | Lidé se přizpůsobovali krajině nebo odešli jinam | Kácení lesů Zakládání měst a vesnic | Zasahováním do přírody – stavba _____ Budování cest Stavby mlýnů a _____. | |