

Šablona III/2- Inovace a zkvalitnění výuky prostřednictvím ICT

## GEOMETRICKÉ TVARY



INVESTICE DO ROZVOJE VZDĚLÁVÁNÍ






Základní škola Moravany, okres Brno-venkov, příspěvková organizace <b>ANOTACE</b>	
<b>Šablona:</b>	III/2
<b>Název:</b>	Inovace a zkvalitnění výuky prostřednictvím ICT
<b>Téma:</b>	Geometrické tvary
	Rozlišování základních geometrických tvarů. Rozklad obrázku na jednotlivé geom. tvary.
<b>Autor:</b>	Mgr. Milena Šilhánová
<b>Očekávaný výstup:</b>	Žák rozlišuje geometrické tvary.
<b>Klíčová slova:</b>	Geometrické tvary, čtverec, kruh, trojúhelník, obdélník
<b>Druh učebního materiálu:</b>	Pracovní list
<b>Cílová skupina:</b>	Žák 1. stupně ZŠ
<b>Typická věková skupina:</b>	2. ročník ZŠ
<b>Použité zdroje a materiály:</b>	vlastní



INVESTICE DO ROZVOJE VZDĚLÁVÁNÍ

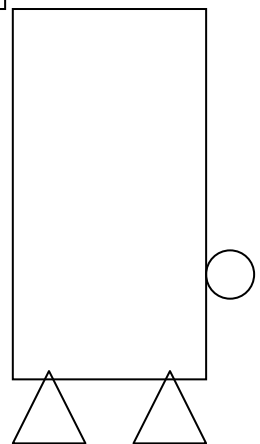
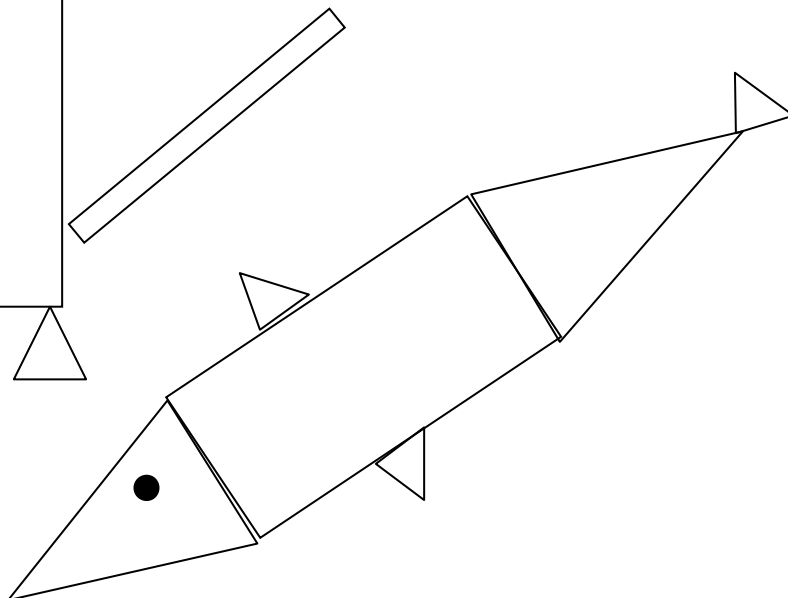
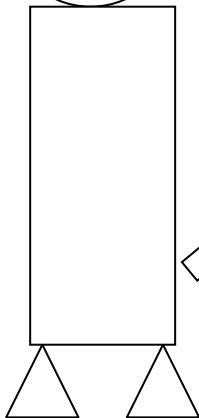
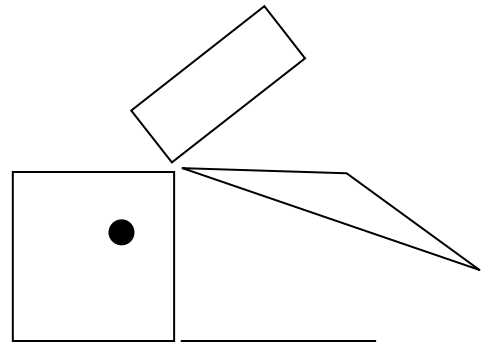
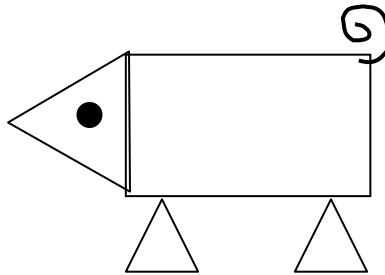

1

Najdi všechny trojúhelníky, spočítej je a vybarvi červeně. Čtverce modře, kruhy zeleně a obdélníky žlutě.



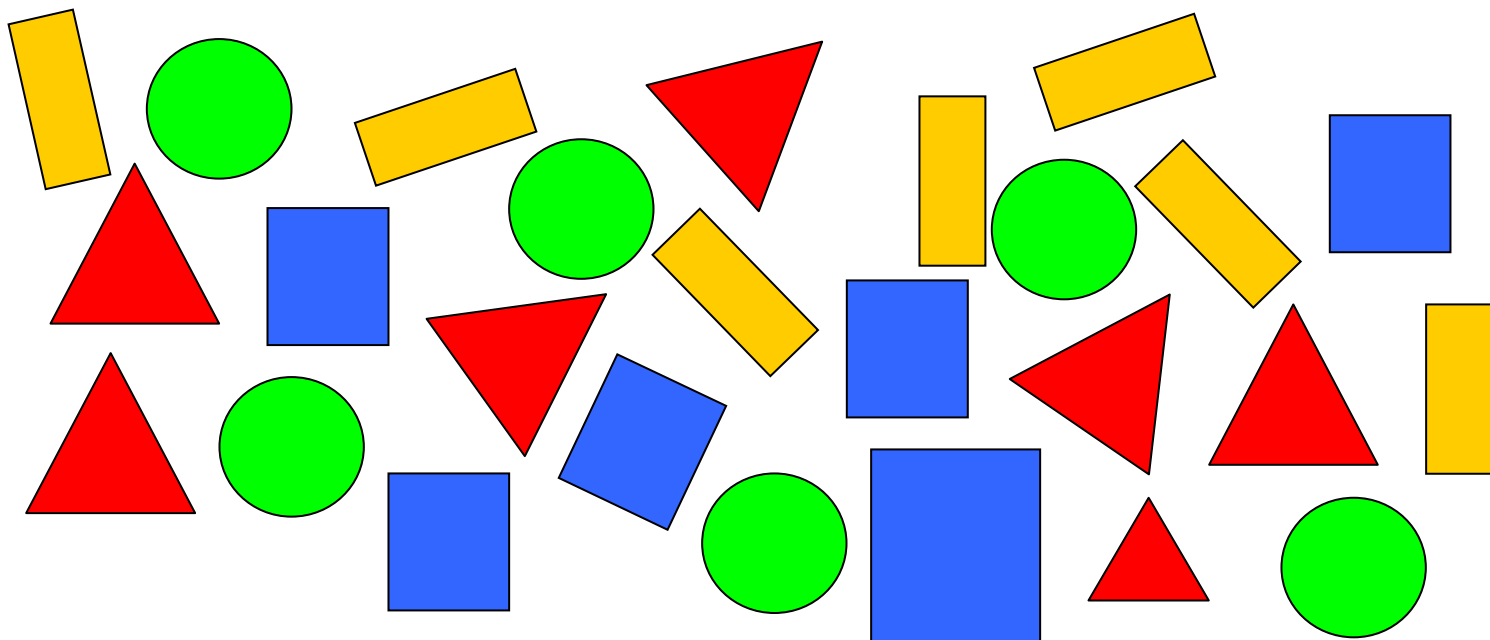
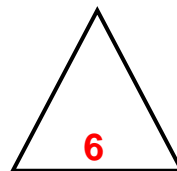

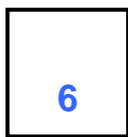
1

Ze kterých geometrických tvarů jsou sestavena zvířátka? Vybarvi stejně jako v úkolu 1.



1

Najdi všechny trojúhelníky, spočítej je a vybarvi červeně. Čtverce modře, kruhy zeleně a obdélníky žlutě.



2

Ze kterých geometrických tvarů jsou sestavena zvířátka ? Vybarvi stejně jako v úkolu 1.

