

Šablona III/2- Inovace a zkvalitnění výuky prostřednictvím ICT

SČÍTÁNÍ A ODČÍTÁNÍ DO 100 S PŘECHODEM 10



evropský
sociální
fond v ČR



EVROPSKÁ UNIE



MINISTERSTVO ŠKOLSTVÍ,
MLÁDEŽE A TĚLOVÝCHOVY



OP Vzdělávání
pro konkurenceschopnost

INVESTICE DO ROZVOJE VZDĚLÁVÁNÍ

Základní škola Moravany, okres Brno-venkov, příspěvková organizace ANOTACE	
Šablona:	III/2
Název:	Inovace a zkvalitnění výuky prostřednictvím ICT
Téma:	Sčítání a odčítání do 100 s přechodem 10
	Procvičování sčítání a odčítání. Volba správné početní operace. O kolik je jedno číslo větší než druhé.
Autor:	Mgr. Milena Šilhánová
Očekávaný výstup:	Žák sčítá a odčítá do 100 s přechodem 10. Rozumí pojmu sloupec a řádek.
Klíčová slova:	Sčítání, odčítání, porovnávání čísel
Druh učebního materiálu:	Pracovní list
Cílová skupina:	Žák 1. stupně ZŠ
Typická věková skupina:	2. ročník ZŠ
Použité zdroje a materiály:	vlastní



evropský
sociální
fond v ČR



EVROPSKÁ UNIE







MINISTERSTVO ŠKOLSTVÍ,
MLÁDEŽE A TĚLOVÝCHOVY



OP Vzdělávání
pro konkurenceschopnost

INVESTICE DO ROZVOJE VZDĚLÁVÁNÍ





1 Jaké znaménko (+, -) doplníš ?

	55	64	26	98	44	52	33
?							
	7	8	5	9	7	9	4
 ? 	48	72	31	89	37	61	29

2 Zapiš součty :

+	32	89	63	47	42	55	68
3							
9							
6							
8							
7							

3 Doplně:

\$	ψ	\$ - ψ			 + 
84	6		82		91
74		67	44	8	
	5	46	15		22
62	8			54	61
	7	34	23		31

4 Porovnej. O kolik je jedno číslo větší než druhé (či naopak)?



87 ___ 82





56 ___ 65

43 ___ 51

16 ___ 22

77 ___ 83

1 Jaké znaménko (+, -) doplníš ?





	55	64	26	98	44	52	33
?	-	+	+	-	-	+	-
	7	8	5	9	7	9	4
 ? 	48	72	31	89	37	61	29

2 Zapiš součty :

+	32	89	63	47	42	55	68
3	35	92	66	50	45	58	71
9	41	98	72	56	51	64	77
6	38	94	69	53	48	61	74
8	40	97	71	55	50	63	76
7	39	96	70	54	49	62	75

3 Doplně:

\$	ψ	\$ - ψ
84	6	78
74	7	67
51	5	46
62	8	54
41	7	34

		 + 
82	9	91
44	8	52
15	7	22
7	54	61
23	8	31

4 Porovnej. O kolik je jedno číslo větší než druhé (či naopak)?

- | | | | | |
|---------|---------|---------|---------|---------|
| 5 | 9 | 8 | 6 | 6 |
| 87 > 82 | 56 < 65 | 43 < 51 | 16 < 22 | 77 < 83 |