

Šablona III/2- Inovace a zkvalitnění výuky prostřednictvím ICT

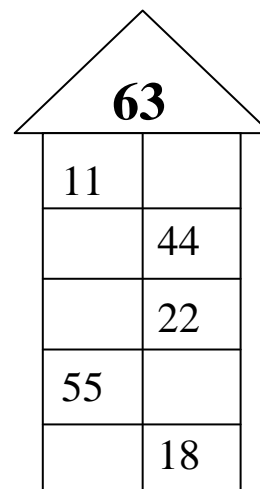
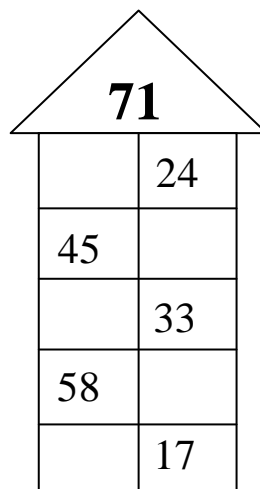
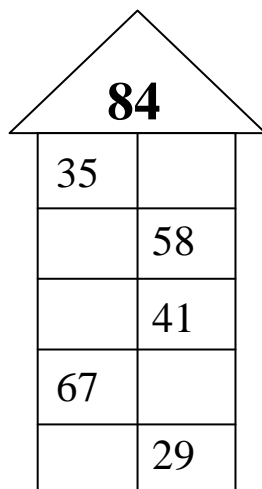
SČÍTÁNÍ A ODČÍTÁNÍ DO 100



INVESTICE DO ROZVOJE VZDĚLÁVÁNÍ

Základní škola Moravany, okres Brno-venkov, příspěvková organizace ANOTACE	
Šablona:	III/2
Název:	Inovace a zkvalitnění výuky prostřednictvím ICT
Téma:	Sčítání a odčítání do 100
	Sčítání a odčítání v oboru čísel do 100 s přechodem přes desítku.
Autor:	Lucie Pospíšilová
Očekávaný výstup:	Žáci si procvičují sčítání a odčítání v oboru čísel do 100.
Klíčová slova:	Sčítání, odčítání
Druh učebního materiálu:	Pracovní list
Cílová skupina:	Žák 1. stupně ZŠ
Typická věková skupina:	5. ročník ZŠ
Použité zdroje a materiály:	http://www.massdym.com/2547/christmas-star-coloring-page.html http://www.google.cz/imgres?q=heart+coloring+pictures&hl=en&tbo=d&biw=1141&bih=715&tbm=isch&tbnid=cQC8SOMYBFAhgM:&imgrefurl=http://adventuresinjayjayland.blogspot.com/2011/01/u-is-for-umbrella.html&docid=jm6BaKMPG4e2jM&imgurl=http://www.lil-fingers.com/coloring/images/heart.gif&w=504&h=648&ei=qOnzUPyeJ4TsgbXvYHYCw&zoom=1&iact=hc&vpx=660&vpy=349&dur=1093&hovh=255&hovw=198&tx=88&ty=165&sig=114934973952024729734&page=2&tbnh=143&tbnw=111&start=32&ndsp=40&ved=1t:429,r:37,s:0,i:209 http://twistynoodle.com/sun-3-coloring-page/ http://www.picgifs.com/coloring-pages/moon/707/moon-coloring-pages-14/

1. Do domečků doplň čísla tak, aby součet čísel v jednom patře byl číslem na střeše.



2. Podle tabulky odpovídá každému obrázku jedno číslo. Za obrázky dosad' čísla a příklady vypočítej.

35	18	25	86	47	59

-	$86 - 18 =$
+	
$(\text{star} + \text{square}) - \text{heart}$	
$(\text{moon} - \text{sun}) - \text{triangle}$	
$\text{heart} + (\text{square} - \text{star})$	
+ +	

3. Doplň tabulku:

***	33	48	64	26	52
o 27 více					

***	72	46	87	92	55
o 31 méně					

- 4. Po několika odehraných zápasech nastříleli hokejisté brněnské Komety 37 gólů, hokejisté Zlína 35 gólů a liberečtí Tygři 28 gólů. Kolik gólů nastříleli všechny týmy dohromady?**

Zápis: _____

_____ *Výpočet:* _____

_____ *Odpověď:* _____

- 5. Závodu ve slalomu se zúčastnilo 66 lyžařů, snowboardistů bylo o 48 méně. Kolik snowboardistů se zúčastnilo slalomu?**

Zápis: _____

_____ *Výpočet:* _____







_____ *Odpověď:* _____














ŘEŠENÍ:


1. Do domečků doplň čísla tak, aby součet čísel v jednom patře byl číslem na střeše.

84		71		63	
35	49	47	24	11	52
26	58	45	26	19	44
43	41	38	33	41	22
67	17	58	13	55	8
55	29	54	17	45	18

2. Podle tabulky odpovídá každému obrázku jedno číslo. Za obrázky dosad' čísla a příklady vypočítej.

					
35	18	25	86	47	59

 - 	$86 - 18 = 68$
 + 	$35 + 59 = 94$
( + ) - 	$(25 + 47) - 35 = 37$
( - ) - 	$(86 - 18) - 59 = 9$
 + ( - )	$35 + (47 - 25) = 57$

	$18 + 18 + 18 = 54$
---	---------------------

3. Doplň tabulku:

***	33	48	64	26	52
o 27 více	60	75	91	53	79

***	72	46	87	92	55
o 31 méně	41	14	56	61	24

4. Po několika odehraných zápasech nastříleli hokejisté brněnské Komety 37 gólů, hokejisté Zlína 35 gólů a liberečtí Tygři 28 gólů. Kolik gólů nastříleli všechny týmy dohromady?

Zápis: Kometa – 37 gólů
 Zlín – 35 gólů
 Tygři – 28 gólů

Výpočet: $37 + 35 + 28 = 100$

Odpověď: Všechny týmy dohromady nastřílely 100 gólů.

5. Závodu ve slalomu se zúčastnilo 66 lyžařů, snowboardistů bylo o 48 méně. Kolik snowboardistů se zúčastnilo slalomu?

Zápis: lyžařů – 66
 snowboardistů – o 48 méně než

Výpočet : $66 - 48 = 18$

Odpověď : Závodu se zúčastnilo 18 snowboardistů

ODKAZY:

<http://www.massdym.com/2547/christmas-star-coloring-page.html>

http://www.google.cz/imgres?q=heart+coloring+pictures&hl=en&tbo=d&biw=1141&bih=715&tbm=isch&tbnid=cQC8SOMYBFAhgM:&imgrefurl=http://adventuresinjayjayland.blogspot.com/2011/01/u-is-for-umbrella.html&docid=jm6BaKMPG4e2jM&imgurl=http://www.lil-fingers.com/coloring/images/heart.gif&w=504&h=648&ei=qOnzUPyeJ4_TsgbXvYHYCw&zoom=1&iact=hc&vpx=660&vpy=349&dur=1093&hovh=255&hovw=198&tx=88&ty=165&sig=114934973952024729734&page=2&tbnh=143&tbnw=111&start=32&ndsp=40&ved=1t:429,r:37,s:0,i:209

<http://twistynoodle.com/sun-3-coloring-page/>

<http://www.picgifs.com/coloring-pages/moon/707/moon-coloring-pages-14/>