

VY_32_INOVACE_M4_10_17

Šablona III/2

Inovace a zkvalitnění výuky prostřednictvím ICT

NAKUPUJEME V KVĚTINÁŘSTVÍ U RŮŽÍ



evropský
sociální
fond v ČR



EVROPSKÁ UNIE



MINISTERSTVO ŠKOLSTVÍ,
MLÁDEŽE A TĚLOVÝCHOVY



OP Vzdělávání
pro konkurenceschopnost

INVESTICE DO ROZVOJE VZDĚLÁVÁNÍ








Základní škola Moravany, okres Brno-venkov, příspěvková organizace ANOTACE	
Šablona:	III/2
Název:	Inovace a zkvalitnění výuky prostřednictvím ICT
Téma:	Nakupujeme v květinářství „U růží“
	Žáci pracují ve skupince, řeší jednoduché příklady malé i velké násobilky při nákupu květin
Autor:	Mgr. Marie Příborská
Očekávaný výstup:	Používá přirozená čísla k modelování reálných situací z praktického života
Klíčová slova:	malá a velká násobilka, využití v praxi, hra, obchod, ceny květin
Druh učebního materiálu:	Pracovní list
Cílová skupina:	Žák 1. stupně ZŠ
Typická věková skupina:	4. ročník ZŠ
Použité zdroje a materiály:	Zdroj obrázků: http://images.google.com/ vlastní



INVESTICE DO ROZVOJE VZDĚLÁVÁNÍ

V květinářství „U růží“

- Maminka Petříka a Věrky bude mít narozeniny, a tak tatínek vzal děti do květinářství koupit kytky.

 4	karafiát	1 ks 22,-	 5	orchidej	1 ks 45,-	 3	anturie	1 ks 55,-
 1	růže	1 ks 50,-	 7	gerbera	1 ks 35,-	 2	vánoční hvězda	1 ks 99,-
						 6	chryzantéma	1 ks 25,-

- Spočítejte, kolik zaplatili:

Tatínek mamince koupil 5 červených růží.



Věrka si hodně našetřila, tak mohla koupit tři anturie.



Petřík moc peněz neměl, proto koupil tři karafiáty.



- Kolik zaplatili celkem? _____

- Kolik zaplatily děti? _____

Odpovědi: _____

- Počítejte, kolik bychom zaplatili:

1.



2.



3.



4.



5.



- Máte 150 Kč. Co byste si mohli koupit? Spočítejte, kolik zaplatíte a kolik vám zůstane:

Zaplatíme: _____ Zůstane: _____

- Vymyslete a nakreslete svoji květinu a navrhněte její cenu.

1 kus: _____

5 kusů: _____

Kolik bude stát pět

kusů této květiny?

Řešení:

Tatínek: $50 \cdot 5 = 250$

Tatínek zaplatil 250 Kč.

Věrka: $55 \cdot 3 = 165$

Věrka zaplatila 165 Kč.

Petřík: $22 \cdot 3 = 66$

Petřík zaplatil 66 Kč.

Celkem zaplatili: $250 + 165 + 66 = 481$ Celkem zaplatili 481 Kč.Děti zaplatily: $165 + 66 = 231$ Děti zaplatily 231 Kč.

1. $2 \cdot 99 = 198$

2. $3 \cdot 45 = 135$

3. $5 \cdot 25 = 125$

4. $7 \cdot 50 = 350$

5. $8 \cdot 35 = 280$

Zdroj obrázků: <http://images.google.com/>1. Růže: <http://www.vendyatelier.cz/sites/default/files/images/ruze2.jpg>2. Poinzetie: <http://www.kvetinydofirmy.cz/pictures/L2/van-005-poinzetie.jpg>3. Anturie: <http://www.flowerpost.cz/wp-content/uploads/2012/11/1004-300x300.jpg>

4. Karafiát:

<http://www.carithers.com/images/pageMakerImages/Carnation111080111834.jpg>5. Orchidej: http://www.garten.cz/images_data/5824-pokojove-orchideje-1.jpg6. Chryzantéma: http://azdekor.cz/files/products/chryzantema_jednotl.Livo_oranz.jpg7. Gerbera: <http://images.fineartamerica.com/images-medium-large/gerbera-flowers-carlos-caetano.jpg>