

Šablona III/2- Inovace a zkvalitnění výuky prostřednictvím ICT

SVĚTOVÉ STRANY



evropský
sociální
fond v ČR



EVROPSKÁ UNIE



MINISTERSTVO ŠKOLSTVÍ,
MLÁDEŽE A TĚLOVÝCHOVY



OP Vzdělávání
pro konkurenceschopnost

INVESTICE DO ROZVOJE VZDĚLÁVÁNÍ

VY_32_INOVACE_PRV3_7_02

Základní škola Moravany, okres Brno-venkov, příspěvková organizace ANOTACE	
Šablona:	III/2
Název:	Inovace a zkvalitnění výuky prostřednictvím ICT
Téma:	Světové strany
	Žáci si procvičují určování světových stran, zkratk světových stran.
Autor:	Jana Kroupová
Očekávaný výstup:	Zopakování světových stran, procvičování zkratk světových stran.
Klíčová slova:	světové strany, hlavní světové strany, vedlejší světové strany, sever, jih, západ, východ
Druh učebního materiálu:	Pracovní list
Cílová skupina:	Žák 1. stupně ZŠ
Typická věková skupina:	3. ročník ZŠ
Použité zdroje a materiály:	<ol style="list-style-type: none">1. vlastní2. http://www.predskolaci.cz/?tag=domecek#jp-carousel-40293. http://janoch.borec.cz/omal/16_kluk.jpg4. http://wiki.rvp.cz/@api/deki/files/9457/=kvetiny01.jpg5. http://fotoalba.centrum.cz/original.php?pid=19835343&psize=16. http://wiki.rvp.cz/@api/deki/files/17185/=traktorTCH.jpg7. http://www.i-creative.cz/2012/03/06/sovy-obrazky/8. http://www.detskeomalovanky.cz/wp-content/houba.gif9. http://fotoalba.centrum.cz/original.php?pid=19835333&psize=1



evropský
sociální
fond v ČR



EVROPSKÁ UNIE



MINISTERSTVO ŠKOLSTVÍ,
MLÁDEŽE A TĚLOVÝCHOVY

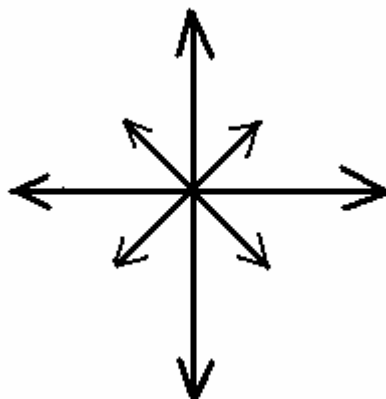


OP Vzdělávání
pro konkurenceschopnost

INVESTICE DO ROZVOJE VZDĚLÁVÁNÍ

1. Doplň světové strany do směrové ružice.

1.



2. **Nakresli do obrázku:** na východ od stanoviště strom, na jih od stanoviště vlajku, na severovýchod od stanoviště pařez, na sever od stanoviště auto, na jihovýchod od stanoviště dům, na západ od stanoviště mraveniště, na severozápad od stanoviště studánku a na jihozápad od stanoviště kočku.




3. Napiš, co vidíš na obrázku:

Na severu _____ na jihu _____

Na severovýchodě _____ na západě _____

Na jihovýchodě _____ na východě _____

Na severozápadě _____ na jihozápadu _____



4. Napiš, co znamenají zkratky:

S _____

J _____

V _____

Z _____

SV _____

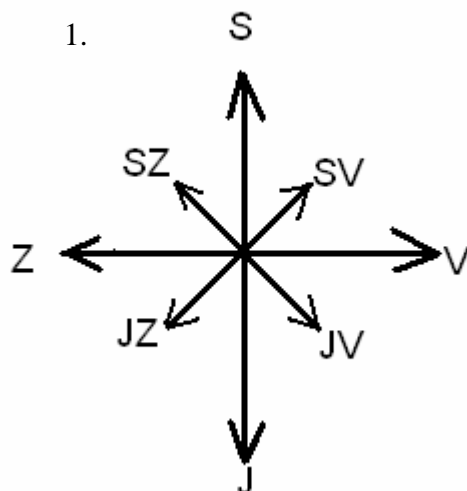
SZ _____

JZ _____

JV _____

ŘEŠENÍ

1. Doplň světové strany do směrové ružice.



2. Nakresli do obrázku: na východ od stanoviště strom, na jih od stanoviště vlajky, na severovýchod od stanoviště pařez, na sever od stanoviště auto, na jihovýchod od stanoviště dům, na západ od stanoviště mraveniště, na severozápad od stanoviště studánku a na jihozápad od stanoviště kočka.

AUTO

STUDÁNKY

PAŘEZ

MRAVENIŠTĚ



STROM


KOČKA

DŮM

VLAJKA

3. Napiš, co vidíš na obrázku:

Na severu	DŮM	na jihu	TRAKTOR
Na severovýchodě	KLUK	na západě	HOUBA
Na jihovýchodě	LISTNATÝ STROM	na východě	KVĚTINA
Na severozápadě	JEHLIČNATÝ STROM	na jihozápadu	SOVA



4. Napiš, co znamenají zkratky:

S	sever	J	jih
V	východ	Z	západ
SV	severovýchod	SZ	severozápad
JZ	jihozápad	JV	jihovýchod