

Šablona III/2- Inovace a zkvalitnění výuky prostřednictvím ICT

HODINY



evropský
sociální
fond v ČR



EVROPSKÁ UNIE



MINISTERSTVO ŠKOLSTVÍ,
MLÁDEŽE A TĚLOVÝCHOVY



OP Vzdělávání
pro konkurenceschopnost

INVESTICE DO ROZVOJE VZDĚLÁVÁNÍ

VY_32_INOVACE_PRV3_7_05

Základní škola Moravany, okres Brno-venkov, příspěvková organizace ANOTACE	
Šablona:	III/2
Název:	Inovace a zkvalitnění výuky prostřednictvím ICT
Téma:	Hodiny
	Žáci si procvičují určování času, zakreslují čas do hodin, procvičují si přiřazování čísel k měsícům.
Autor:	Jana Kroupová
Očekávaný výstup:	Procvičení určování času, přiřazování měsíců a jejich čísel.
Klíčová slova:	hodiny, minuty, měsíce
Druh učebního materiálu:	Pracovní list
Cílová skupina:	Žák 1. stupně ZŠ
Typická věková skupina:	3. ročník ZŠ
Použité zdroje a materiály:	1. vlastní



evropský
sociální
fond v ČR



EVROPSKÁ UNIE



MINISTERSTVO ŠKOLSTVÍ,
MLÁDEŽE A TĚLOVÝCHOVY

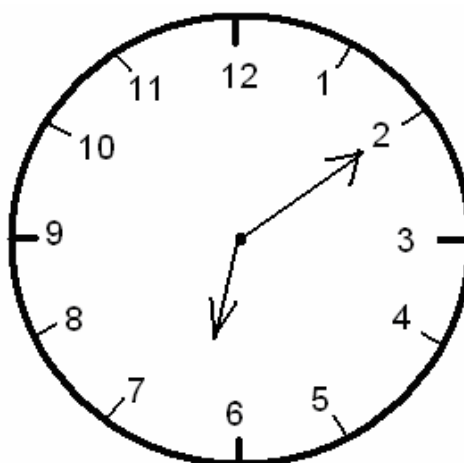
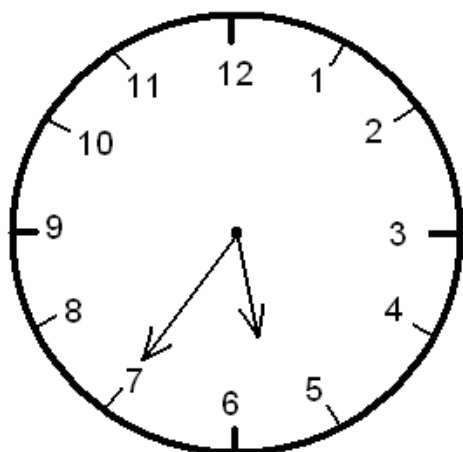
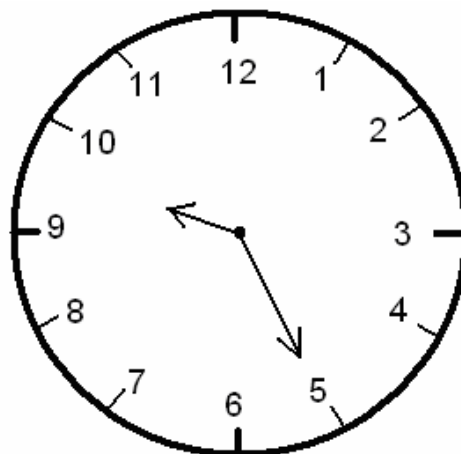
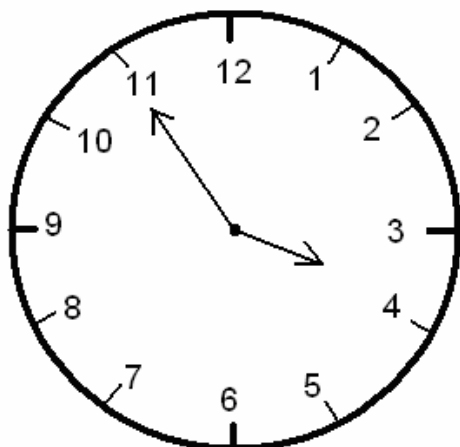


OP Vzdělávání
pro konkurenceschopnost

INVESTICE DO ROZVOJE VZDĚLÁVÁNÍ

1. Napiš, kolik je hodin.

1.



2. K měsícům doplň jejich čísla

Únor _____

březen _____

Prosinec _____

červenec _____

Červen _____

září _____

Srpen _____

duben _____

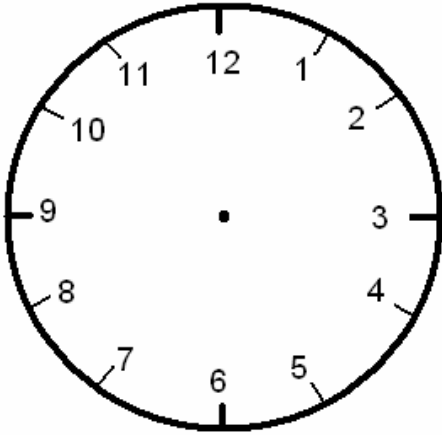
Listopad _____

říjen _____

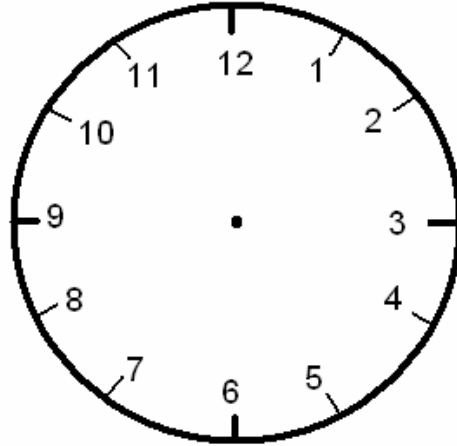
Leden _____

květen _____

2. Nakresli ručičky tak, aby ukazovaly napsaný čas



Za deset minut půl šesté



za pět minut čtvrt na deset

4. Přepiš podle vzoru:

10. listopadu – 10. 11.

21. prosince - _____

28. února - _____

9. ledna - _____

15. července - _____

22. září - _____

5. 3. – 5. března

16. 10. - _____

30. 8. - _____

8. 4. - _____

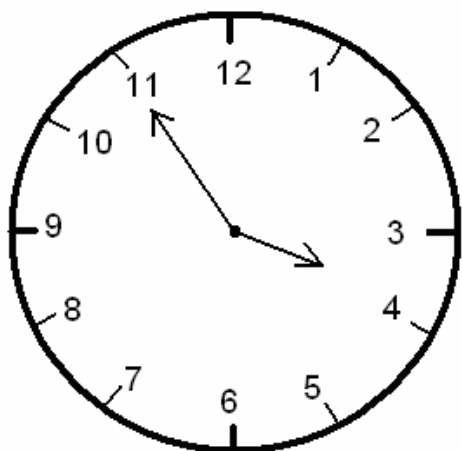
14. 6. - _____

21. 5. - _____

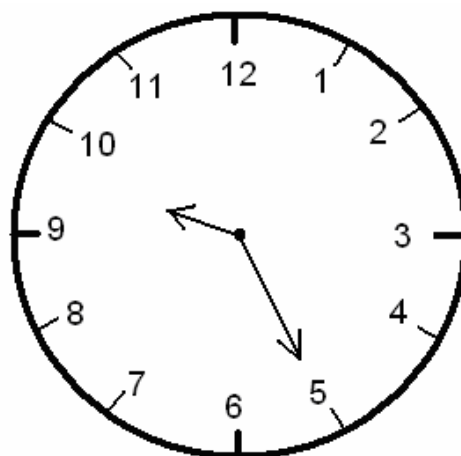
Řešení

1. Napiš, kolik je hodin.

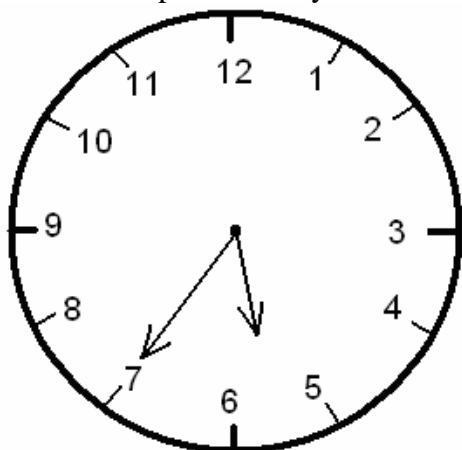
1.



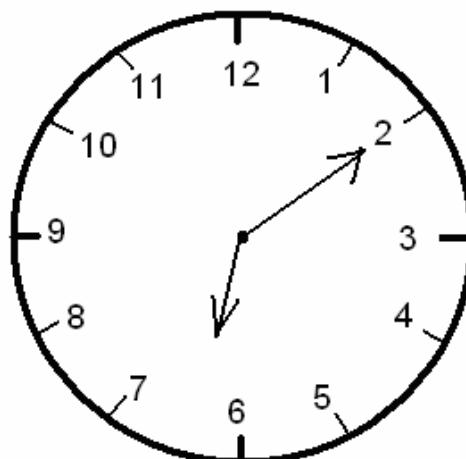
za pět minut čtyři



za pět minut půl desáté



za deset minut třičtvrtě na šest



za pět minut čtvrt na sedm

2. K měsícům doplň jejich čísla

Únor 2.

březen 3.

Prosinec 12.

červenec 7.

Červen 6.

září 9.

Srpen 8.

duben 4.

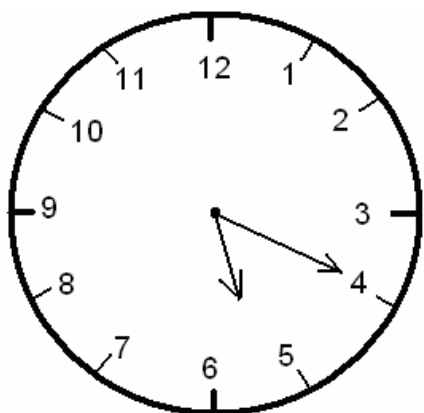
Listopad 11.

říjen 10.

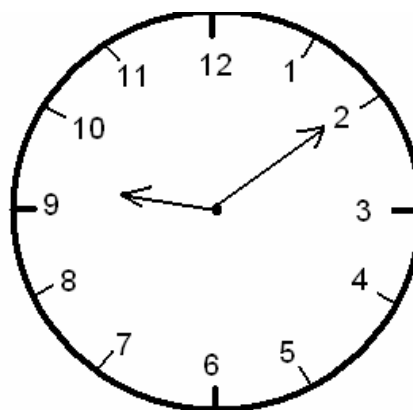
Leden 1.

květen 5.

3. Nakresli ručičky tak, aby ukazovaly napsaný čas



Za deset minut půl šesté



za pět minut čtvrt na deset

4. Přepiš podle vzoru:

10. listopadu – 10. 11.

21. prosince – 21. 12.

28. února – 28. 2.

9. ledna – 9. 1.

15. července – 15. 7.

22. září – 22. 9.

5. 3. – 5. března

16. 10. – 16. října

30. 8. – 30. srpna

8. 4. – 8. dubna

14. 6. – 14. června

21. 5. – 21. května