

Šablona V/2- Inovace a zkvalitnění výuky v oblasti přírodních věd

BĚLÁSEK ZELNÝ



evropský
sociální
fond v ČR



EVROPSKÁ UNIE



MINISTERSTVO ŠKOLSTVÍ,
MLÁDEŽE A TĚLOVÝCHOVY



OP Vzdělávání
pro konkurenceschopnost

INVESTICE DO ROZVOJE VZDĚLÁVÁNÍ

VY_52_INOVACE_PR5_2_08

Základní škola Moravany, okres Brno-venkov, příspěvková organizace	
ANOTACE	
Šablona:	V/2
Název:	Inovace a zkvalitnění výuky v oblasti přírodních věd
Téma:	Bělásek zelný
	Žáci poskládají z dílků běláška zelného, sestaví jeho vývoj od vajíčka po dospělého jedince
Autor:	Jana Kroupová
Očekávaný výstup:	Zopakování poznatků o životě, vývoji a stavbě těla běláška zelného
Klíčová slova:	bělásek zelný, části těla, vývojová stádia, vajíčko, housenka, kukla, dospělý jedinec
Druh učebního materiálu:	Pracovní list
Cílová skupina:	Žák 1. stupně ZŠ
Typická věková skupina:	5. ročník ZŠ
Použité zdroje a materiály:	1. – 4. – Přírodověda 5. ročník, nakladatelství Prodos. strana 44 2. http://leccos.com/index.php/clanky/belasci



evropský
sociální
fond v ČR



EVROPSKÁ UNIE



MINISTERSTVO ŠKOLSTVÍ,
MLÁDEŽE A TĚLOVÝCHOVY



OP Vzdělávání
pro konkurenceschopnost

INVESTICE DO ROZVOJE VZDĚLÁVÁNÍ

1. Z čeho se skládá tělo běláška zelného?

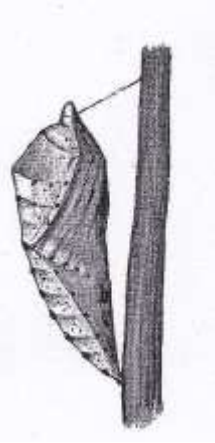
2. Jak se projevuje přemnožení běláška zelného?

3. Čím se živí bělásek zelný?

4. Z přílohy vystřihni vývojová stadia, nalep je ve správném pořadí a napiš k nim správná jména.

5. Poskládej a nalep obrázek běláška zelného.

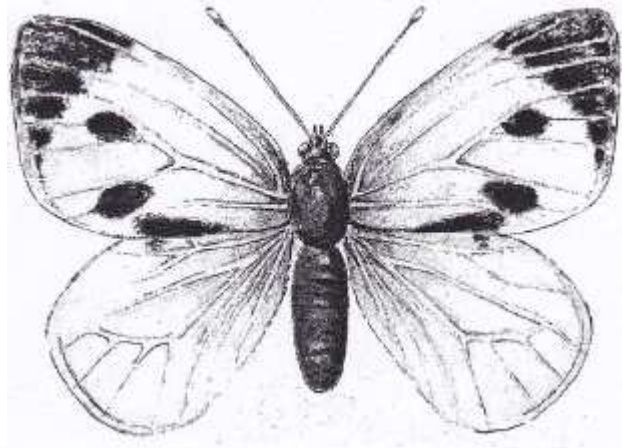
1.



2.




3.



4.



5.



ŘEŠENÍ

1. Z čeho se skládá tělo běláška zelného?

Hlava, pár očí, pár tykadel, sosák, hrud', dva páry velkých křídel, tři páry nohou, zadeček

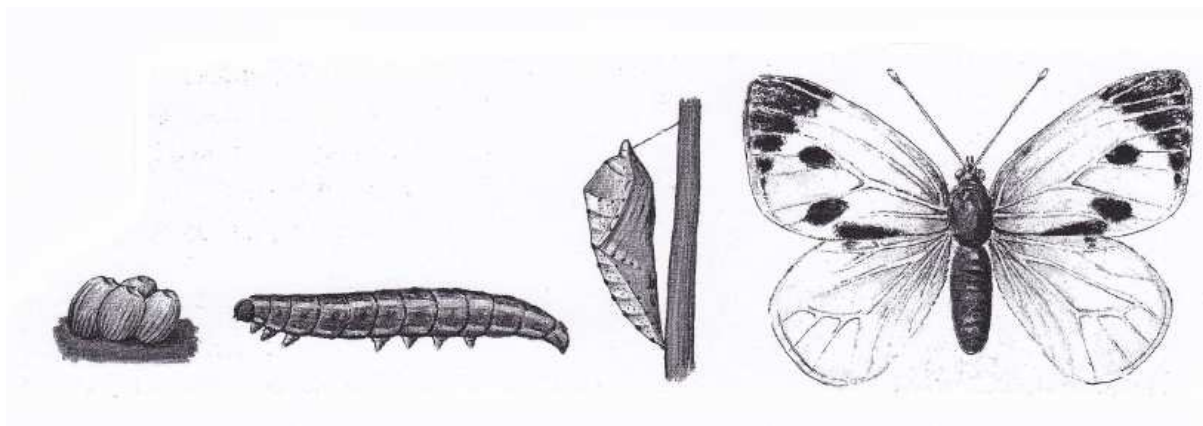
2. Jak se projevuje přemnožení běláška zelného?

Působí škodu na úrodě – zelené listy

3. Čím se živí bělásek zelný?

Živí se okusováním listů, na které byla nakladena jeho vajíčka.

4. Z přílohy vystřihni vývojová stadia, nalep je ve správném pořadí a napiš k nim správná jména.



Vajíčka

housenka

kukla

dospělý jedinec