

Šablona V/2- Inovace a zkvalitnění výuky v oblasti přírodních věd

HMYZ



evropský
sociální
fond v ČR



EVROPSKÁ UNIE



MINISTERSTVO ŠKOLSTVÍ,
MLÁDEŽE A TĚLOVÝCHOVY



OP Vzdělávání
pro konkurenceschopnost

INVESTICE DO ROZVOJE VZDĚLÁVÁNÍ

VY_52_INOVACE_PR5_2_09

Základní škola Moravany, okres Brno-venkov, příspěvková organizace	
ANOTACE	
Šablona:	V/2
Název:	Inovace a zkvalitnění výuky v oblasti přírodních věd
Téma:	Hmyz
	Žáci vyhledají názvy hmyzu v osmisměrce, u neznámých druhů mohou využít encyklopedii. Přiřadí správný název a obrázek.
Autor:	Jana Kroupová
Očekávaný výstup:	Seznámení se s různými druhy hmyzu. Zdokonalování dovedností při práci s encyklopedií.
Klíčová slova:	hmyz
Druh učebního materiálu:	Pracovní list
Cílová skupina:	Žák 1. stupně ZŠ
Typická věková skupina:	5. ročník ZŠ
Použité zdroje a materiály:	<ol style="list-style-type: none">1. http://upload.wikimedia.org/wikipedia/commons/0/0a/Catflea_small.jpg2. http://upload.wikimedia.org/wikipedia/commons/2/22/Praying_mantis_india.jpg3. http://etc.usf.edu/clipart/2100/2198/dragonfly_1.htm4. http://www.guh.cz/edu/bi/biologie_bezobratli/html09/foto_018.html5. http://leccos.com/index.php/clanky/kobylky6. http://upload.wikimedia.org/wikipedia/commons/2/24/Vespula_germanica.jpg7. http://upload.wikimedia.org/wikipedia/commons/f/f8/Formica_rufa_a1.jpg8. http://www.prazskestezky.cz/barrande/z10.html9. http://www.guh.cz/edu/bi/biologie_bezobratli/html09/foto_070.html10. http://www.guh.cz/edu/bi/biologie_bezobratli/html09/foto_060.html11. http://leccos.com/index.php/clanky/belasci



evropský
sociální
fond v ČR



EVROPSKÁ UNIE



MINISTERSTVO ŠKOLSTVÍ,
MLÁDEŽE A TĚLOVÝCHOVY



OP Vzdělávání
pro konkurenceschopnost

INVESTICE DO ROZVOJE VZDĚLÁVÁNÍ

V osmisměrce najdi názvy hmyzu a doplň je k obrázkům. Pracuj s encyklopedií.

M	R	A	V	E	N	E	C	F	I	M	U
CH	A	A	R	O	H	Á	Č	A	T	S	K
F	K	N	V	F	G	I	J	K	P	R	E
U	L	B	D	O	K	Č	É	N	U	L	S
S	Y	CH	N	E	U	B	F	A	V	C	Á
N	B	T	Z	Ž	L	I	V	L	Ž	V	L
V	O	S	A	E	A	I	N	D	Ě	R	Ě
P	K	U	CH	E	S	M	N	U	Ř	Č	B
Š	Í	A	P	Ř	D	L	V	K	Š	E	M
É	Á	M	T	A	V	Á	Ž	K	A	K	L

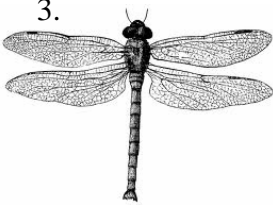
1.




2.




3.



4.



5.




6.



7.




8.



9.



10.



11.



ŘEŠENÍ

V osmisměrce najdi názvy hmyzu a doplň je k obrázkům.

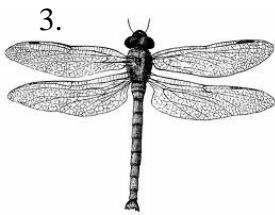
M	R	A	V	E	N	E	Č	F	I	M	U
CH	A	A	R	Ø	H	Á	Ě	A	T	S	K
F	K	N	V	F	G	I	J	K	P	R	E
U	L	B	Ð	Ø	K	Č	Ě	N	U	L	S
S	Y	CH	N	E	U	B	F	A	V	Č	Á
N	B	T	Z	Ž	L	I	V	L	Ž	V	L
V	Ø	S	A	E	A	I	N	Ð	Ě	R	Ě
P	K	U	CH	E	S	M	N	U	Ř	Č	B
Š	Í	A	P	Ř	D	L	V	K	Š	E	M
É	Á	M	T	A	V	Á	Ž	K	A	K	L




blecha



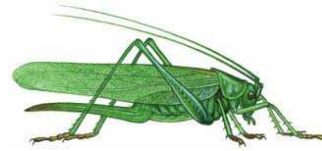
kudlanka



vážka



cvrček



kobylka



vosa




mravenec



roháč



mandelinka



slunéčko



bělásek