

## VY\_32\_INOVACE\_47\_M2

# PROCVIČOVÁNÍ MATEMATIKY 2

**Ročník:** 2.

**Vzdělávací oblast:** Matematika a její aplikace

**Vzdělávací obor:** Matematika

**Téma:** Opakování učiva 2.ročníku

**Vytvořeno:** 8.11.2011

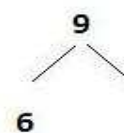
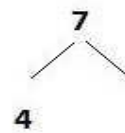
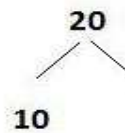
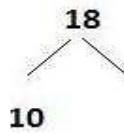
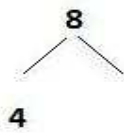
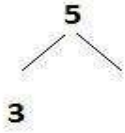
**Anotace( metodický pokyn):** Žáci procvičují rozklad čísel v oboru do dvaceti a názvy geometrických tvarů a těles. Forma prezentace-test. Žáci pracují v pracovním listě.



INVESTICE DO ROZVOJE VZDĚLÁVÁNÍ

## PROCVIČOVÁNÍ MATEMATIKY 2

### Rozlož čísla:




### Napiš správný název ke každému tělesu a geom. tvaru.

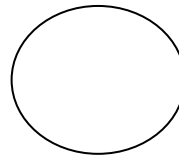
Koule, válec, krychle, kužel kvádr, čtverec, obdelník, trojuhelník, kruh.



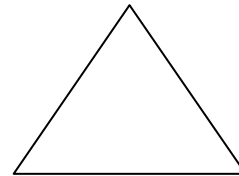
.....




.....




.....



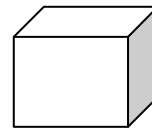
.....



.....



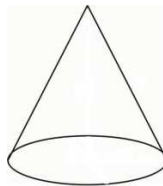
.....



.....



.....



.....