

VY_32_INOVACE_78_PRVD5

Člověk a svět

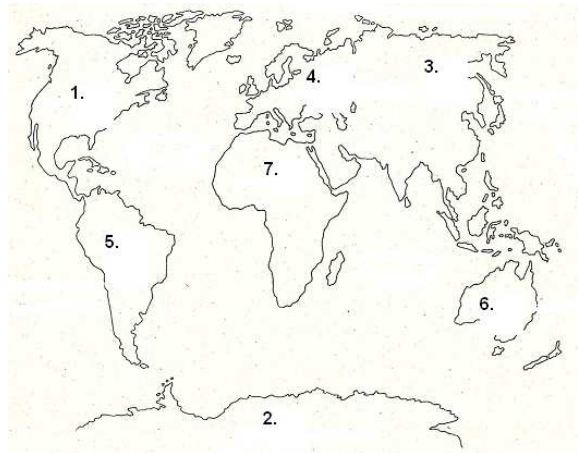


INVESTICE DO ROZVOJE VZDĚLÁVÁNÍ

Člověk a svět

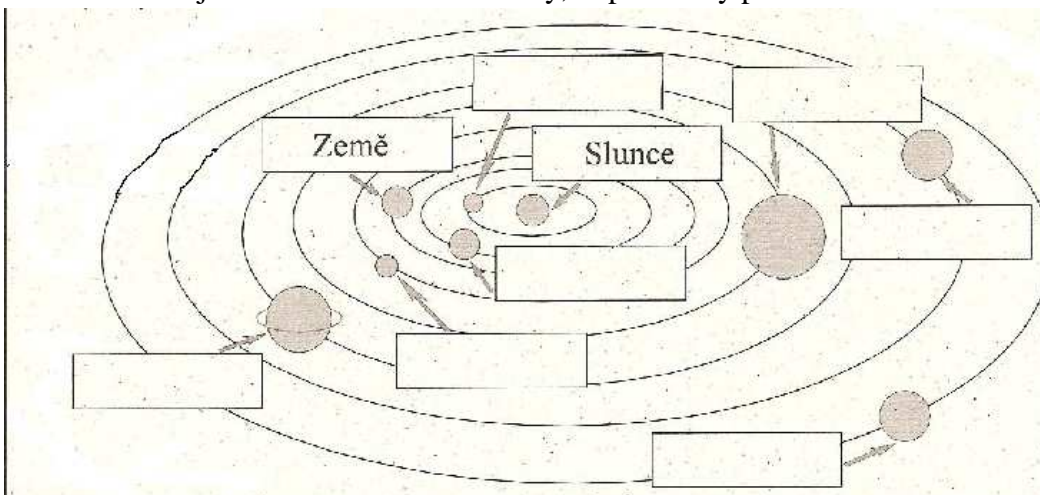
1. Napiš názvy světadílů podle čísel na obrázku:

1. _____
2. _____
3. _____
4. _____
5. _____
6. _____
7. _____



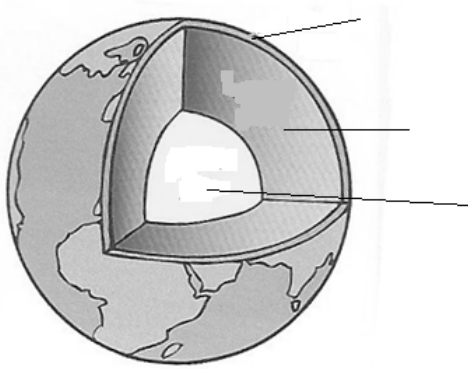
Vybarvi světadíl, na kterém žijeme.

2. Na obrázku je schéma sluneční soustavy, doplň názvy planet



3. Která planeta sluneční soustavy je největší: _____

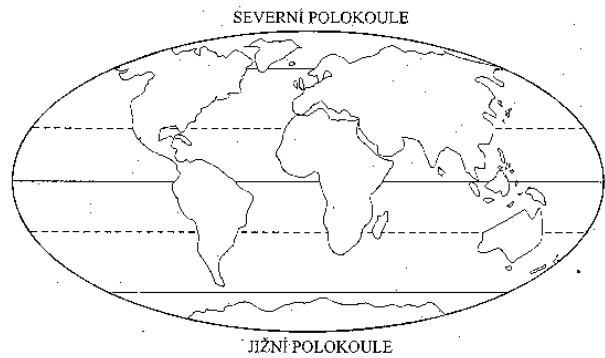
4. a) Popiš stavbu Země.



5. Jak se nazývá vzdušný obal Země: _____

6. a) Co je podnebí? _____

b) do obrázku napiš názvy podnebných pásů.



7. Stručně popiš jednotlivé pásy:

.....pás: _____

.....pás: _____

.....pás: _____

8. Jaké barvy používáme na mapě a co znamenají:

..... -

..... -

..... -

9. Co je atmosféra:.....

10. Co ohrožuje planetu Zemi:.....

.....

.....

....11. Spoj správně

využívá slunce
znečišťuje životní prostředí
potřebuje vítr
využívá řeky

větrná elektrárna
vodní elektrárna
tepelná elektrárna
sluneční elektrárna

neškodí životnímu prostředí
vyrábí nejvíce elektrické energie
nefunguje v bezvětří
Je nejméně škodlivá na životní prostředí