

Šablona III/2 – Inovace a zkvalitnění výuky prostřednictvím ICT

Rozklad čísla 7

Vzdělávací oblast	Matematika a její aplikace
Vzdělávací obor	Matematika
Tematický okruh	Číslo a početní operace
Anotace	Žáci procvičují pamětné počítání v nejnižším číselném oboru.
Klíčová slova	rozklad čísel, dopočítávání
Druh učebního materiálu	DUM -dokument aplikace Smart Notebook
Autor Vytvořeno	Hana Gernešová únor 2012
Cílová skupina/ročník	1.stupeň ZŠ -1.ročník
Použité zdroje a materiál	Galerie Smart Notebook



INVESTICE DO ROZVOJE VZDĚLÁVÁNÍ

Autorem materiálu a všech jeho částí, není-li uvedeno jinak, je PhDr. Hana Gernešová.

Vybarvi správný počet čtverečků.

$$\begin{array}{c} 7 \\ \diagdown \quad \diagup \\ 7 + 0 \end{array}$$



$$\begin{array}{c} 7 \\ \diagdown \quad \diagup \\ 1 + 6 \end{array}$$



$$\begin{array}{c} 7 \\ \diagdown \quad \diagup \\ 2 + 5 \end{array}$$



$$\begin{array}{c} 7 \\ \diagdown \quad \diagup \\ 3 + 4 \end{array}$$



Vybarvi správný počet čtverečků. **Řešení:**

$$\begin{array}{c} 7 \\ \diagdown \quad \diagup \\ 7 + 0 \end{array}$$



$$\begin{array}{c} 7 \\ \diagdown \quad \diagup \\ 1 + 6 \end{array}$$

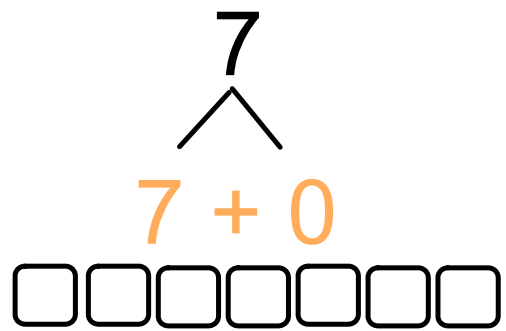
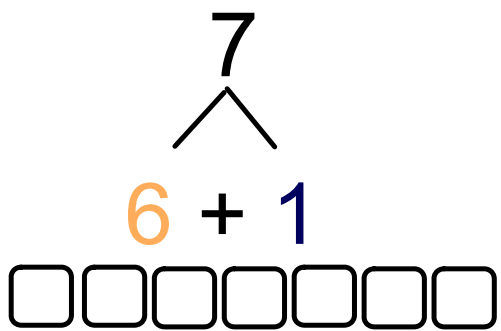
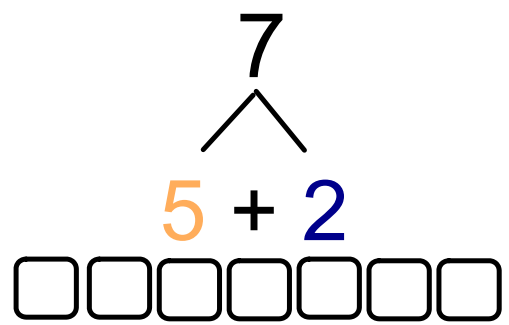
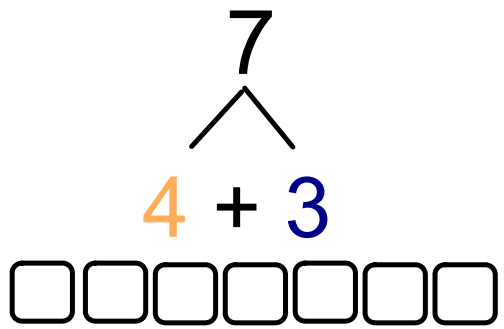


$$\begin{array}{c} 7 \\ \diagdown \quad \diagup \\ 2 + 5 \end{array}$$

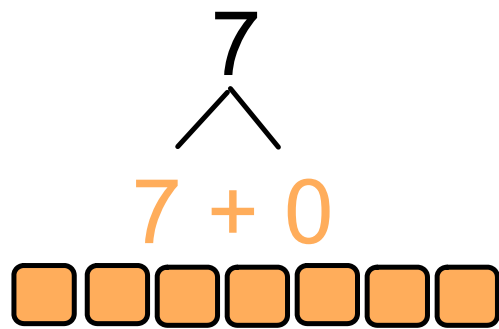
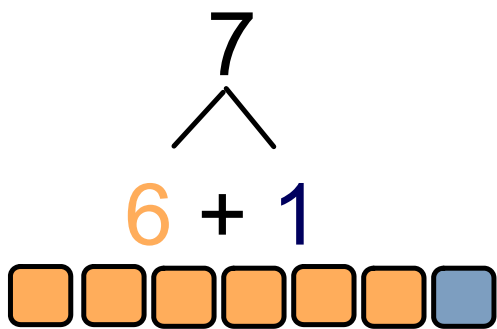
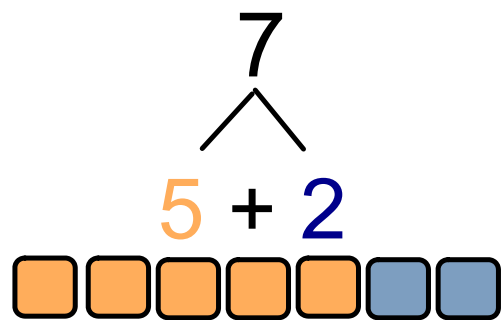
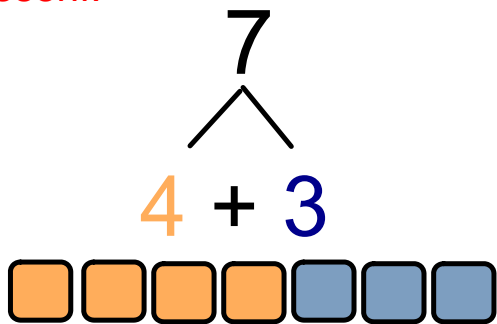


$$\begin{array}{c} 7 \\ \diagdown \quad \diagup \\ 3 + 4 \end{array}$$





Řešení:



Pracovní list

$$\begin{array}{c} 7 \\ \swarrow \quad \searrow \\ 1 + \end{array}$$

$$\begin{array}{c} 7 \\ \swarrow \quad \searrow \\ 2 + \end{array}$$

$$\begin{array}{c} 7 \\ \swarrow \quad \searrow \\ 3 + \end{array}$$

$$\begin{array}{c} 7 \\ \swarrow \quad \searrow \\ 4 + \end{array}$$

$$\begin{array}{c} 7 \\ \swarrow \quad \searrow \\ 5 + \end{array}$$

$$\begin{array}{c} 7 \\ \swarrow \quad \searrow \\ 6 + \end{array}$$

$$\begin{array}{c} 7 \\ \swarrow \quad \searrow \\ 7 + \end{array}$$

$$\begin{array}{c} 7 \\ \swarrow \quad \searrow \end{array}$$

$$\begin{array}{c} 7 \\ \swarrow \quad \searrow \end{array}$$

$$\begin{array}{c} 7 \\ \swarrow \quad \searrow \end{array}$$

$$\begin{array}{c} 7 \\ \swarrow \quad \searrow \end{array}$$

$$\begin{array}{c} 7 \\ \swarrow \quad \searrow \end{array}$$

$$\begin{array}{c} 7 \\ \swarrow \quad \searrow \end{array}$$

$$\begin{array}{c} 7 \\ \swarrow \quad \searrow \end{array}$$

$$\begin{array}{c} 7 \\ \swarrow \quad \searrow \end{array}$$



Umíš dopsat správná čísla?

Pracovní list

Řešení části s červenými čísly.
V další části pracovního listu je více
možností správného řešení.

$$\begin{array}{c} 7 \\ \swarrow \quad \searrow \\ 1 + 6 \end{array}$$

$$\begin{array}{c} 7 \\ \swarrow \quad \searrow \\ 2 + 5 \end{array}$$

$$\begin{array}{c} 7 \\ \swarrow \quad \searrow \\ 3 + 4 \end{array}$$

$$\begin{array}{c} 7 \\ \swarrow \quad \searrow \\ 4 + 3 \end{array}$$

$$\begin{array}{c} 7 \\ \swarrow \quad \searrow \\ 5 + 2 \end{array}$$

$$\begin{array}{c} 7 \\ \swarrow \quad \searrow \\ 6 + 1 \end{array}$$

$$\begin{array}{c} 7 \\ \swarrow \quad \searrow \\ 7 + 0 \end{array}$$

$$\begin{array}{c} 7 \\ \swarrow \quad \searrow \\ 0 \quad 7 \end{array}$$

$$\begin{array}{c} 7 \\ \swarrow \quad \searrow \\ 1 \quad 6 \end{array}$$

$$\begin{array}{c} 7 \\ \swarrow \quad \searrow \\ 2 \quad 5 \end{array}$$

$$\begin{array}{c} 7 \\ \swarrow \quad \searrow \\ 3 \quad 4 \end{array}$$

$$\begin{array}{c} 7 \\ \swarrow \quad \searrow \\ 4 \quad 3 \end{array}$$

$$\begin{array}{c} 7 \\ \swarrow \quad \searrow \\ 5 \quad 2 \end{array}$$

$$\begin{array}{c} 7 \\ \swarrow \quad \searrow \\ 6 \quad 1 \end{array}$$

$$\begin{array}{c} 7 \\ \swarrow \quad \searrow \\ 7 \quad 0 \end{array}$$



Umíš dopsat správná čísla?