

Šablona III/2 – Inovace a zkvalitnění výuky prostřednictvím ICT

Vláčky

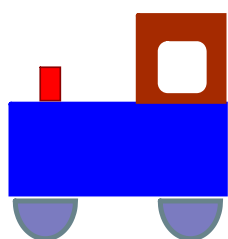
Vzdělávací oblast	Matematika a její aplikace
Vzdělávací obor	Matematika
Tematický okruh	Číslo a početní operace
Anotace	Žáci provádějí z paměti jednoduché početní operace s přirozenými čísly, procvičují pamětné sčítání a odčítání v oboru čísel 0 - 20. Vyhledávají a třídí informace.
Klíčová slova	sčítání, odčítání, třídění informací
Druh učebního materiálu	DUM -dokument aplikace Smart Notebook
Autor	Hana Gernešová
Vytvořeno	únor 2012
Cílová skupina/ročník	1.stupeň ZŠ -1.ročník
Použité zdroje a materiál	Obrázky: autor



INVESTICE DO ROZVOJE VZDĚLÁVÁNÍ

Autorem materiálu a všech jeho částí, není-li uvedeno jinak, je PhDr. Hana Gernešová.

Na každém vagóně je příklad. Vypočítej ho a seřad' vagóny podle výsledku od nejmenšího po největší.



$10-4=$

$6+4=$

$7-4=$

$4+3=$

$8-6=$

$2+6=$

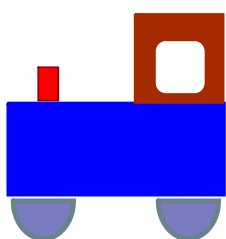
$5+4=$

$9-5=$

$3-2=$

$2+3=$

Na každém vagóně je příklad. Vypočítej ho a seřad' vagóny podle výsledku od nejmenšího po největší.



$$3-2=1$$

$$8-6=2$$

$$7-4=3$$

$$9-5=4$$

$$2+3=5$$

$$10-4=6$$

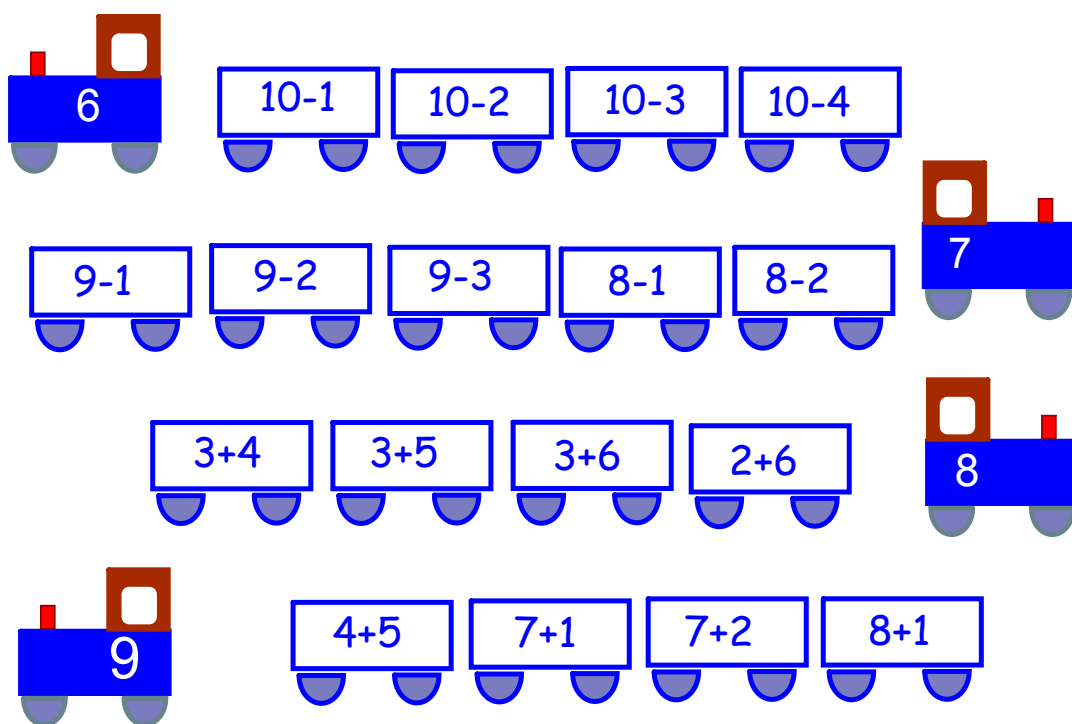
$$4+3=7$$

$$2+6=8$$

$$5+4=9$$

$$6+4=10$$

Sestav vlaky tak, aby v každém z nich byly jen ty vagóny, na kterých je příklad se stejným výsledkem, jako je číslo na lokomotivě.



Sestav vlaky tak, aby v každém z nich byly jen ty vagóny, na kterých je příklad se stejným výsledkem, jako je číslo na lokomotivě.

