



evropský
sociální
fond v ČR



EVROPSKÁ UNIE



OP Vzdělávání
pro konkurenceschopnost

INVESTICE DO ROZVOJE VZDĚLÁVÁNÍ

VY_32_INOVACE_05_01_M

POČÍTÁME S FERDOU



Téma	Počítáme s Ferdou
Anotace	Materiál slouží jako příprava pro učitele a jako prezentace při opakování učiva
Autor	Mgr.Beata Forbergerová
Jazyk	čeština
Očekávaný výstup	Žák se seznámí s probíraným učivem, na základě prezentace
Speciální vzdělávací potřeby	- žádné -
Klíčová slova	Rozklad čísel,sčítání, odčítání
Druh učebního materiálu	Prezentace Power Point
Druh interaktivity	Vzdělávání žáků prostřednictvím digitálních technologií .
Cílová skupina	Žák
Stupeň a typ vzdělávání	1. stupeň , 1. období
Typická věková skupina	7-9 let
Celková velikost	631 kB

Odkazy:

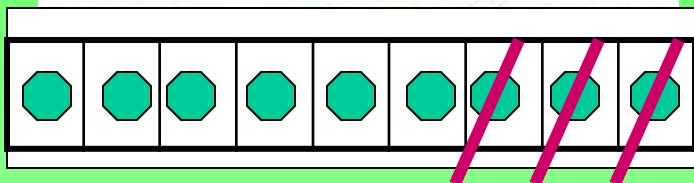

<http://clanky.iobchody.com/proc-cesti-vyrobci-hracek-krachuji/>

<http://www.i-creative.cz/2008/10/16/ferda-mravenec-omalovanky/>

<http://www.stastnezeny.cz/index.asp?tot0=271&pgf0=200&menu=1310>

SPOČÍTEJ KOLIK ZVÍŘÁTEK JE NA OBRÁZKU
A VYMALUJ OBRÁZEK





Na louce je 9 broučků, 3 se schovali pod list. Kolik broučků zůstalo na louce ?

Na louce	9
----------	---

Pod listem	3
------------	---

zůstalo	?
---------	---

$$9 - 3 = 6$$

Na louce zůstalo 6 broučků.



Spočítej:

Žluté kytky

Fialové kytky.....

Červené kytky.....

Růžové kytky.....

Počítej s Ferdou

$$4 + 4 = \quad 5 + 1 = \quad 6 + 4 =$$

$$2 + 3 = \quad 3 + 3 = \quad 7 + 1 =$$

$$10 - 8 = \quad 8 - 5 = \quad 9 - 3 =$$

$$5 - 2 = \quad 7 - 6 = \quad 4 - 1 =$$



PRACOVNÍ LISTY



Spočítej:


Žluté kytky

Fialové kytky

Červené kytky

Růžové kytky

Na louce je 9 broučků, 3 se schovali pod list. Kolik broučků zůstalo na louce ?



9

$4 + 4 =$ $5 + 1 =$ $6 + 4 =$

$2 + 3 =$ $3 + 3 =$ $7 + 1 =$

$10 - 8 =$ $8 - 5 =$ $9 - 3 =$

$5 - 2 =$ $7 - 6 =$ $4 - 1 =$