

# Matematika pro 1. třídu

## o x méně, více.....

/ Žáci vypracovávají stejné úkoly v učebnici  
matematiky pro 1. ročník /

## Méně, více...

|                                     |  |
|-------------------------------------|--|
| <b>Téma</b>                         | Matematika o x méně,více - 1.třída   |
| <b>Anotace</b>                      | Materiál slouží jako příprava pro učitele a jako prezentace při seznámení žáků s učivem. úvodním |
| <b>Autor</b>                        | <b>Mgr.Beata Forbergerová</b>  |
| <b>Jazyk</b>                        | čeština  |
| <b>Očekávaný výstup</b>             | Žák se seznámí s probíraným učivem, na základě prezentace  |
| <b>Speciální vzdělávací potřeby</b> | - žádné -  |
| <b>Klíčová slova</b>                | Rozklad čísel,sčítání, odčítání  |
| <b>Druh učebního materiálu</b>      | Prezentace Power Point   |
| <b>Druh interaktivity</b>           | Vzdělávání žáků prostřednictvím digitálních technologií .  |
| <b>Cílová skupina</b>               | Žák  |
| <b>Stupeň a typ vzdělávání</b>      | 1. stupeň , 1. období  |
| <b>Typická věková skupina</b>       | 7-9 let  |
| <b>Celková velikost</b>             | 812 kB   |

Odkazy:

<http://office.microsoft.com/cs-cz/images/results.aspx?qu=domek&ex=1&ctt=1#ai:MC900215206>

<http://office.microsoft.com/cs-cz/images/results.aspx?qu=euro&ctt=1#ai:MC900346491|mt:1>

<http://office.microsoft.com/cs-cz/images/results.aspx?qu=srdce&ctt=1#ai:MC900431551|mt:1>

<http://office.microsoft.com/cs-cz/images/results.aspx?qu=hru%C5%A1ka&ctt=1#ai:MC900436906|mt:1>

<http://office.microsoft.com/cs-cz/images/results.aspx?qu=jahoda&ex=1&ctt=1#ai:MC900246099|mt:1>

<http://office.microsoft.com/cs-cz/images/results.aspx?qu=vlo%C4%8Dka&ctt=1#ai:MC900331899|mt:1>


<http://office.microsoft.com/cs-cz/images/results.aspx?qu=dort&ctt=1#ai:MC900410487|mt:1>



o 2 méně



o 4 méně



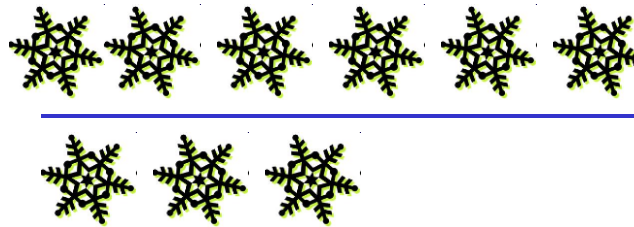
Nakresli tolik kytíček jako je na horním řádku




Nakresli o 4  méně než je na horním řádku




Nakresli o 5  méně než je na horním řádku



Nakresli o 3  méně než je na horním řádku


*Radka má 7 jahod. Lída má o 3 jahody méně než Radka.  
Kolik jahod má Lída ?*



*Radka*                    7  
*Lída*                     $7 - 3 =$  4

*Lída má*                    4                    *jahody.*

*Filip má 9 korun. David má o 2 koruny méně než Filip.  
Kolik korun má David ?*



Filip 9

David  $9 - 2 = 7$

*David má 7 korun .*