

Sčítání v oboru čísel do 7 /matematika 1.třída/

7

7

7

7

7

7

7

Téma	Sčítání, odčítání v prvním ročníku
Anotace	Materiál slouží jako příprava pro učitele a jako prezentace při úvodním seznámení žáků s učivem.
Autor	Mgr. Beata Forbergerová
Jazyk	čeština
Očekávaný výstup	Žák se seznámí s novým učivem na základě prezentace
Speciální vzdělávací potřeby	- žádné -
Klíčová slova	Číslo 7 sčítání
Druh učebního materiálu	Prezentace Power Point
Druh interaktivity	Vzdělávání žáků prostřednictvím digitálních technologií .
Cílová skupina	Žák
Stupeň a typ vzdělávání	1. stupeň , 1. období
Typická věková skupina	6 -9 let
Celková velikost	332 kB

<http://office.microsoft.com/cs-cz/images/results.aspx?qu=paprika&ex=2#ai:MC900424852> | mt:1 |

<http://office.microsoft.com/cs-cz/images/results.aspx?qu=raj%C4%8De&ex=1#ai:MC900424872> | mt:1 |

<http://office.microsoft.com/cs-cz/images/results.aspx?qu=houba&ex=1#ai:MC900424856> | mt:1 |

<http://office.microsoft.com/cs-cz/images/results.aspx?qu=mrkev&ex=1#ai:MC900424842> | mt:1 |

<http://office.microsoft.com/cs-cz/images/results.aspx?qu=%C5%99edkvi%C4%8Dka&ex=1#ai:MC900424868> | mt:1 |

<http://office.microsoft.com/cs-cz/images/results.aspx?qu=okurka&ex=1#ai:MC900424864> | mt:1 |



<http://office.microsoft.com/cs-cz/images/results.aspx?qu=obli%C4%8Dej&ex=1#ai:MC900423860> | mt:1 |

<http://office.microsoft.com/cs-cz/images/results.aspx?qu=s%C3%BDkorka&ex=1#ai:MC900109229> |

<http://office.microsoft.com/cs-cz/images/results.aspx?qu=pt%C3%A1k&ex=1#ai:MC900151195> | mt:1 |


<http://office.microsoft.com/cs-cz/images/results.aspx?qu=hlem%C3%BD%C5%BE%C4%8F&ex=1#ai:MC900238187> | mt:1 |

<http://office.microsoft.com/cs-cz/images/results.aspx?qu=hlem%C3%BD%C5%BE%C4%8F&ex=1#ai:MC900290454> | mt:1 |



$$4 + 3 = 7$$

$$5 + 2 = 7$$



$$6 + 1 = 7$$








Znázorni a vypočítej

$5 + 2 = 7$	
$1 + 6 = 7$	
$3 + 4 = 7$	
$2 + 5 = 7$	
$4 + 3 = 7$	

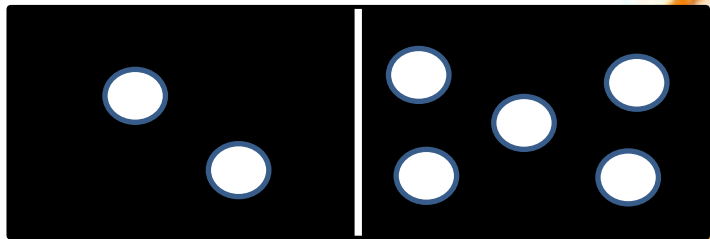


Opakovaně procvičuj

	$1 + 6 = 7$
	$5 + 2 = 7$
	$2 + 5 = 7$
	$4 + 3 = 7$
	$6 + 1 = 7$




Vypočítej




$$2 + 5 = 7$$

$$5 + 2 = 7$$




$$4 + 3 = 7$$

$$3 + 4 = 7$$



$$1 + 6 = 7$$

$$6 + 1 = 7$$



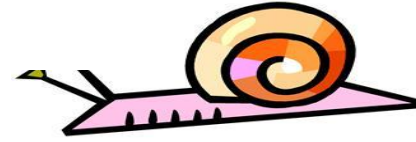
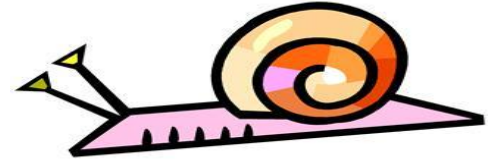
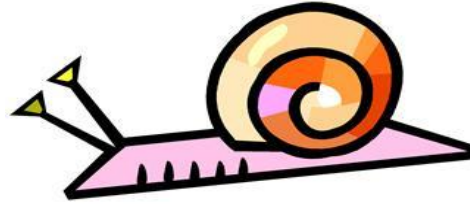
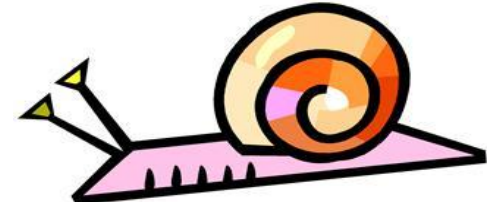
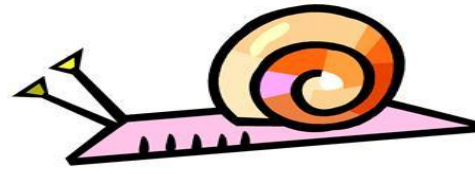
Znázorni :




Vypočítej : $4 + 3 = 7$

Je tam **7** ptáků.

Na louce je



Znázorni : 

Vypočítej : $2 + 5 = 7$

Celkem je 7 hlemýždů.